

الاعداد الحقيقية ونظرية فيثاغورس

اضغط على الدرس من خلال الفهرس للانتقال اليه مباشرة



التهيئة	1
الجزور التربيعية	2
تقدير الجزور التربيعية	3
استراتيجية حل المسألة	4
الاعداد الحقيقية	5
اختبار منتصف الفصل	6
نظرية فيثاغورس	7
تطبيقات على نظرية فيثاغورس	8
هندسة الابعاد في المستوى الاحداثي	9
اختبار الفصل	10



التهيئة

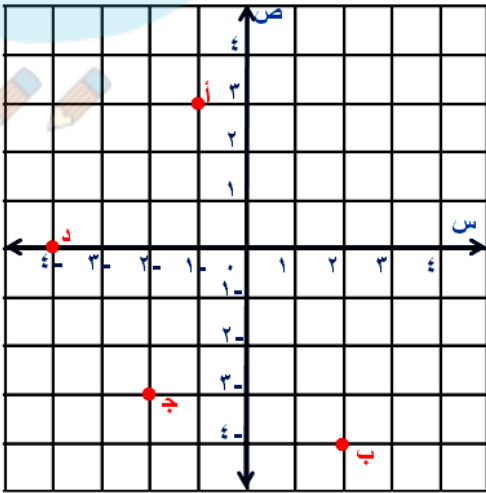
عين كل نقطة مما يأتي في المستوى الإحداثي: (مهارة سابقة)

أ (٣، ١-)

ب (٤-، ٢)

ج (٣-، ٢-)

د (٠، ٤-)



احسب قيمة كل عبارة مما يأتي: (الدرس ١ - ٨)

$$٢٤ + ٢٢$$

$$١٦ + ٤ = ٢٤ + ٢٢$$

$$٢٠ =$$

بسط

$$٢٣ + ٢٣$$

$$٩ + ٩ = ٢٣ + ٢٣$$

$$١٨ =$$

بسط

$$٢٨ + ٢١٠$$

$$٦٤ + ١٠٠ = ٢٨ + ٢١٠$$

بسط

$$١٦٤ =$$



دروني

$$٢٥ + ٢٧ = ٧٤$$

$$٢٥ + ٤٩ = ٢٥ + ٢٧$$

بسط

$$٧٤ =$$

٩ أعمار: احسب مجموع مربعي عمر عائشة وأخيها حسين، إذا كان عمر عائشة ١٣ سنة وعمر حسين ١٥ سنة. (الدرس ١ - ٨)

$$٢٢٥ + ١٦٩ = ٢١٥ + ٢١٣$$

$$٣٩٤ =$$



حل كل معادلة مما يأتي، وتحقق من حلك: (مهارة سابقة)



$$٤٥ = ١٣ + س$$

$$٤٥ = ١٣ + س$$

$$١٣ - ١٣ -$$

$$٣٢ = س$$

$$71 = 56 + 15$$

$$\begin{array}{r} 71 = 56 + 15 \\ 56 - 56 - \\ \hline 15 = 15 \end{array}$$

$$101 = 39 + 62$$

$$\begin{array}{r} 101 = 39 + 62 \\ 39 - 39 - \\ \hline 62 = 62 \end{array}$$

دروانی



$$m + 45 = 62 \quad 13$$

$$\begin{array}{r} m + 45 = 62 \\ \underline{45 - 45} \\ m = 17 \end{array}$$

١٤ كرات : مع عمر ١٨ كرة أكثر من سعيد. إذا كان مع

عمر ٩٢ كرة، فكم كرة مع سعيد؟ (مهارة سابقة)

عدد الكرات مع سعيد = س

$$\begin{array}{r} 92 = 18 + \text{س} \\ \underline{18 - 18} \\ 74 = \text{س} \end{array}$$



الجدور التريعية

١-٢



أكمل نمط البلاطات المربعة الآتي حتى تصل إلى
٥ بلاطات في كل ضلع.

١ انسخ الجدول الآتي، وأكمه.

٥	٤	٣	٢	١	عدد البلاطات في كل ضلع
			٤	١	العدد الكلي للبلاطات مرتبة في المربع



٢ افترض أن مربعاً فيه ٣٦ بلاطة. ما عدد البلاطات في كل ضلع؟

٣ ما العلاقة بين عدد البلاطات على كل ضلع وعدد البلاطات في المربع؟

(١)

٥	٤	٣	٢	١	عدد البلاطات في كل ضلع
٢٥	١٦	٩	٤	١	العدد الكلي للبلاطات مرتبة في المربع

(٢) ٦ بلاطات.

(٣) مربع عدد البلاطات على كل ضلع يساوي عدد البلاطات في المربع.



تحقق

أوجد الجذور التربيعية الآتية:

$$\sqrt{\frac{9}{16}}$$

$\sqrt{\frac{9}{16}}$ يشير إلى الجذر التربيعي الموجب للعدد $\frac{9}{16}$

بما أن $\frac{9}{16} = \left(\frac{3}{4}\right)^2$ ، فإن $\sqrt{\frac{9}{16}} = \frac{3}{4}$

$$(ب) \sqrt{49}$$

– $\sqrt{49}$ يشير إلى الجذر التربيعي السالب

بما أن $49 = 7^2$ ، فإن $\sqrt{49} = -7$

$$(ج) \pm \sqrt{0,81}$$

$\pm \sqrt{0,81}$ يشير إلى الجذرين التربيعيين الموجب و السالب

$$\text{بما أن } 29 = 81, 100 = 210,$$

$$\text{فإن } \pm \sqrt{0,81} = \pm 0,9$$

حل كل معادلة مما يأتي، وتحقق من حلك:

$$(د) x^2 = 289$$

تعريف الجذر التربيعي

$$x^2 = 289$$

$$x = 17, -17$$

$$\text{تحقق: } 289 = 17 \times 17, 289 = 17 - \times 17 -$$



ه) $0,09 = 3^2$

م $\pm = \sqrt{0,09}$

م $\pm = (0,3)$

تحقق: $0,09 = 0,3 \times 0,3$ ، $0,09 = 0,3 \times 0,3$

و) $\frac{4}{25} = 2^2$

ص $\pm = \sqrt{\frac{4}{25}}$

ص $\pm = \frac{2}{5}$

تحقق:

$\frac{4}{25} = \left(\frac{2}{5}\right)^2$ ، $\frac{4}{25} = \left(\frac{2}{5}\right)^2$

ز) تم ترتيب ٩٠٠ مقعد في حفل مسرحي على شكل مربع. ما عدد المقاعد في كل صف؟

مساحة المربع = مربع طول الضلع

طول الضلع = س

$$س^2 = ٩٠٠$$

$$س = \sqrt{٩٠٠}$$

$$س = ٣٠$$

عدد المقاعد في كل صف = ٣٠ مقعد





الأمثلة ١ - ٣

أوجد الجذور التربيعية الآتية:

$$\sqrt{25}$$

نأشير إلى الجذر التربيعي الموجب

$$\text{بما أن } 25 = 5^2 \text{ فإن } \sqrt{25} = 5$$



$$\sqrt{0,64}$$

نأشير إلى الجذر التربيعي الموجب

$$\text{بما أن } 0,64 = (0,8)^2 \text{ فإن } \sqrt{0,64} = 0,8$$



$$\sqrt{-1,69} \quad 2$$

- $\sqrt{1,69}$ يشير إلى الجذر التربيعي السالب
بما أن $1,69 = (1,3)^2$ فإن $\sqrt{-1,69} = -1,3$

$$\sqrt{-\frac{16}{81}} \quad 3$$

- $\sqrt{\frac{16}{81}}$ يشير إلى الجذر التربيعي السالب

بما أن $\frac{16}{81} = \left(\frac{4}{9}\right)^2$ فإن $\sqrt{-\frac{16}{81}} = -\frac{4}{9}$



$$\pm \sqrt{100} \quad \text{⑤}$$

$\pm \sqrt{100}$ يشير إلى الجذرين التربيعين الموجب و السالب

$$\text{بما أن } 100 = 10^2 \text{ فإن } \pm \sqrt{100} = \pm 10$$

$$\pm \sqrt{\frac{49}{144}} \quad \text{⑥}$$

$\pm \sqrt{\frac{49}{144}}$ يشير إلى الجذرين التربيعين الموجب و السالب

$$\text{بما أن } \frac{49}{144} = \left(\frac{7}{12}\right)^2 \text{ فإن } \pm \sqrt{\frac{49}{144}} = \pm \frac{7}{12}$$



حل كل معادلة مما يأتي، وتحقق من حلك. جبر

المثال ٤

$$٧ \text{ ف } ٦ = ٣٦$$

$$\text{ف} = \pm \sqrt{36}$$

$$\text{ف} = ٦ \text{ أو } -٦$$

$$٨ \text{ ن } ٦ = \frac{١}{٩}$$

$$\text{ن} = \pm \sqrt{\frac{1}{9}}$$

$$\text{ن} = \frac{1}{3} \text{ أو } -\frac{1}{3}$$

$$\frac{1}{9} = \left(\frac{1}{3}\right)^2 \text{ @ } \frac{1}{9} = \left(\frac{1}{3}\right)^2$$

$$r^2 = 6,25 \quad ٩$$

$$r = \pm \sqrt{6,25}$$

$$r = 2,5 \text{ أو } -2,5$$

$$6,25 = (2,5)^2 \text{ ، } -6,25 = (-2,5)^2$$

المثال ٥

١٠ **تبليط** : تم تبليط أرضية غرفة مربعة الشكل بـ ٧٢ بلاطة بيضاء اللون و ٧٢ بلاطة صفراء اللون ، ما عدد البلاطات في كل صف ؟

$$\text{العدد الكلي للبلاطات} = 72 + 72 = 144$$

$$\text{مساحة المربع} = \text{مربع طول الضلع}$$

$$\text{طول الضلع} = s$$

$$s^2 = 144$$

$$s = \sqrt{144}$$

$$s = 12$$

عدد البلاطات في كل صف ١٢ بلاطة.

تدرب وحل المسائل:



أوجد الجذور التربيعية الآتية:

$$\sqrt{16}$$

$\sqrt{16}$ يشير إلى جذر تربيعي موجب

$$\text{بما أن } 4^2 = 16$$

$$\text{فإن } \sqrt{16} = 4$$

درواني

$$\sqrt{-81}$$

- $\sqrt{81}$ يشير إلى الجذر التربيعي السالب

$$\text{بما أن } 9^2 = 81 \text{ فإن } -\sqrt{81} = -9$$



$$\pm \sqrt{36} \quad 13$$

$\pm \sqrt{36}$ يشير إلى الجذرين التربيعين الموجب و السالب

$$\text{بما أن } 36 = 6^2 \text{ فإن } \pm \sqrt{36} = \pm 6$$

$$\sqrt{\frac{121}{324}} \quad 14$$

$\frac{121}{324}$ يشير إلى الجذر التربيعي الموجب

$$\frac{121}{324} = \left(\frac{11}{18}\right)^2 \text{ بما أن}$$

$$\frac{11}{18} = \sqrt{\frac{121}{324}} \text{ فإن}$$



$$\sqrt{\frac{64}{225}} - 15$$

يشير إلى الجذر التربيعي السالب $\sqrt{\frac{64}{225}}$ -

بما أن $\frac{64}{225} = \left(\frac{8}{15}\right)^2$ ، فإن $\sqrt{\frac{64}{225}} = \frac{8}{15}$ -

$$\sqrt{\frac{9}{49}} \pm 16$$

يشير إلى الجذرين التربيعين الموجب و السالب $\sqrt{\frac{9}{49}}$ ±



بما أن $\frac{9}{49} = \left(\frac{3}{7}\right)^2$ فإن $\sqrt{\frac{9}{49}} = \frac{3}{7}$ ±

$$\sqrt{2,56} \quad 17$$

نأ $\sqrt{2,56}$ يشير إلى الجذر التربيعي السالب
 بما أن $2,56 = (1,6)^2$ فإن $\sqrt{2,56} = 1,6$

$$\sqrt{0,25} \quad 18$$

نأ $\sqrt{0,25}$ يشير إلى الجذر التربيعي الموجب
 بما أن $0,25 = (0,5)^2$ فإن $\sqrt{0,25} = 0,5$



حل كل معادلة مما يأتي، وتحقق من حلك:

$$١٩ \quad ٨١ = ٢ن$$

$$ن \pm = \sqrt{81}$$

$$ن = ٩ \text{ أو } -٩$$

$$٨١ = ٢٩ \quad ، \quad ٨١ = ٢(٩) -$$

$$٢٠ \quad ١٠٠ = ٢ب$$

$$ب \pm = \sqrt{100}$$

$$ب = ١٠ \text{ أو } -١٠$$

$$١٠٠ = ٢١٠ \quad ، \quad ١٠٠ = ٢(١٠) -$$



$$س^2 = 144 \quad 21$$

$$\pm \sqrt{144} = س$$

$$س = 12 \text{ أو } -12$$

$$144 = 2^2(12) \text{ ، } 144 = 2^2(12)$$

$$ص^2 = 225 \quad 22$$

$$\pm \sqrt{225} = ص$$

$$ص = 15 \text{ أو } -15$$

$$225 = 2^2(15) \text{ ، } 225 = 2^2(15)$$



$$\frac{36}{100} = 2 \text{ ك } \textcircled{23}$$

$$\frac{36}{100} \text{ ن } \pm = \text{ك}$$

$$\frac{6}{10} - \text{ أو } \frac{6}{10} = \text{ك}$$

$$2 \text{ ج } = \frac{9}{64} \text{ ن } \textcircled{24}$$

$$2 \text{ ج } = \frac{9}{64} \text{ ن}$$

$$\frac{3}{8} - \text{ أو } \frac{3}{8} = \text{ج}$$

$$\frac{9}{64} = 2 \left(\frac{3}{8} - \right) , \quad \frac{9}{64} = 2 \left(\frac{3}{8} - \right)$$

$$d^2 = 0,0169 \quad 25$$

$$d = \pm \sqrt{0,0169}$$

$$d = 0,13 \quad \text{أو} \quad d = -0,13$$

$$0,0169 = (0,13)^2, \quad 0,0169 = (-0,13)^2$$

$$1,21 = 11^2 \quad 26$$

$$a = \pm \sqrt{1,21}$$

$$a = 1,1 \quad \text{أو} \quad a = -1,1$$



٣٧ عروض رياضية : ترغب مدرسة في ترتيب طلابها في أثناء العرض الرياضي على شكل مربع. إذا كان عدد طلابها ٢٢٥ طالباً، فكم طالباً يجب أن يكون في كل صف؟

$$\text{عدد الطلاب (س)}^2 = 225$$

$$\text{عدد الطلاب في كل صف (س)} = \sqrt{225}$$

$$\sqrt{225} =$$

$$\text{س} = 15$$

حل كل معادلة مما يأتي، وتحقق من حلك:

جبر

$$\sqrt{s} = 5 \quad ٣٨$$

$$(n+5)^2 = 25$$

$$\text{س} = 25$$

$$\sqrt{25} = 5$$



$$20 = \sqrt{ص} \quad \text{۲۹}$$

$$^2(20) = ^2(ناص)$$

$$ص = 400$$

$$10,5 = \sqrt{ع} \quad \text{۳۰}$$

$$^2(10,5) = ^2(ع)$$

$$ع = 110,25$$

دروانی



قياس

صيغة محيط المربع هي $مح = 4س$ ، حيث $س$ طول الضلع. أوجد محيط المربعات

الآتية:

المساحة =
١٢١ سم^٢

٣١

المساحة = ١٢١ سم^٢

س^٢ = ١٢١ سم^٢

س = $\sqrt{121}$ = ١١ سم

مح = ٤ × س = ٤ × ١١

= ٤٤ سم



المساحة =
م^۲ ۲۵

المساحة = م^۲ ۲۵

س^۲ = ۲۵

س = ۵ م

مح = ۴ × س = ۴ × ۵

= ۲۰ م



۳۳

المساحة =
م^۲ ۳۶

المساحة = م^۲ ۳۶

س^۲ = ۳۶

س = $\sqrt{36}$

س = ۶ م

مح = ۴ × س = ۴ × ۶

= ۲۴ م



مسائل مهارات التفكير العليا:

تحدي: احسب قيمة كل مما يأتي:

٣٤

$$(i) \sqrt{36}$$

$$\sqrt{36} \times \sqrt{36} = \sqrt{36^2}$$

$$= 36$$

$$(b) \sqrt{\frac{25}{81}}$$

$$\sqrt{\frac{25}{81}} \times \sqrt{\frac{25}{81}} = \sqrt{\left(\frac{25}{81}\right)^2}$$

$$= \frac{25}{81}$$

ج) $(\sqrt{s})^2$

$$(\sqrt{s})^2 = \sqrt{s} \times \sqrt{s}$$

س =

٣٥ **الحس العددي:** ما الشرط اللازم لصحة المتباينة: $\sqrt{s} < \sqrt{25}$ ؟

أن تكون قيمة س < 25

٣٦ **الكتب:** مسألة من واقع الحياة تتطلب حلها استعمال الجذر التربيعي، ثم حلها.


اكتب:

غرفة صفاء على شكل مربع، احسب بعدي الغرفة إذا عرفت أن مساحة الغرفة ٣٦ متر مربع.

تدريب على اختبار



٣٧ إذا كانت مساحة كل مربع في المخطط أدناه
١٦ وحدة مربعة



فما محيط هذا المخطط؟

- (أ) ٤٨ وحدة مربعة (ج) ٣٢ وحدة مربعة
(ب) ٤٠ وحدة مربعة (د) ١٦ وحدة مربعة

طول ضلع المربع = $\sqrt{16} = 4$

محيط المخطط = $4 \times 12 = 48$ وحدة

الاختيار الصحيح: (أ)



إذا كانت مزرعة عبد العزيز مربعة الشكل ، وكان أطوال كل من أضلاعها عدد كليّ، فأَيّ مما يأتي يمكن أن يكون قياس مساحة المزرعة ؟

(أ) 164000 م^2

(ب) 170150 م^2

(ج) 170586 م^2

(د) 174724 م^2

ن $174724 = 418$ و هو عدد كلي

الاختيار الصحيح: (د)

دروني



٣,٨٥ - ٣,٨ - (٤٨)

$\frac{8}{9} - \text{ } \frac{5}{9} - \text{ } (٤٧)$

١,٦٧ ١,٦ (٤٦)

$1,67 > 1,6$ (٤٦)

$\frac{8}{9} - < \frac{5}{9} -$ (٤٧)

$3,85 - > 3,8 -$ (٤٨)

الاستعداد للدرس اللاحق

مهارة سابقة: بين أي عددين مربعين كاملين يقع كل من الأعداد التالية:

٦٨ (٥٠)

٥٧ (٤٩)

$49 < 57 < 64$ (٤٩)

$27 < 57 < 28$

$64 < 68 < 81$ (٥٠)

$28 < 68 < 29$

٤٠ (٥٢)

٣٣ (٥١)

$25 < 33 < 36$ (٥١)

$25 < 33 < 26$

$36 < 40 < 49$ (٥٢)

$26 < 40 < 27$

تقدير الجذور التربيعية

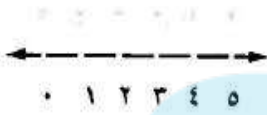
٢-٢

نشاط:



ارسم وقصّ مربعًا كالمبين جانبًا على ورق منقط، مساحة الجزء (أ) هي $\frac{1}{4}(2 \times 2)$ وتساوي ٢ وحدة مربعة، لذا فإن مساحة المربع المظلل تساوي ٨ وحدات مربعة.

الخطوة ١



ارسم خط الأعداد على ورق منقط، بحيث تكون المسافة بين نقاطه وحدة واحدة.

الخطوة ٢

١ ضع المربع على خط الأعداد. بين أيّ عددين كليين متتاليين يقع العدد $\sqrt{8}$ ؟ (أي حدد موقع طول ضلع المربع).

٢ بين أيّ مربعين كاملين يقع العدد ٨؟

٣ قدر طول ضلع المربع، ثم تحقق من تقديرك باستخدام الآلة الحاسبة لإيجاد قيمة $\sqrt{8}$.

(١) ٢ و ٣

(٢) ٤ و ٩

(٣) حوالي ٢,٨ وحدة، $\sqrt{8} \approx 2,8284000$

تحقق

قدر كلاً مما يأتي إلى أقرب عدد كلي:

$$\sqrt{35}$$

$$\sqrt{35}$$

أكبر مربع كامل أقل من 35 هو 25.

$$\sqrt{25} = 5$$

أصغر مربع كامل أكبر من 35 هو 36.

$$\sqrt{36} = 6$$

أكتب المتباينة

$$36 > 35 > 25$$

$$6 > 35 > 5$$

أوجد الجذر التربيعي لكل عدد

$$\sqrt{25} > \sqrt{35} > \sqrt{36}$$

بسط

$$5 > \sqrt{35} > 6$$



لذا $\sqrt{35}$ يقع بين 5 ، 6 وبما أن 35 أقرب إلى 36 منه إلى 25 ؛

فأفضل تقدير لـ $\sqrt{35}$ بعدد كلي هو 6.

ب) $\sqrt{44,8}$

$\sqrt{44,8}$

أكبر مربع كامل أقل من 44,8 هو 36. $\sqrt{36} = 6$

أصغر مربع كامل أكبر من 44,8 هو 49. $\sqrt{49} = 7$

أكتب المتباينة

$$49 > 44,8 > 36$$

$$7 > \sqrt{44,8} > 6$$

أوجد الجذر التربيعي لكل عدد

$$\sqrt{27} > \sqrt{44,8} > \sqrt{6}$$

بسط

$$7 > \sqrt{44,8} > 6$$

لذا $\sqrt{44,8}$ يقع بين 6 ، 7 وبما أن 44,8 أقرب إلى 49 منه إلى 36 ؛

فأفضل تقدير لـ $\sqrt{44,8}$ بعدد كلي هو 7.



(ج) $\sqrt{170}$ $\sqrt{170}$ أكبر مربع كامل أقل من 170 هو 169. $\sqrt{169} = 13$ أصغر مربع كامل أكبر من 170 هو 196. $\sqrt{196} = 14$

أكتب المتباينة

$$169 > 170 > 196$$

$$13 < \sqrt{170} < 14$$

أوجد الجذر التربيعي لكل عدد

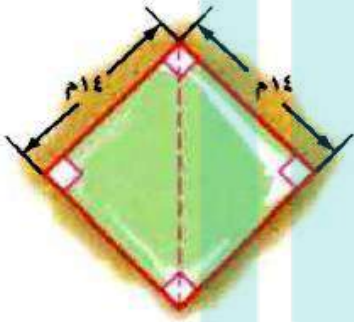
$$\sqrt{14} > \sqrt{170} > \sqrt{13}$$

بسط

$$14 > \sqrt{170} > 13$$

لذا $\sqrt{170}$ يقع بين 13 ، 14 وبما أن 170 أقرب إلى 169 منه إلى 196 ؛فأفضل تقدير لـ $\sqrt{170}$ بعدد كلي هو 13.

(د) هندسة: تشير العبارة $(\sqrt{s^2 + s^2})$ لطول قطر مربع طول ضلعه s . استخدم ذلك في تقدير طول قطر حديقة مربعة الشكل إلى أقرب متر، إذا كان طول ضلعها ١٤ مترًا.



$$s = 14 \text{ م}$$

$$\text{القطر} = \sqrt{14^2 + 14^2}$$

$$= \sqrt{196 + 196} = \sqrt{392}$$

أكبر مربع كامل أقل من ٣٩٢ هو ٣٦١. $\sqrt{361} = 19$

أصغر مربع كامل أكبر من ٣٩٢ هو ٤٠٠. $\sqrt{400} = 20$

أكتب المتباينة

$$400 > 392 > 361$$

$$220 > 392 > 219$$

$$19 < \sqrt{392} < 20$$

بسط

لذا $\sqrt{392}$ يقع بين ١٩ ، ٢٠ وبما أن ٣٩٢ أقرب إلى ٤٠٠ منه إلى ٣٦١؛

فأفضل تقدير لـ $\sqrt{392}$ بعدد كلي هو ٢٠ مترًا.

تأكد:

المثالان ٢،١

قدر كلاً مما يأتي إلى أقرب عدد كلي:

$$\sqrt{28}$$

$\sqrt{28}$

أكبر مربع كامل أقل من ٢٨ هو ٢٥. $\sqrt{25} = 5$

أصغر مربع كامل أكبر من ٢٨ هو ٣٦. $\sqrt{36} = 6$

أكتب المتباينة

$$36 > 28 > 25$$

$$6 > 28 > 5$$

$$25 = 5^2, 36 = 6^2$$

$$\sqrt{25} < \sqrt{28} < \sqrt{36}$$

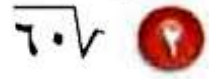
$$5 < \sqrt{28} < 6$$

أوجد الجذر التربيعي لكل عدد

بسط

$\sqrt{28}$ يقع بين ٥ ، ٦ وبما أن ٢٨ أقرب إلى ٢٥ منه إلى ٣٦ ؛

فأفضل تقدير لـ $\sqrt{28}$ بعدد كلي هو ٥.


 $\sqrt{60}$

أكبر مربع كامل أقل من 60 هو 49. $\sqrt{49} = 7$

أصغر مربع كامل أكبر من 60 هو 64. $\sqrt{64} = 8$

أكتب المتباينة

$$64 > 60 > 49$$

$$28 > 60 > 27$$

$$28 = 64, 27 = 49$$

أوجد الجذر التربيعي لكل عدد

$$\sqrt{28} > \sqrt{60} > \sqrt{27}$$

بسط

$$8 > \sqrt{60} > 7$$

$\sqrt{60}$ يقع بين 7، 8 وبما أن 60 أقرب إلى 64 منه إلى 49 ؛

فأفضل تقدير لـ $\sqrt{60}$ بعدد كلي هو 8.



$$\sqrt{135} \quad 2$$

نا $\sqrt{135}$

أكبر مربع كامل أقل من ١٣٥ هو ١٢١. نا $\sqrt{121} = 11$

أصغر مربع كامل أكبر من ١٣٥ هو ١٤٤. نا $\sqrt{144} = 12$

أكتب المتباينة

$$144 > 135 > 121$$

$$12^2 = 144, 11^2 = 121$$

$$12 > 135 > 11$$

أوجد الجذر التربيعي لكل عدد



بسط

$$11 < \sqrt{135} < 12$$

$$11 < \sqrt{135} < 12$$

نا $\sqrt{135}$ يقع بين ١١ ، ١٢ وبما أن ١٣٥ أقرب إلى ١٤٤ منه إلى ١٢١ ؛

فأفضل تقدير لـ نا $\sqrt{135}$ بعدد كلي هو ١٢.

$$\sqrt{13,5}$$

$$\sqrt{13,5}$$

أكبر مربع كامل أقل من 13,5 هو 9 . $\sqrt{9} = 3$

أصغر مربع كامل أكبر من 13,5 هو 16 . $\sqrt{16} = 4$

أكتب المتباينة

$$16 > 13,5 > 9$$

$$24 = 16 , 23 = 9$$

$$24 > 13,5 > 23$$

أوجد الجذر التربيعي لكل عدد

بسط

$$\sqrt{24} > \sqrt{13,5} > \sqrt{23}$$

$$4 > \sqrt{13,5} > 3$$

$\sqrt{13,5}$ يقع بين 3 ، 4 ، وبما أن 13,5 أقرب إلى 16 منه إلى 9 ؛

فأفضل تقدير لـ $\sqrt{13,5}$ بعدد كلي هو 4 .

$$\sqrt{38,7}$$

$$\sqrt{38,7}$$

أكبر مربع كامل أقل من 38,7 هو 36.

$$6 = \sqrt{36}$$

أصغر مربع كامل أكبر من 38,7 هو 49.

$$7 = \sqrt{49}$$

أكتب المتباينة

$$49 > 38,7 > 36$$

$$27 = 49, \quad 26 = 36$$

$$27 > 38,7 > 26$$

أوجد الجذر التربيعي لكل عدد



$$\sqrt{27} > \sqrt{38,7} > \sqrt{26}$$

بسط

$$7 > \sqrt{38,7} > 6$$

$\sqrt{38,7}$ يقع بين 6 ، 7 وبما أن 38,7 أقرب إلى 36 منه إلى 49؛

فأفضل تقدير لـ $\sqrt{38,7}$ بعدد كلي هو 6 .

$$\sqrt{79,2}$$



$$\sqrt{79,2}$$

أكبر مربع كامل أقل من 79,2 هو 64. $\sqrt{64} = 8$

أصغر مربع كامل أكبر من 79,2 هو 81. $\sqrt{81} = 9$

أكتب المتباينة

$$81 > 79,2 > 64$$

$$29 = 81, \quad 28 = 64$$

أوجد الجذر التربيعي لكل عدد



$$29 > 79,2 > 28$$

$$\sqrt{29} > \sqrt{79,2} > \sqrt{28}$$

بسط

$$9 > \sqrt{79,2} > 8$$



$\sqrt{79,2}$ يقع بين 8 ، 9. وبما أن 79,2 أقرب إلى 81 منه إلى 64 ؛

فأفضل تقدير لـ $\sqrt{79,2}$ بعدد كلي هو 9.

المثال ٣

٧ علوم : يتأرجح بندول الساعة الذي طوله l سم إلى الأمام وإلى الخلف $\frac{375}{l}$ مرة كل دقيقة. قُدِّر كم مرة يتأرجح بندول طوله 40 سم في كل دقيقة ؟

$$l = 40$$

نقدر 40 أولاً

أكبر مربع كامل أقل من 40 هو 36 . $6 = \sqrt{36}$

أصغر مربع كامل أكبر من 40 هو 49 . $7 = \sqrt{49}$

أكتب المتباينة

$$49 > 40 > 36$$

$$7 > 40 > 6$$

$$27 = 49, 26 = 36$$

أوجد الجذر التربيعي لكل عدد

$$\sqrt{27} > 40 > \sqrt{26}$$

بسط

$$7 > 40 > 6$$

40 يقع بين 6 ، 7 وبما أن 40 أقرب إلى 36 منه إلى 49 ؛

فأفضل تقدير لـ 40 بعدد كلي هو 6 .

تدرب وحل المسائل:

قدّر كلاً مما يأتي إلى أقرب عدد كلي:

$$\sqrt{44}$$

$$\sqrt{44}$$

أكبر مربع كامل أقل من 44 هو 36. $\sqrt{36} = 6$

أصغر مربع كامل أكبر من 44 هو 49. $\sqrt{49} = 7$

أكتب المتباينة

$$27 = 49, 26 = 36$$

أوجد الجذر التربيعي لكل عدد



بسط

$$49 > 44 > 36$$


$$27 > 44 > 26$$

$$\sqrt{27} > \sqrt{44} > \sqrt{26}$$

$$7 > \sqrt{44} > 6$$

$\sqrt{44}$ يقع بين 6 ، 7 وبما أن 44 أقرب إلى 49 منه إلى 36 ؛

فأفضل تقدير لـ $\sqrt{44}$ بعدد كلي هو 7


 $\sqrt{23}$
 $\sqrt{23}$

أكبر مربع كامل أقل من ٢٣ هو ١٦. $\sqrt{16} = 4$

أصغر مربع كامل أكبر من ٢٣ هو ٢٥. $\sqrt{25} = 5$

أكتب المتباينة

$$25 > 23 > 16$$

$$25 > 23 > 24$$

$$27 = 49, 26 = 36$$

أوجد الجذر التربيعي لكل عدد

$$\sqrt{25} > \sqrt{23} > \sqrt{24}$$

$$5 > \sqrt{23} > 4$$

بسط

$\sqrt{23}$ يقع بين ٤ ، ٥ وبما أن ٢٣ أقرب إلى ٢٥ منه إلى ١٦ ؛

فأفضل تقدير لـ $\sqrt{23}$ بعدد كلي هو ٥.



$$\sqrt{125}$$

تأ 125

أكبر مربع كامل أقل من 125 هو 121 .

أصغر مربع كامل أكبر من 125 هو 144 .

أكتب المتباينة

$$121 < 125 < 144$$

$$11^2 = 121, 12^2 = 144$$

$$11 < 125 < 12$$

أوجد الجذر التربيعي لكل عدد

$$\sqrt{121} < \sqrt{125} < \sqrt{144}$$

بسط

$$11 < \sqrt{125} < 12$$

تأ 125 يقع بين 11 ، 12 وبما أن 125 أقرب إلى 121 منه إلى

؛ 144



فأفضل تقدير لـ $\sqrt{125}$ بعدد كلي هو 11 .

$$\sqrt{197}$$

$\sqrt{197}$

أكبر مربع كامل أقل من 197 هو 196 . $\sqrt{196} = 14$

أصغر مربع كامل أكبر من 197 هو 225 . $\sqrt{225} = 15$

أكتب المتباينة

$$225 > 197 > 196$$

$$27 = 49 , 26 = 36$$

$$215 > 197 > 214$$

أوجد الجذر التربيعي لكل عدد

$$\sqrt{15} > \sqrt{197} > \sqrt{14}$$

بسط

$$15 > \sqrt{197} > 14$$

$\sqrt{197}$ يقع بين 14 ، 15 وبما أن 197 أقرب إلى 196 منه إلى

225 ؛

فأفضل تقدير لـ $\sqrt{197}$ بعدد كلي هو 14 .



$$\sqrt{15,6}$$

١٢

$$\sqrt{15,6}$$

$$3 = \sqrt{9}$$

أكبر مربع كامل أقل من ١٥,٦ هو ٩.

$$4 = \sqrt{16}$$

أصغر مربع كامل أكبر من ١٥,٦ هو ١٦.

أكتب المتباينة

$$16 > 15,6 > 9$$

$$24 = 16, 23 = 9$$

$$24 > 15,6 > 23$$

أوجد الجذر التربيعي لكل عدد

$$\sqrt{24} > \sqrt{15,6} > \sqrt{23}$$

بسط

$$4 > \sqrt{15,6} > 3$$

$\sqrt{15,6}$ يقع بين ٣ ، ٤ وبما أن ١٥,٦ أقرب إلى ١٦ منه إلى ٩ ؛

فأفضل تقديراً لـ $\sqrt{15,6}$ بعدد كلي هو ٤.



$$\sqrt{33,5} \quad 13$$

$$\sqrt{33,5}$$

$$\sqrt{25} = 5$$

أكبر مربع كامل أقل من 33,5 هو 25.

$$\sqrt{36} = 6$$

أصغر مربع كامل أكبر من 33,5 هو 36.

أكتب المتباينة

$$36 > 33,5 > 25$$

$$25 = 25, 36 = 36$$

$$25 > 33,5 > 36$$

أوجد الجذر التربيعي لكل عدد

$$\sqrt{25} > \sqrt{33,5} > \sqrt{36}$$

بسط

$$5 > \sqrt{33,5} > 6$$

$\sqrt{33,5}$ يقع بين 5، 6 وبما أن 33,5 أقرب إلى 36 منه إلى 25؛

فأفضل تقديراً لـ $\sqrt{33,5}$ بعدد كلي هو 6.



$$\sqrt{85,1}$$

١٤

$$\sqrt{85,1}$$

أكبر مربع كامل أقل من ٨٥,١ هو ٨١.

$$9 = \sqrt{81}$$

أصغر مربع كامل أكبر من ٨٥,١ هو ١٠٠.

$$10 = \sqrt{100}$$

أكتب المتباينة

$$100 > 85,1 > 81$$

$$210 = 100, 29 = 81$$

$$210 > 85,1 > 29$$

أوجد الجذر التربيعي لكل عدد

$$\sqrt{100} > \sqrt{85,1} > \sqrt{81}$$

بسط

$$10 > \sqrt{85,1} > 9$$

$\sqrt{85,1}$ يقع بين ٩، ١٠ وبما أن ٨٥,١ أقرب إلى ٨١ منه إلى ١٠٠؛

فأفضل تقدير لـ $\sqrt{85,1}$ بعدد كلي هو ٩.



$$\sqrt{38,4} \quad ١٥$$

$$\sqrt{38,4}$$

أكبر مربع كامل أقل من ٣٨,٤ هو ٣٦ .

$$٦ = \sqrt{36}$$

أصغر مربع كامل أكبر من ٣٨,٤ هو ٤٩ .

$$٧ = \sqrt{49}$$

أكتب المتباينة

$$٤٩ > ٣٨,٤ > ٣٦$$

$$٢٧ = ٤٩ , ٢٦ = ٣٦$$

$$٢٧ > ٣٨,٤ > ٢٦$$

أوجد الجذر التربيعي لكل عدد

$$\sqrt{27} > \sqrt{38,4} > \sqrt{26}$$

بسط

$$٧ > \sqrt{38,4} > ٦$$

يقع $\sqrt{38,4}$ بين ٦ ، ٧ وبما أن ٣٨,٤ أقرب إلى ٣٦ منه إلى ٤٩ ؛

فأفضل تقدير لـ $\sqrt{38,4}$ بعدد كلي هو ٦ .



هندسة: نصف قطر الدائرة التي مساحتها $\frac{4}{3}$ تقريباً. إذا كانت مساحة قرص بيتزاتساوي ١٢, ١٩٨ سم^٢. فقدّر نصف قطر قرص البيتزا.

$$\frac{198,12}{3} \approx \frac{4}{3} \Rightarrow$$

$$66,04 \approx$$

أكبر مربع كامل أقل من ٦٦,٠٤ هو ٦٤. $8 = \sqrt{64}$

أصغر مربع كامل أكبر من ٦٦,٠٤ هو ٨١. $9 = \sqrt{81}$

أكتب المتباينة

$$81 > 66,04 > 64$$

$$9 > 66,04 > 8$$

$$29 = 81, 28 = 64$$

أوجد الجذر التربيعي لكل عدد

$$\sqrt{29} > \sqrt{66,04} > \sqrt{28}$$

بسط

$$9 > \sqrt{66,04} > 8$$

$\sqrt{66,04}$ يقع بين ٨ ، ٩ وبما أن ٦٦,٠٤ أقرب إلى ٦٤ منه إلى ٨١ ؛



فأفضل تقدير لـ $\sqrt{66,04}$ بعدد كلي هو ٨.

قدّر كلاً مما يأتي إلى أقرب عدد كلي:

$$\sqrt{\frac{1}{5}}$$

١٧

$$\sqrt{5,2} = \sqrt{\frac{26}{5}} = 5\frac{1}{5}$$

$$\sqrt{2} = \sqrt{4}$$

أكبر مربع كامل أقل من ٥,٢ هو ٤.

$$\sqrt{3} = \sqrt{9}$$

أصغر مربع كامل أكبر من ٥,٢ هو ٩.

أكتب المتباينة

$$9 > 5,2 > 4$$

$$23 = 9, 22 = 4$$

$$23 > 5,2 > 22$$

أوجد الجذر التربيعي لكل عدد

$$\sqrt{23} > \sqrt{5,2} > \sqrt{22}$$

بسط

$$3 > \sqrt{5,2} > 2$$



$\sqrt{5,2}$ يقع بين ٢ ، ٣ وبما أن ٥,٢ أقرب إلى ٤ منه إلى ٩ ؛

فأفضل تقدير لـ $\sqrt{5,2}$ بعدد كلي هو ٢.

$$\sqrt{21\frac{7}{10}}$$



$$\sqrt{21,7} = \sqrt{21\frac{7}{10}}$$

$$4 = \sqrt{16}$$

$$5 = \sqrt{25}$$

أكتب المتباينة

$$25 = 25, \quad 16 = 16$$

أوجد الجذر التربيعي لكل عدد

بسط

$\sqrt{21,7}$ يقع بين ٤ ، ٥ وبما أن ٢١,٧ أقرب إلى ٢٥ منه إلى ١٦؛

فأفضل تقدير لـ $\sqrt{21,7}$ بعدد كلي هو ٥.



$$\sqrt{17\frac{3}{4}}$$

$$\sqrt{17,75} = 17\frac{3}{4}$$

أكبر مربع كامل أقل من $17,75$ هو 16 .

أصغر مربع كامل أكبر من $17,75$ هو 25 .

أكتب المتباينة

$$25 > 17,75 > 16$$

$$25 = 25, \quad 16 = 16$$

$$25 > \sqrt{17,75} > 16$$

أوجد الجذر التربيعي لكل عدد



$$\sqrt{25} > \sqrt{17,75} > \sqrt{16}$$


بسط

$$5 > \sqrt{17,75} > 4$$

$\sqrt{17,75}$ يقع بين 4 ، 5 وبما أن $17,75$ أقرب إلى 16 منه إلى 25 ؛


فأفضل تقدير لـ $\sqrt{17,75}$ بعدد كلي هو 4 .

رتب كلاً مما يأتي من الأصغر إلى الأكبر:

$\overline{85}, \overline{50}, 9, 7$ 


$\overline{85}, \overline{50}, \overline{81}, \overline{49}$

الترتيب: $7, \overline{50}, 9, \overline{85}$

$\overline{38}, \overline{5}, \overline{91}, 7$ 

$\overline{38}, \overline{25}, \overline{49}, \overline{91}$

الترتيب: $5, \overline{38}, 7, \overline{91}$

$8, \overline{34}, 6, \overline{62}$ 

$\overline{64}, \overline{34}, \overline{36}, \overline{62}$

الترتيب: $\overline{34}, 6, \overline{62}, 8$



قدر الحل لكل معادلة مما يأتي إلى أقرب عدد صحيح:

جبر

$$٢٣ \text{ ص } ٥٥ = ٢$$

$$\sqrt{55} = \text{ص}$$

أكبر مربع كامل أقل من ٥٥ هو ٤٩. $\sqrt{49} = 7$

أصغر مربع كامل أكبر من ٥٥ هو ٦٤. $\sqrt{64} = 8$

أكتب المتباينة

$$٦٤ > ٥٥ > ٤٩$$

$$٢٨ = ٦٤ ، ٢٧ = ٤٩$$

$$٢٨ > \sqrt{55} > ٢٧$$

أوجد الجذر التربيعي لكل عدد

$$\sqrt{8} > \sqrt{55} > \sqrt{7}$$

بسط

$$٨ > \sqrt{55} > ٧$$

$\sqrt{55}$ يقع بين ٧ ، ٨ وبما أن ٥٥ أقرب إلى ٤٩ منه إلى ٦٤؛

أفضل تقدير لـ $\sqrt{55}$ بعدد كلي هو ٧ أو -٧.



ب $\sqrt{95} = 9.5$

ب $\pm \sqrt{95}$

أكبر مربع كامل أقل من 95 هو $\sqrt{81}$

أصغر مربع كامل أكبر من 95 هو $\sqrt{100}$

أكتب المتباينة

$100 > 95 > 81$

$\sqrt{100} = 10$ ، $\sqrt{81} = 9$

$\sqrt{100} > \sqrt{95} > \sqrt{81}$

أوجد الجذر التربيعي لكل عدد

$\sqrt{100} > \sqrt{95} > \sqrt{81}$

بسط

$10 > \sqrt{95} > 9$

$\sqrt{95}$ يقع بين 9 ، 10 وبما أن 95 أقرب إلى 100 منه إلى 81؛

فأفضل تقدير لـ $\sqrt{95}$ بعدد كلي هو 10 أو -10.



$$ل^2 = 6,8 \quad ٢٥$$

$$ل \pm \sqrt{6,8}$$

$$2 = \sqrt{4}$$

$$3 = \sqrt{9}$$

أكتب المتباينة

$$٢٣ = ٩ ، ٢٢ = ٤$$

أكبر مربع كامل أقل من ٦,٨ هو ٤ .

أصغر مربع كامل أكبر من ٦,٨ هو ٩ .

$$٩ > ٦,٨ > ٤$$

$$٢٣ > \sqrt{6,8} > ٢٢$$

أوجد الجذر التربيعي لكل عدد

بسط

$$\sqrt[2]{3} > \sqrt{6,8} > \sqrt[2]{2}$$

$$٣ > \sqrt{6,8} > ٢$$

$\sqrt{6,8}$ يقع بين ٢ ، ٣ وبما أن ٦,٨ أقرب إلى ٩ منه إلى ٤ ؛

فأفضل تقدير لـ $\sqrt{6,8}$ بعدد كلي هو ٣ أو -٣ .



٣٦ زراعة: اشترى إبراهيم أكياس بذور الأعشاب المبينة في الشكل المجاور. قدر طول ضلع أكبر مربع من الأرض يمكن أن يزرعه إذا اشترى ٥ أكياس.



$$\text{المساحة (م)} = ٥ \times ٢٠٥ \text{ م}^٢$$

$$= ١٠٢٥ \text{ م}^٢$$

$$\text{م} = \text{مربع طول الضلع (ل)}$$

$$\text{ل} = \sqrt{1025}$$

$$\sqrt{1024} = 32$$

أكبر مربع كامل أقل من ١٠٢٥ هو ١٠٢٤.

$$\sqrt{1098} = 33$$

أصغر مربع كامل أكبر من ١٠٢٥ هو ١٠٩٨.

أكتب المتباينة

$$٢٣ = ٩ ، ٢٢ = ٤$$



$$١٠٩٨ > ١٠٢٥ > ١٠٢٤$$

$$٢٣٣ > \sqrt{1025} > ٢٣٢$$

أوجد الجذر التربيعي لكل عدد

$$\sqrt{33} > \sqrt{1025} > \sqrt{32}$$



بسط

$$٣٣ > \sqrt{1025} > ٣٢$$

$\sqrt{1025}$ يقع بين ٣٢ ، ٣٣ وبما أن ١٠٢٥ أقرب إلى ١٠٢٤ منه إلى

١٠٩٨ ؛

فأفضل تقدير لـ $\sqrt{1025}$ بعدد كلي هو ٣٢.

٢٧ | **الحس العددي:** دون استعمال الآلة الحاسبة حدد أيهما

أكبر $\sqrt{94}$ أو ١٠ . فسّر تبريرك.

$$100 = 10^2$$

بما أن $100 < 94$ فإن ١٠ أكبر من $\sqrt{94}$



مسائل مهارات التفكير العليا:

مسألة مفتوحة: أوجد عددين يقع جذراهما التربيعيان بين ٧ و ٨. بحيث يكون الجذر التربيعي لأحدهما قريباً من ٧، والجذر التربيعي للآخر قريباً من ٨، وبرر إجابتك.

العدان : أ ، ب

$$٧ > \sqrt{أ} > ٨$$

$$٧ > \sqrt{ب} > ٨$$

$$٦٤ > ٥٠ > ٤٩$$

$$٦٤ > ٦٠ > ٤٩$$

$$\sqrt{أ} = \sqrt{٥٠}$$

$$\sqrt{ب} = \sqrt{٦٠}$$

العدان هما ٥٠ ، ٦٠

تحذير: إذا كان $s^3 = ص$ ، فإن s هي الجذر التكعيبي لـ $ص$. فسّر كيف تقدر الجذر التكعيبي للعدد ٣٠ . ثم أوجد قيمته إلى أقرب عدد كلي .

$\sqrt[3]{30}$
أكبر مكعب كامل أقل من ٣٠ هو ٢٧ .
أصغر مربع كامل أكبر من ٣٠ هو ٦٤ .

$$3 = \sqrt[3]{27}$$

$$4 = \sqrt[3]{64}$$

أكتب المتباينة

$$٣٤ = ٦٤ ، ٣٣ = ٢٧$$

$$٦٤ > ٣٠ > ٢٧$$

$$٣٤ > \sqrt[3]{30} > ٣٣$$

أوجد الجذر التربيعي لكل عدد

$$\sqrt[3]{4} > \sqrt[3]{30} > \sqrt[3]{3}$$

بسط

$$٤ > \sqrt[3]{30} > ٣$$

$\sqrt[3]{30}$ يقع بين ٣ ، ٤ وبما أن ٣٠ أقرب إلى ٢٧ منه إلى ٦٤ ؛

فأفضل تقدير لـ $\sqrt[3]{30}$ بعدد كلي هو ٣



وضّح كيف تمثل $\sqrt{78}$ على خط الأعداد.

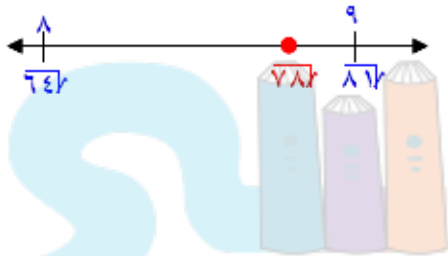
اكتب:



$\sqrt{78}$

أكبر مربع كامل أقل من 78 هو 64. $\sqrt{64} = 8$

أصغر مربع كامل أكبر من 78 هو 81. $\sqrt{81} = 9$



دروني

تدريب على اختبار



٢١ إذا كان ناتج تربيع عدد كلي ما يقع بين ٩٥٠ و ١٠٠٠، فبين أي عددين مما يلي يقع ذلك العدد؟

(أ) ٢٦ و ٢٨

(ب) ٢٨ و ٣٠

(ج) ٣٠ و ٣٢

(د) ٣٢ و ٣٤


$$1024 = 32^2, 900 = 30^2$$

الاختيار الصحيح: (ج)

درواني



أيُّ الجذور التربيعية التالية يبيّن أفضل تمثيل
للمنطقة N على خط الأعداد؟



(ج) $\sqrt{116}$

(أ) $\sqrt{140}$

(د) $\sqrt{126}$

(ب) $\sqrt{121}$

حيث النقطة N أقرب إلى 11

فإن الاختيار الصحيح: (د)

دروني



مراجعة تراكمية

٣٣ جبر: ما العدد الذي مربعه ٨١٠٠؟ (الدرس ٢-١)

بأخذ الجذر التربيعي للطرفين

$$81 \times 100 = 8100$$

$$\sqrt{81} \times \sqrt{100} = \sqrt{8100}$$

$$9 \times 10 =$$

$$90 =$$

٣٤ لغات: يقدر عدد الأشخاص الذين يتحدثون اللغة الصينية الماندرين بـ ٨٣٦ مليوناً. اكتب هذا العدد بالصيغة العلمية. (الدرس ١-٩)

$$810 \times 8,36 = 836000000$$

أوجد ناتج الجمع أو الطرح في أبسط صورة: (الدرس ٢-١)

$$3\frac{3}{4} - 15$$

$$1\frac{3}{10} + 6\frac{4}{5}$$

$$8\frac{1}{10} = \frac{81}{10} = \frac{13+68}{10} = 1\frac{3}{10} + 6\frac{4}{5} \quad (35)$$

$$11\frac{1}{4} = \frac{45}{4} = \frac{15-60}{4} = 3\frac{3}{4} - 15 \quad (36)$$

$$11\frac{3}{4} - 17\frac{2}{5} \quad (38)$$

$$8\frac{1}{8} + 7\frac{1}{6} \quad (37)$$

$$15\frac{7}{24} = \frac{367}{24} = \frac{195+172}{24} = 8\frac{1}{8} + 7\frac{1}{6} \quad (37)$$

$$5\frac{13}{20} = \frac{113}{20} = \frac{235-348}{20} = 11\frac{3}{4} - 17\frac{2}{5} \quad (38)$$

الاستعداد للدرس اللاحق

مهارة سابقة: يتدرب سعد للمشاركة في مسابقة الجري في نادٍ رياضي حول ملعب كرة القدم، فيركض دورة كاملة خلال ٥, ٦ دقائق، ويمشي دورة خلال ١٠ دقائق. ما الزمن الذي يستغرقه سعد إذا ركض ٤ دورات ومشى ٤ دورات؟

افهم

المعطيات: يركض سعد دورة كاملة خلال ٥, ٦ د، و يمشي دورة خلال ١٠ د
المطلوب: الزمن الذي يستغرقه إذا ركض ٤ دورات و مشى ٤ دورات.

خطط



احسب كم دقيقة يركض سعد في ٤ دورات و كم دقيقة يمشي في ٤ دورات.

حل

$$= 40 + 26 = (4 \times 10) + (4 \times 6,5) = \text{الزمن الذي يقضيه ركضاً و مشياً} \\ \text{د ٦٦}$$

تحقق

$$\text{الزمن الذي يقضيه بالركض} = (4 \times 6,5) = \text{د ٢٦}$$

$$\text{الزمن الذي يقضيه بالمشي} = (4 \times 10) = \text{د ٤٠}$$

الحل صحيح

دروني



إستراتيجية حل المسألة: استعمال أشكال فن

٣-٢

حل الاستراتيجية:



١ صف كيف تحدد عدد الطلاب المشاركين في الإذاعة المدرسية فقط أو في التوعية الإسلامية فقط باستعمال شكل فن أعلاه.

اجمع عدد الطلاب في نشاط لإذاعة المدرسية ونشاط التوعية الإسلامية،
ثم اطرح عدد الطلاب المشاركين في النشاطين معاً.



اشرح ماذا يمثل كل جزء من شكل فن أعلاه وعدد الطلاب في كل جزء.



الإذاعة المدرسية فقط ٢ ، التوعية الإسلامية فقط ٥ في النشاطين معاً
٢ ، لم يشتركوا في أي من النشاطين ٦ .

حل مسائل متنوعة:



استعمل استراتيجية " استعمال أشكال فن " لحل
المسائل ٣-٥:

٣ رياضات: أجرى عمر مسحًا لـ ٨٥ طالبًا في مدرسته
حول الرياضات التي يلعبونها، فوجد ٤٠ منهم يلعبون
كرة القدم، و ٣١ يلعبون كرة السلة، و ١٢ يلعبون كرة
القدم وكرة السلة. كم طالبًا لا يلعب كرة القدم ولا كرة
السلة؟

افهم

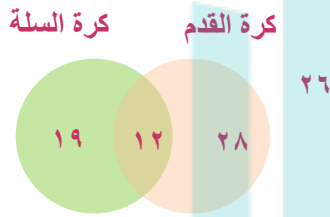
تعرف الطلاب الذين يلعبون كرة القدم والذين يلعبون كرة السلة،
والذين يلعبونهما معا.

المطلوب: كم طالب لا يلعب كرة القدم ولا كرة السلة؟

خطط

استعمل شكل فن لتنظيم البيانات.

حل



ارسم دائرتين متقاطعتين تمثلان الرياضتين،
بما أنه يوجد ١٢ طالب في كلا الرياضتين
فضع ١٢ في الجزء المشترك من
الدائرتين.

استعمل الطرح لتحديد العدد في الجزأين
المتبقيين.

$$٢٨ = ١٢ - ٤٠ = \text{عدد الطلاب الذين يلعبون كرة القدم فقط}$$

$$١٩ = ١٢ - ٣١ = \text{عدد الطلاب الذين يلعبون كرة السلة فقط}$$

عدد الطلاب الذين لا يلعبون أي من الرياضتين

$$= ٨٥ - ١٢ - ٢٨ - ١٩ = ٢٦ \text{ طالب.}$$

تحقق

تأكد أن كل دائرة تمثل العدد المناسب من الطلاب.

٤ **تسوق:** أظهرت دراسة أن ٧٠ شخصاً اشترى الخبز الأبيض، و٦٣ اشترى خبز القمح، و٣٥ اشترى خبز النخالة، وهناك من اشترى منهم نوعين من الخبز. حيث اشترى ١٢ شخصاً القمح والأبيض، و٥ اشترى الأبيض والنخالة، و٧ اشترى القمح والنخالة، واشترى شخصان الأنواع الثلاثة. كم شخصاً اشترى خبز القمح فقط؟

افهم

تعرف الأشخاص الذين اشترى الذين اشترى خبز القمح، والذين اشترى القمح والأبيض، الذين اشترى القمح والنخالة، الذين اشترى الأنواع الثلاثة.

المطلوب: كم شخصاً اشترى خبز القمح فقط؟

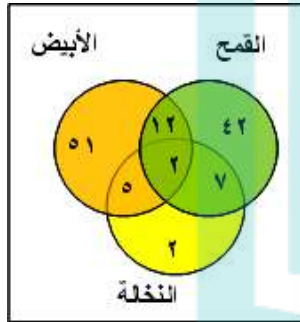


خطط

استعمل شكل فن لتنظيم البيانات.

حل

ارسم ثلاثة دوائر متقاطعين تمثل الأنواع الثلاثة للخبز، بما أنه يوجد شخصان اشتروا الأنواع الثلاثة فضع ٢ في الجزء المشترك من الثلاث دوائر.



بما أنه يوجد ١٢ شخص اشتروا القمح والأبيض فضع ١٢ في الجزء المشترك بين القمح والأبيض.

وبما أنه يوجد ٧ اشتروا القمح والنخالة، فضع ٧ في الجزء المشترك بين القمح والنخالة

استعمل الطرح لتحديد العدد في الجزء الباقي في القمح. عدد الأشخاص الذين اشتروا خبز القمح فقط

$$= 63 - 12 - 2 - 7 = 42 \text{ شخص}$$



تحقق

تأكد أن كل دائرة تمثل العدد المناسب من الطلاب.

٥ حيوانات أليفة : عالج الطبيب البيطري ٢٠ خروفاً، و ١٦ بقرةً، و ١١ جملاً في أسبوع واحد. بعض الأشخاص لديهم أكثر من نوع واحد من الحيوانات، كما هو مبين في الجدول الآتي:

الحيوان	عدد المالكين
خروف وبقرة	٧
خروف وجمال	٥
بقرة وجمال	٣
خروف وبقرة وجمال	٢

ما عدد المالكين للخراف فقط؟

درواني افهم

تعرف عدد المالكين للخراف، والمالكين للخراف والبقر، والمالكين للخراف والجمال، والمالكين للثلاثة أنواع.

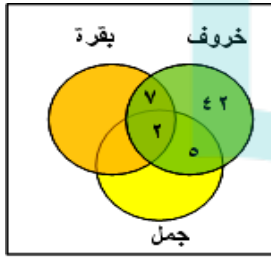
المطلوب: ما عدد المالكين للخراف فقط؟

خط

استعمل شكل فن لتنظيم البيانات.

حل

ارسم ثلاثة دوائر متقاطعين تمثل الأنواع الثلاثة للحيوانات،
بما أنه يوجد شخصان يملكان الأنواع الثلاثة
فضع ٢ في الجزء المشترك من الثلاث دوائر.



بما أنه يوجد ٧ أشخاص لديهم خراف وبقرة
فضع ٧ في الجزء المشترك بين الخروف والبقرة
وبما أنه يوجد ٥ أشخاص لديهم خراف وجمال،
فضع ٥ في الجزء المشترك بين الخروف والجمال
استعمل الطرح لتحديد العدد في الجزء الباقي في الخراف.
عدد الأشخاص الذين يملكون خراف فقط

$$= 20 - 7 - 5 - 2 = 6 \text{ أشخاص.}$$



تحقق

تأكد أن كل دائرة تمثل العدد المناسب من الطلاب.

استعمل الاستراتيجيات المناسبة لحل المسائل ٦-٩:

من الاستراتيجيات حل المسألة:

- البحث عن نمط
- استعمال أشكال فون
- التخمين والتحقق

٦ أعداد: ما العددان التاليان في النمط الآتي؟

■ ، ■ ، ١٠٨ ، ٢١٦ ، ٤٣٢ ، ٨٦٤

٨٦٤ ، ٤٣٢ ، ٢١٦ ، ١٠٨ ، ،

الإستراتيجية المناسبة هي البحث عن نمط

بما أن $٨٦٤ = ٢ \div ٤٣٢$ ، و $٤٣٢ = ٢ \div ٢١٦$ ، $٢١٦ = ٢ \div ١٠٨$

فالعُددان التاليان هما:

$$٥٤ = ٢ \div ١٠٨$$

$$٢٧ = ٢ \div ٥٤$$

لذلك النمط = ٨٦٤ ، ٤٣٢ ، ٢١٦ ، ١٠٨ ، ٥٤ ، ٢٧



٧ نقود: تتقاضى مغسلة للسيارات ١٢ ريالاً عن غسل السيارة الصغيرة، و١٧ ريالاً عن السيارة الكبيرة، وقد غسلوا خلال الساعتين الأوليين ١٠ سيارات صغيرة وكبيرة، وتقاضوا مبلغ ١٣٥ ريالاً. كم سيارة غسلوا من كل نوع؟

الإستراتيجية المناسبة هي التخمين والتحقق

نفرض عدد السيارات الكبيرة = س ، عدد السيارات الصغيرة = ص

العدد الكلي للسيارات = ١٠ أي أن: س + ص = ١٠

مجموع ما تقاضوه ١٣٥ ريال أي أن: ١٧س + ١٢ص = ١٣٥

من المعادلة الأولى فإن: ص = ١٠ - س

بالتعويض في المعادلة الثانية عن ص = ١٠ - س

$$١٣٥ = (١٠ - س)١٢ + ١٧س$$

بإضافة ١٢٠ للطرفين

$$١٢٠ - ١٣٥ = ١٢٠ - ١٢٠ + ١٢س - ١٧س$$

$$١٥ = ١٢س - ١٧س$$

عدد السيارات الكبيرة = ٣ سيارات كبيرة

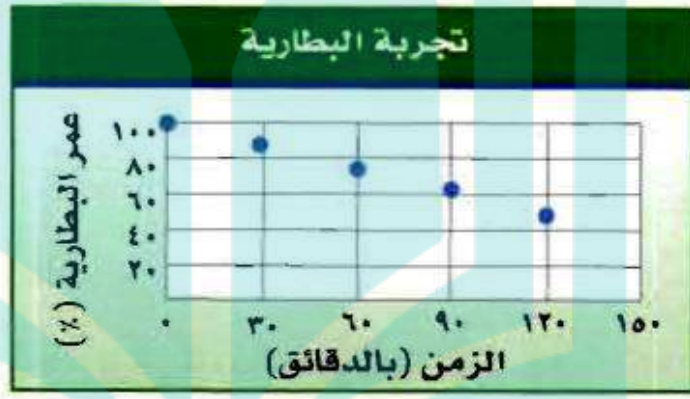
عدد السيارات الصغيرة = ٧ = ٣ - ١٠

$$١٣٥ = ٧ \times ١٢ + ٣ \times ١٧$$

تحقق:



٨ علوم: اختبر عماد مدة استعمال بطارية قابلة لإعادة الشحن في كاميرا رقمية. وبين الشكل أدناه النتائج التي حصل عليها. إذا استمر هذا النمط، فكم يتبقى من قوة البطارية بعد ٤ ساعات؟



الإستراتيجية: البحث عن نمط

الزمن بالدقيقة	0	٦٠	١٢٠	١٨٠	٢٤٠
عمر البطارية (%)	١٠٠%	٧٥%	٥٠%	٢٥%	٠%

بعد ٤ ساعات تصبح عمر البطارية: ٠%

وظائف: يبحث أحمد عن وظيفة بدوام جزئي، فوجد أمامه ٣ عروض ووظائف، يتقاضى في الوظيفة الأولى ٦٢,٥ ريالاً في الساعة، ويتقاضى عن الوظيفة الثانية ١٢٧,٥ ريالاً يومياً للعمل ساعتين، وعن الوظيفة الثالثة ١٠٥٠ ريالاً أسبوعياً للعمل ١٥ ساعة. إذا رغب في التقدم إلى الوظيفة التي تعطيه أفضل معدل أجر للساعة، فأَيّ وظيفة يختار؟ وضح إجابتك.

الوظيفة الأولى: ٦٢,٥ ريال في الساعة

الوظيفة الثانية: ١٢٧,٥ في ساعتين

الوظيفة الثالثة: ١٠٥٠ ريالاً في ١٥ ساعة

لمعرفة الأجر لكل وظيفة في الساعة نقسم الأجر الكلي على عدد الساعات

الوظيفة الثانية: $١٢٧,٥ \div ٢ = ٦٣,٧٥$ ريالاً في الساعة.

الوظيفة الثالثة: $١٠٥٠ \div ١٥ = ٧٠$ ريالاً في الساعة.


بما أن الأجر في الساعة **للوظيفة الثالثة** هو أكبر أجر فإنها تعطيه أكبر معدل أجر في الساعة.



الأعداد الحقيقية

٢-٤

استعد:



زجاج ملون: تتميز قطع الزجاج الملون

بالوانها الجميلة، ويُضفي استخدامها في

النوافذ جمالاً ورونقاً. ويمثل

الشكل المجاور أبعاد إحدى هذه القطع.

١ هل الطول أ ب عدد نسبي؟ وضح إجابتك.

٢ هل الطول ب د عدد نسبي؟ وضح إجابتك.

٣ طول ب هـ = $\sqrt{7}$ متر. هل $\sqrt{7}$ عدد نسبي؟ فسّر إجابتك.

(١) نعم؛ بما أن طول أب يمكن كتابته على صورة كسر $\frac{أ}{ب}$ ،

$$\text{طول أب} = ٤ = \frac{4}{1}$$

فإن الطول أب عدد نسبي

(٢) نعم؛ بما أن طول ب د يمكن كتابته على صورة كسر $\frac{أ}{ب}$ ،

$$\text{طول ب د} = ٢,٥ = \frac{25}{10}$$

فإن الطول ب د عدد نسبي

(٣) لا؛ بما أن طول ب ه لا يمكن كتابته على صورة كسر $\frac{أ}{ب}$ ،

طول ب ه = $\sqrt{(4)^2 - (3)^2} = \sqrt{16 - 9} = \sqrt{7}$ هذا القانون من نظرية فيثاغورس للمثلث القائم.

فإن الطول ب ه ليس عدد نسبي.



تحقق

سمِّ كل مجموعات الأعداد التي تنتمي إليها الأعداد الحقيقية الآتية:

$$1.0\overline{7} (i)$$

$$= 3,16227766,01683793319988935444327$$

وبما أن الكسر العشري ليس منتهيا ولا متكررا، فهو عدد غير نسبي.

$$(b) - 2\frac{2}{5}$$

$$= \frac{12-}{5} \text{ أي أنه يمكن كتابته على الصورة } \frac{أ}{ب}$$

فهو ينتمي لمجموعة الأعداد النسبية.



(ج) $\sqrt{100}$

$10 =$

فهو عدد كلي، وصحيح، ونسبي.

قدّر الجذور التربيعية الآتية إلى أقرب عُشر. ثم مثلها على خط الأعداد:

(د) $\sqrt{5}$

$= 2,236.0679774997896964091736687313$

دروني

(هـ) $\sqrt{2}$



$= 1.4142135623730950488016684773607178572122643502881266604990730967321792466254688$

و $\sqrt{22}$

$4,690.41575982342955456563.1135445 =$



ضع إشارة < أو > أو = في لتكون العبارة صحيحة:

$3\frac{1}{3} \text{ } \bullet \text{ } \sqrt{11}$

أكتب العددين على الصورة العشرية

$3,32 = \overline{11}$

$3,33 = 3\frac{1}{3}$

بما أن $3,33 > 3,32$ فإن $\overline{11} > 3\frac{1}{3}$

$$(ح) ٤,٠٣ \bullet \overline{١٧٧}$$

أكتب العددين على الصورة العشرية

$$\overline{١٧} = ٤,١٢٣$$

بما أن $٤,٠٣ < ٤,١٢٣$ فإن $٤,٠٣ < \overline{١٧}$

$$(ط) ٢\frac{١}{٢} \bullet \overline{٦,٢٥}$$

أكتب العددين على الصورة العشرية

$$\overline{٦,٢٥} = ٢,٥$$

$$٢,٥ = 2\frac{١}{٢}$$

بما أن $٢,٥ = ٢,٥$ فإن $2\frac{١}{٢} = \overline{٦,٢٥}$



(ي) قياسات: كم يزيد محيط مربع مساحته 250 م^2 على محيط مربع مساحته 125 م^2 ؟

مساحة المربع الأول (م) = 250 م^2

مساحة المربع الثاني (م) = 125 م^2

بما أن مساحة المربع = مربع طول الضلع، فإن:

طول ضلع المربع الأول = $\sqrt{250}$

طول ضلع المربع الثاني = $\sqrt{125}$

محيط المربع الأول = $4 \times \sqrt{250} = 63,24$

محيط المربع الثاني = $4 \times \sqrt{125} = 44,72$

محيط المربع الأول يزيد عن محيط المربع الثاني بمقدار:

$63,24 - 44,72 = 18,52 \text{ م تقريباً}$





الأمثلة ١ - ٣


سمّ كل مجموعات الأعداد التي ينتمي إليها كل عدد حقيقي مما يأتي:

٠,٠٥٠٥٠٥... 

الكسر العشري الدوري $0,05 = \frac{5}{100}$ فهو عدد نسبي.



درواني

$64 \sqrt{\quad}$ 



٨ - =

فهو صحيح، ونسبي.

$$\sqrt{177} \quad 3$$

$$= 4,1231056256176605$$

بما أن الكسر العشري ليس منتهيا ولا متكررا، فهو عدد غير نسبي.

$$3 \frac{1}{4} \quad 4$$

العدد يمكن كتابته على الصورة $\frac{أ}{ب}$ فهو عدد نسبي.

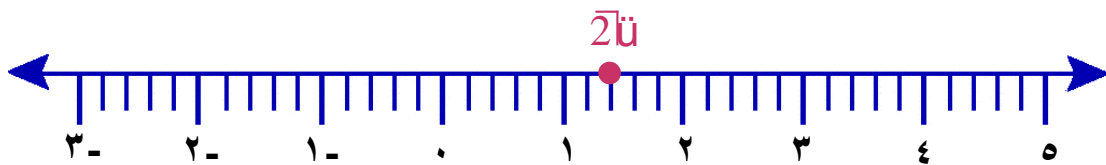
المثال 4

قَدِّر الجذرين التربيعين الآتيين إلى أقرب عُشر، ومثلِّهما على خط الأعداد:

$$\sqrt{2} \quad 5$$

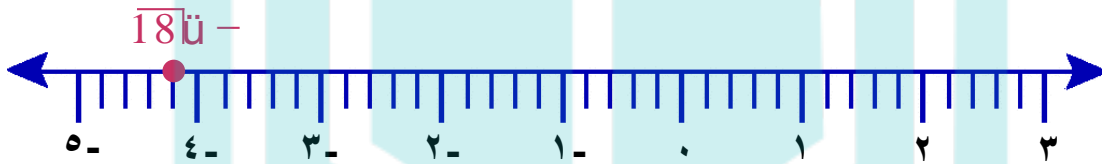


$$= 1,4$$



٦ - $\sqrt{18}$

$4,2 =$



المثالان ٦,٥

ضع إشارة < أو > أو = في لتكون العبارة صحيحة:

$3,5$ $\sqrt{15}$



أكتب العددين على الصورة العشرية

$3,87 = \sqrt{15}$

بما أن $3,87 < 3,5$ فإن $\sqrt{15} < 3,5$

$$1\frac{1}{2} \bullet \overline{2,25} \quad \text{٨}$$

أكتب العددين على الصورة العشرية

$$1,5 = \overline{2,25}$$

$$1,5 = 1\frac{1}{2}$$

بما أن $1,5 > 1,5$ فإن $1\frac{1}{2} = \overline{2,25}$

$$\overline{5,2} \bullet \overline{2,21} \quad \text{٩}$$

أكتب العددين على الصورة العشرية

$$2,28 = \overline{5,2}$$

بما أن $2,28 > 2,21$ فإن $\overline{5,2} > \overline{2,21}$

المثال ٧

مساحة : تستعمل الصيغة $m = \sqrt{n(n-a)(n-b)(n-c)}$ لإيجاد مساحة مثلث. حيث تمثل المتغيرات "أ، ب، جـ" أطوال الأضلاع، و"ن" نصف المحيط. تستعمل هذه الصيغة لإيجاد مساحة المثلث في الشكل المجاور.



$$\text{محيط المثلث (ن)} = 7 + 9 + 10 = 26$$

$$n = 13 \text{ سم}$$

$$m = \sqrt{(E-1)(B-1)(A-1)} \text{ ن}$$

$$= \sqrt{(7-13)(9-13)(10-13)13} \text{ ن}$$

$$= \sqrt{(6)(4)(3)13} \text{ ن} = \sqrt{936} \approx 30,6 \text{ سم}^2$$

تدرب وحل المسائل:



سمّ كل مجموعات الأعداد التي ينتمي إليها كل عدد حقيقي مما يأتي:


١٤ 

عدد كلي، وصحيح، ونسبي.

$\frac{2}{3}$ 

العدد يمكن كتابته على الصورة $\frac{أ}{ب}$ فهو عدد نسبي.



$\sqrt{16}$ 

= - ٤ عدد صحيح ، ونسبي.

$$2.0\overline{7} - 14$$

$$= 4,47213595499957939281834733746226$$

بما أن الكسر العشري ليس منتهيا و لا متكررا، فهو عدد غير نسبي.

$$4,83 - 15$$

عدد نسبي.

$$7,2 - 16$$



عدد عشري دوري = $\frac{72}{10}$ فهو عدد نسبي.



$$9.0\overline{7} - 17$$

$$= 9,486832980501379959966806332982$$

بما أن الكسر العشري ليس منتهيا ولا متكررا، فهو عدد غير نسبي.

$$\frac{12}{4} \quad \text{18}$$

= ٣ عدد كلي ، صحيح ، ونسبي.

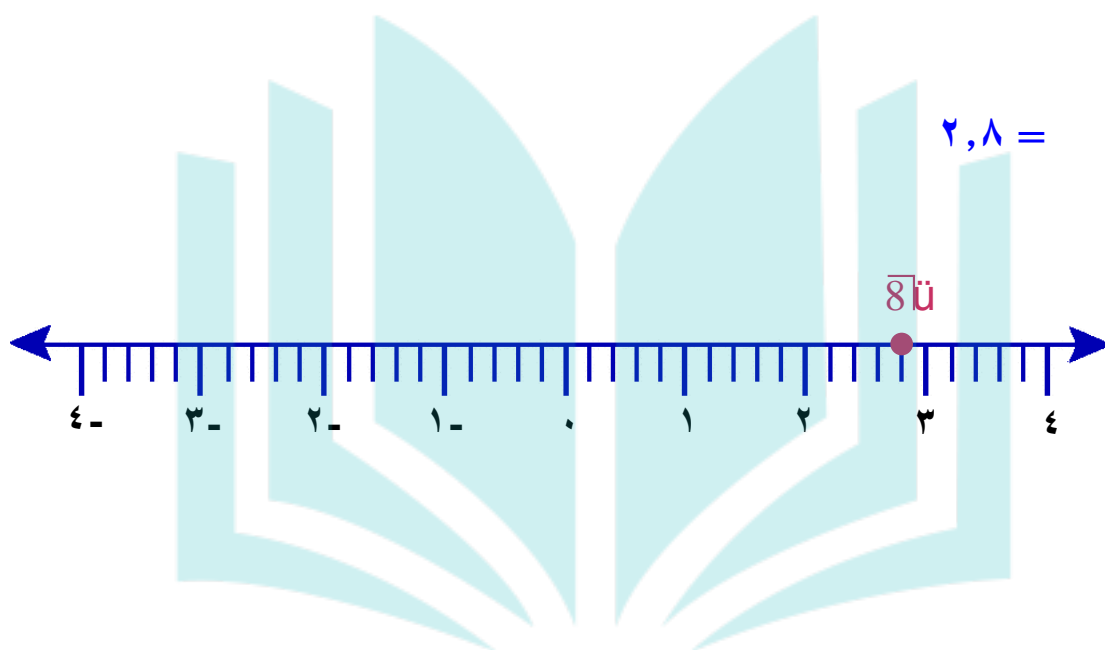
قدر كل جذر تربيعي مما يأتي إلى أقرب عُشر. ثم مثله على خط الأعداد:

$$\sqrt{6}$$

$$= 2,4$$



$\sqrt{8}$ 

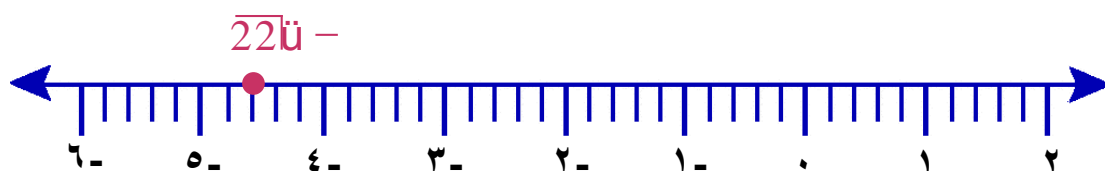


دروانی

$\sqrt{22}$ 

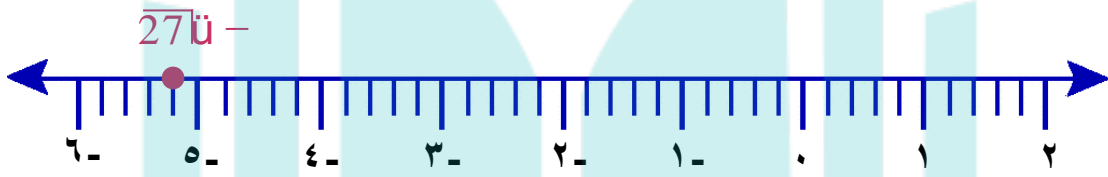


$4,7 =$



$$27\overline{) 277} - 22$$

$$5,2 =$$



ضع إشارة < أو > أو = في لتكون العبارة صحيحة:

$$3,2 \text{ } 10\overline{) 316} - 23$$

أكتب العددين على الصورة العشرية

$$3,16 = 10\overline{) 316}$$

بما أن $3,2 > 3,16$ فإن $3,2 > 10\overline{) 316}$



$$3,5 \circ \sqrt{12} \quad 24$$

أكتب العددين على الصورة العشرية

$$3,46 = \sqrt{12}$$

$$3,5 > \sqrt{12} \quad \text{فإن } 3,5 > 3,46$$

$$\sqrt{40} \circ 6\frac{1}{3} \quad 25$$

أكتب العددين على الصورة العشرية

$$6,33 = 6\frac{1}{3}$$

$$6,32 = \sqrt{40}$$

$$6,32 < 6,33 \quad \text{فإن } \sqrt{40} < 6\frac{1}{3}$$



$$0,76\bar{6} = 2\frac{2}{5}$$



أكتب العددين على الصورة العشرية

$$2,4 = 2\frac{2}{5}$$

$$2,4 = \overline{5,76}$$

$$\overline{5,76} = 2\frac{2}{5} \text{ فإن } 2,4 = 2,4$$

$$0,16\bar{6} = 5\frac{1}{6}$$



أكتب العددين على الصورة العشرية

$$0,16\bar{6} = 5\frac{1}{6}$$

$$0,16 < 5\frac{1}{6} \text{ فإن } 0,16 < 0,16\bar{6}$$



$$2,4 < \sqrt{6,2} \quad 28$$

أكتب العددين على الصورة العشرية

$$\sqrt{6,2} = 2,48$$

$$2,4 < 2,48 \quad \text{فإن} \quad \sqrt{6,2} > 2,4$$

٢٩ صحة: يمكن إيجاد مساحة سطح جسم الإنسان بالأمتار المربعة باستعمال

العلاقة $\frac{\text{ط} \times \text{و}}{3600}$ ، حيث "ط" الطول بالسنتيمترات، و"و" الوزن بالكيلوجرامات. أوجد

مساحة سطح جسم شاب عمره ١٥ سنة، وطوله ١٨٣ سم، ووزنه ٧٤ كيلوجراماً.



$$\text{ط} = 183 \text{ سم، و} = 74 \text{ كجم}$$



$$= \frac{\text{ط} \times \text{و}}{3600} \text{ م}^2$$

$$= \frac{74 \times 183}{3600} \text{ م}^2$$

$$= 1,94 \text{ م}^2$$

جبر: في المتتابعة ٤، ١٢، ١٠٨، ٣٢٤. استعمل الصيغة $\sqrt{a \cdot b}$ في إيجاد الحد المجهول، حيث أ، ب الحدان السابق والتالي للحد المجهول.

$$١٢ = \text{الحد السابق للحد المجهول (أ)}$$

$$١٠٨ = \text{الحد التالي للحد المجهول (ب)}$$

$$\text{الحد المجهول} = \sqrt{a \cdot b} = \sqrt{108 \times 12} = ٣٦$$



مسائل مهارات التفكير العليا:

مسألة مفتوحة: أعطِ مثلاً مضاداً للعبارة الآتية: كل الجذور التربيعية أعداد غير نسبية. فسّر إجابتك.

نأ $100=10$ وهو عدد كلي وصحيح ونسبي.

تحذ: هل العبارة الآتية صحيحة دائماً أم أحياناً أم غير صحيحة أبداً؟ فسّر إجابتك.
"ناتج ضرب عدد نسبي في عدد غير نسبي هو عدد غير نسبي".



خاطئة، فمثلاً ضرب العدد النسبي صفر بأي عدد نسبي هو عدد نسبي.

مسألة من واقع الحياة يتطلب حلها تقدير الجذر التربيعي، ثم حلّها. **اكتب**



تبلغ مساحة حديقة مربعة الشكل ١٦٠ م^٢ فقدر كم يبلغ محيطها؟

بما أن $144 < 160 < 169$

اذن تبلغ مساحة الحديقة بالتقدير ١٦٩

اذن طول الحديقة $\approx \sqrt{169} = 13$

محيط الحديقة = $4 \times 13 = 52$ م



تدريب على اختبار



أي من الأعداد التالية عدد غير نسبي؟

٣٤

(أ) ٦-

(ب) $\frac{2}{3}$

(ج) $\sqrt{9}$

(د) $\sqrt[3]{3}$

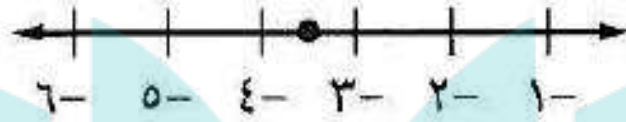
الاختيار الصحيح: (د) تا 3

درواني



٣٥ ما العدد الذي تمثله النقطة على خط الأعداد

التالي؟



(ج) $\sqrt{15}$

(أ) $\sqrt{12}$

(د) $\sqrt{8}$

(ب) $\sqrt{10}$

حيث تقع النقطة في المنتصف بين العددين ٣-، ٤-

لذا فإن الاختيار الصحيح هو (أ) - $\sqrt{12}$

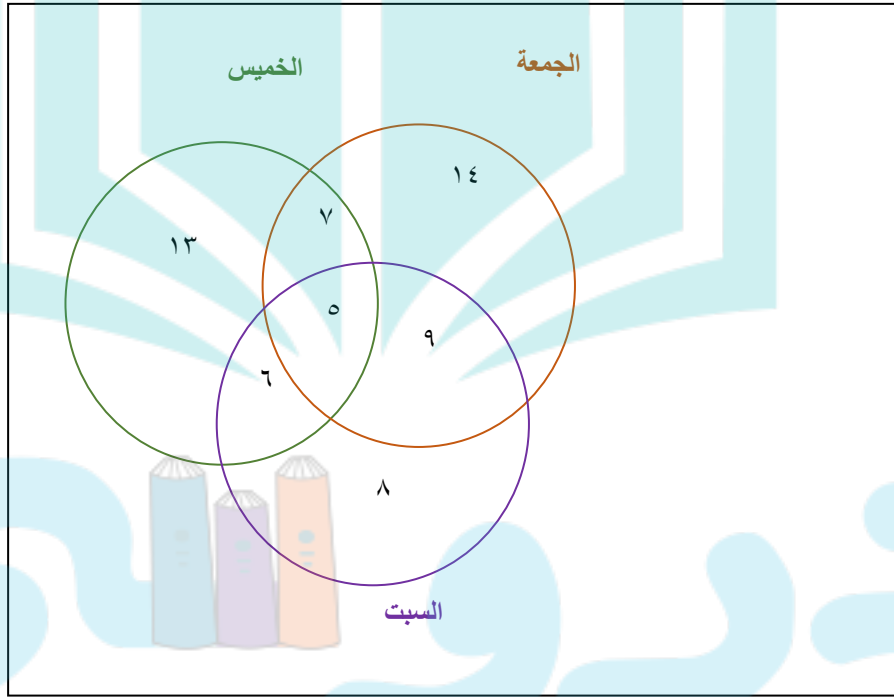


دروني



مراجعة تراكمية

رحلات: أجرت نورة مسحًا لعدد من زميلاتهما بالمدرسة حول يوم الرحلة العائلية المفضل لديهن؛ فوجدت أن ٣١ منهن يفضلن يوم الخميس، و ٣٥ يفضلن الجمعة، و ٢٨ يفضلن السبت، وهناك من يفضلن يومين؛ حيث يفضل ٧ الخميس والجمعة، ٦ يفضلن الخميس والسبت، ٩ يفضلن الجمعة والسبت، كذلك وجدت ٥ منهن يفضلن الأيام الثلاثة معًا. ما عدد الطالبات اللواتي أُجري عليهن المسح؟ استعمل أشكال فن. (الدرس ٢-٣)



عدد طالبات = ٦٢ = ٦ + ٩ + ٥ + ٧ + ٨ + ١٣ + ١٤ = طالبة

رتب الأعداد التالية من الأصغر إلى الأكبر: ٦، $\sqrt{32}$ ، $\sqrt{53}$ ، ٧ (الدرس ٢-٢)

نكتب الأعداد في صورة الجذر التربيعي

$$\sqrt{36} \text{ و } \sqrt{2} \text{ و } \sqrt{3} \text{ و } \sqrt{49}$$

الترتيب: $\sqrt{2}$ و $\sqrt{3}$ و $\sqrt{36}$ و $\sqrt{49}$

جبر: حل كل معادلة مما يأتي: (الدرس ٢-١)

٣٨ ت $25 = x^2$

٣٨ ت $25 = x^2$

$$\sqrt{25} = \sqrt{x^2}$$

$$5 = x$$

٣٩ ص $\frac{1}{49} = x^2$

$$\sqrt{\frac{1}{49}} = \sqrt{x^2}$$

$$\frac{1}{7} = x$$

٤٠ س $0,64 = x^2$

$$\sqrt{0,64} = \sqrt{\frac{64}{100}}$$

$$0,8 = \frac{8}{10} = x$$

٤٠ س $0,64 = x^2$

٣٦ ص $\frac{1}{49} = x^2$

درواني



الاستعداد للدرس اللاحق

مهارة سابقة: أوجد قيمة كل عبارة مما يأتي: (الدرس ١-٨)

$${}^27 + {}^24 \quad (٤٤)$$

$${}^211 + {}^29 \quad (٤٣)$$

$${}^24 + {}^26 \quad (٤٢)$$

$${}^25 + {}^23 \quad (٤١)$$

$$34 = 25 + 9 = {}^25 + {}^23 \quad (٤١)$$

$$52 = 16 + 36 = {}^24 + {}^26 \quad (٤٢)$$

$$202 = 121 + 81 = {}^211 + {}^29 \quad (٤٣)$$

$$65 = 49 + 16 = {}^27 + {}^24 \quad (٤٤)$$

درواني



اختبار منتصف الفصل

2

أوجد الجذور التربيعية الآتية : (الدرس ٢-١)

$$\pm\sqrt{81} \quad ٢$$

$$\sqrt{1} \quad ١$$

$$١ = \sqrt{1} \quad (١)$$

$$\pm 9 = \pm\sqrt{81} \quad (٢)$$

$$-\sqrt{121} \quad ٤$$

$$\pm\sqrt{36} \quad ٣$$

$$\pm 6 = \pm\sqrt{36} \quad (٣)$$

$$-11 = -\sqrt{121} \quad (٤)$$

$$\sqrt{0,9} \quad ٦$$

$$-\sqrt{\frac{1}{25}} \quad ٥$$

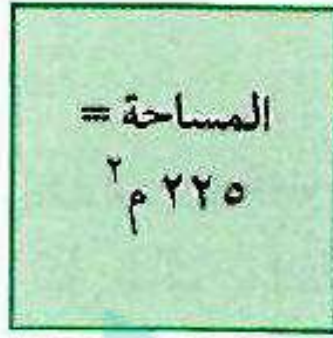
$$-\frac{1}{5} = -\sqrt{\frac{1}{25}} \quad (٥)$$

$$0,3 = \sqrt{0,09} \quad (٦)$$



قياس: أوجد طول ضلع المربع أدناه؟

(الدرس ٢ - ١)



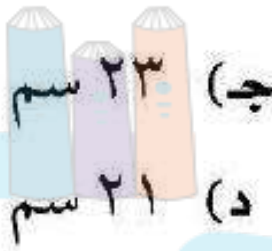
مساحة المربع = $٢٢٥ \text{ م}^٢$

طول ضلع المربع = $\sqrt{٢٢٥} = ١٥ \text{ م}$

اختيار من متعدد: صورة مربعة الشكل مساحتها

٥٢٩ ستمتراً مربعاً. ما طول كل ضلع من أضلاع

الصورة؟ (الدرس ٢ - ١)



(أ) ٢٦ سم

(ب) ٢٥ سم

(ج) ٢٣ سم

(د) ٢١ سم



(٨) $\sqrt{٥٢٩} = ٢٣$

الاختيار الصحيح: (ج) ٢٣

عروض رياضية : ترغب مدرسة في ترتيب طلابها في أثناء العرض الرياضي على شكل مربع. إذا كان عدد طلاب المدرسة ١٢١ طالبًا ، فكم طالبًا يجب أن يكون في كل صف؟ (الدرس ٢-١)

عروض رياضية:

كل صف يكون به $\sqrt{121} = 11$ طالباً

قدر كلاً مما يأتي إلى أقرب عدد كلي : (الدرس ٢-٢)

$$\sqrt{90}$$

$\sqrt{90}$

أكبر مربع كامل أقل من ٩٠ هو ٨١.

أصغر مربع كامل أكبر من ٩٠ هو ١٠٠.

$$100 > 90 > 81$$

$$29 > 5,2 > 210$$

$$\sqrt{100} > \sqrt{90} > \sqrt{9}$$

عدد

بسط

$$10 > \sqrt{90} > 9$$

$\sqrt{90}$ يقع بين ٩ ، ١٠ وبما أن ٩٠ أقرب إلى ٨١ منه إلى ١٠٠ ؛

فأفضل تقدير لـ $\sqrt{90}$ بعدد كلي هو ٩.

$$\sqrt{81} = 9$$

$$\sqrt{100} = 10$$

أكتب المتباينة

$$210 = 100, 29 = 81$$

أوجد الجذر التربيعي لكل


 $\sqrt{28}$

أكبر مربع كامل أقل من 28 هو 25.

أصغر مربع كامل أكبر من 28 هو 36.

$$36 > 28 > 25$$

$$6 > 28 > 5$$

$$\sqrt{36} > \sqrt{28} > \sqrt{25}$$

$$6 > \sqrt{28} > 5$$

$\sqrt{28}$ يقع بين 5، 6 وبما أن 28 أقرب إلى 25 منه إلى 36؛

فأفضل تقدير لـ $\sqrt{28}$ بعدد كلي هو 5.

$$5 = \sqrt{25}$$

$$6 = \sqrt{36}$$

أكتب المتباينة

$$25 = 25, 36 = 36$$

أوجد الجذر التربيعي لكل عدد

بسط



$\sqrt{226}$

أكبر مربع كامل أقل من ٢٢٦ هو ٢٢٥.

أصغر مربع كامل أكبر من ٢٢٦ هو ٢٥٦.

$$\sqrt{225} = 15$$

$$\sqrt{256} = 16$$

أكتب المتباينة

$$225 = 15^2, 256 = 16^2$$

أوجد الجذر التربيعي

بسط

$\sqrt{226}$ يقع بين ١٥، ١٦ وبما أن ٢٢٦ أقرب إلى ٢٢٥ منه إلى ٢٥٦؛

فأفضل تقدير لـ $\sqrt{226}$ بعدد كلي هو ١٥.

$$225 < 226 < 256$$

$$15 < \sqrt{226} < 16$$

$$15 =$$

$$\sqrt{15^2} < \sqrt{226} < \sqrt{16^2}$$

لكل عدد

$$225 < 226 < 256$$





$\sqrt{17}$

أكبر مربع كامل أقل من 17 هو 16 .

أصغر مربع كامل أكبر من 17 هو 25 .

$$4 = \sqrt{16}$$

$$5 = \sqrt{25}$$

أكتب المتباينة

$$25 = 25, 16 = 16$$

أوجد الجذر التربيعي لكل عدد

بسط

$$25 > 17 > 16$$

$$25 > 17 > 16$$

$$\sqrt{25} > \sqrt{17} > \sqrt{16}$$

$$5 > \sqrt{17} > 4$$

$\sqrt{17}$ يقع بين 4، 5 وبما أن 17 أقرب إلى 16 منه إلى 25؛

فأفضل تقدير لـ $\sqrt{17}$ بعدد كلي هو 4 .

دروني




 $\sqrt{21}$

$$4 = \sqrt{16}$$

$$5 = \sqrt{25}$$

أكتب المتباينة

$$25 = 25, 16 = 16$$

أوجد الجذر التربيعي لكل

بسطة

$\sqrt{21}$ يقع بين ٤، ٥ وبما أن ٢١ أقرب إلى ٢٥ منه إلى ١٦؛

فأفضل تقدير لـ $\sqrt{21}$ بعدد كلي هو ٥.

أكبر مربع كامل أقل من ٢١ هو ١٦.

أصغر مربع كامل أكبر من ٢١ هو ٢٥.

$$25 > 21 > 16$$


$$25 > 21 > 16$$

$$\sqrt{25} > \sqrt{21} > \sqrt{16}$$

عدد

$$5 > \sqrt{21} > 4$$




 $\sqrt{75}$

أكبر مربع كامل أقل من 75 هو 64.

أصغر مربع كامل أكبر من 75 هو 81.

$$8 = \sqrt{64}$$

$$9 = \sqrt{81}$$

أكتب المتباينة

$$= 81, 28 = 64$$

$$81 > 75 > 64$$

$$29 > 75 > 28$$

29

أوجد الجذر التربيعي لكل

$$\sqrt{29} > \sqrt{75} > \sqrt{28}$$

عدد

بسط

$$9 > \sqrt{75} > 8$$

$\sqrt{75}$ يقع بين 8، 9، وبما أن 75 أقرب إلى 81 منه إلى 64؛

فأفضل تقدير لـ $\sqrt{75}$ بعدد كلي هو 9.



١٦ **جبر** : قدر حل المعادلة $s^2 = 50$ إلى أقرب عدد

صحيح. (الدرس ٢-٢)

$$s^2 = 50$$

$$s = \sqrt{50}$$

أكبر مربع كامل أقل من 50 هو 49.

أصغر مربع كامل أكبر من 50 هو 64.

$$64 > 50 > 49$$

$$28 > 50 > 27$$

$$\sqrt{28} > \sqrt{50} > \sqrt{27}$$

$$7 = \sqrt{49}$$

$$8 = \sqrt{64}$$

أكتب المتباينة

$$28 = 64, 27 = 49$$

أوجد الجذر التربيعي لكل

عدد

$$8 > \sqrt{50} > 7$$

$\sqrt{50}$ يقع بين 7، 8 وبما أن 50 أقرب إلى 49 منه إلى 64؛

فأفضل تقدير لـ $\sqrt{50}$ بعدد كلي هو 7.

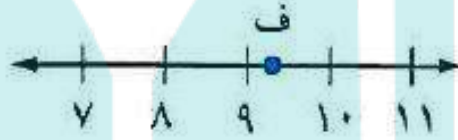
بسط



١٧ اختيار من متعدد : أيّ الجذور التربيعية التالية

يبين أفضل تمثيل للنقطة ف على خط الأعداد؟

(الدرس ٢-٢)



(ج) $\sqrt{91}$

(أ) $\sqrt{85}$

(د) $\sqrt{79}$

(ب) $\sqrt{81}$

حيث أن النقطة أقرب إلى ٩ منها إلى ١٠، أقرب تمثيل

للنقطة ف هو $\sqrt{85}$

الاختيار الصحيح (أ) $\sqrt{85}$



١٨ قياس : إذا كان نصف قطر الدائرة التي مساحتها م

هو $\sqrt{\frac{4}{3}}$ تقريبًا . فقدر نصف قطر الدائرة التي مساحتها ٤٢ سم^٢ . (الدرس ٢-٢)

نعوض عن م ب ٤٢

$$\sqrt{14n} = \frac{42}{3} = 14$$

$$16 > 14 > 9$$

$$2^4 > 14 > 2^3$$

$$4 > \sqrt{14n} > 3$$

$\sqrt{14n}$ يقع بين ٣، ٤ وبما أن ١٤ أقرب إلى ١٦ منه إلى ٩؛

فأفضل تقدير لـ $\sqrt{14n}$ بعدد كلي هو ٤.

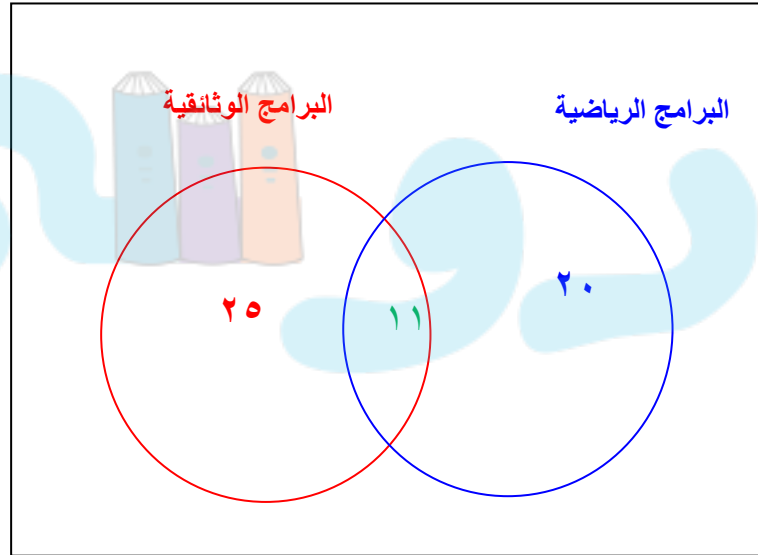
دروني



١٩ **برامج تلفزيونية** : أجرت إحدى القنوات الفضائية مسحاً لـ ٧٥ شخصاً حول البرامج التلفزيونية المفضلة، فبيّنت النتائج أن ٣١ شخصاً يفضلون البرامج الرياضية، و ٣٦ شخصاً يفضلون البرامج الوثائقية، و ١١ شخصاً يفضلون النوعين معاً. كم شخصاً لا يفضل البرامج الرياضية ولا البرامج الوثائقية؟ (الدرس ٢-٣)

عدد الذين لا يفضلون كلا البرنامجين =

$$٧٥ - (٢٥ + ١١ + ٢٠) = ٥٦ - ٧٥ = ١٩ \text{ شخصاً}$$



سَمِّ كل مجموعات الأعداد التي ينتمي إليها كل عدد حقيقي مما يأتي: (الدرس ٢-٤)

$$\sqrt{25}$$



$$\frac{2}{3}$$



$$\sqrt{3}$$



$$\sqrt{15}$$



$$\sqrt{4}$$



$$10$$



نسبي

$$\frac{2}{3} \quad (20)$$

كلي، صحيح، نسبي

$$\sqrt{25} \quad (21)$$

غير نسبي

$$\sqrt{15} \quad (22)$$

غير نسبي

$$\sqrt{3} \quad (23)$$

كلي، صحيح، نسبي

$$10 \quad (24)$$

كلي، صحيح، نسبي

$$\sqrt{4} \quad (25)$$



ضع إشارة < أو > أو = في لتكون كل جملة مما يأتي

صحيحة : (الدرس ٢-٤)

$\sqrt{45}$ ٦,٥ ٢٧

٤,١ $\sqrt{15}$ ٢٦

$\sqrt{10}$ ٣,٣ ٢٩

٥,٧٥ $\sqrt{35}$ ٢٨

$\sqrt{16} > \sqrt{15}$

٢٦ $4,1 > \sqrt{15}$

$6,708 > 6,5$

٢٧ $\sqrt{45} > 6,5$

$5,75 < 5,916$

٢٨ $5,75 < \sqrt{35}$

$3,16 < 3,3$

٢٩ $\sqrt{10} < 3,3$

دروني




استكشاف: نظرية فيثاغورس

حل النتائج:



١ ما العلاقة بين مساحات المربعات الثلاثة في كل مثلث؟



في مثلث ١ : ١ : ٢

في مثلث ٢ : ١ : ٢

في مثلث ٣ : ١ : ٢

مجموع مساحتي المربعين الصغيرين تساوي مساحة المربع الكبير.

٢ على ورق مربعات ستمتري، ارسم مثلثاً قائم الزاوية، طولاً ضلعي القائمة فيه ٣ سم، ٤ سم. إذا رسمت مربعاً على كل ضلع من أضلاع المثلث، فما مساحة كل مربع؟ استعمل مسطرة لقياس طول الضلع الثالث في المثلث.

مساحة كل مربع: ٣ سم ← ٩ سم^٢

٤ سم ← ١٦ سم^٢

طول الضلع الثالث = ٥ سم، مساحة المربع عليه = ٢٥ سم^٢

٢ خمن: حدد طول أطول ضلع في مثلث قائم الزاوية، طولاً أصغر ضلعين فيه ٦ سم، ٨ سم.



طول أطول ضلع = ١٠ سم

٢-٥ نظرية فيثاغورس

نشاط:



رياضة: يظهر المنظر الجانبي

لمنحدر الترحلق على شكل مثلث قائم الزاوية. ويمثل الشكل المجاور أربعة أوضاع ممكنة لهذا المنحدر. انقل الجدول إلى كراستك.



ارسم منظرًا جانبيًا

الخطوة ١

للمنموذج على ورق

مربعات لكل وضع من الأوضاع الأربعة، بحيث يمثل طول المربع الواحد قدمًا واحدة.

قص كل وضع، واستعمل ورق المربعات لإيجاد طول لوح

الخطوة ٢

الترحلق في كل وضع. ما أطول ضلع في نموذجك. سجل هذه النتائج في عمود جديد وأطلق عليه اسم الطول (ل).

في النهاية اجمع $ع^2 + ق^2$. احسب كل قيمة من هذه القيم،

الخطوة ٣

وضعها في عمود جديد من الجدول.

١ ما العلاقة بين $ع^2 + ق^2$ وقيمة العمود ل؟

٢ كيف تستعمل القيمة $ع^2 + ق^2$ لإيجاد القيمة المقابلة لها في العمود ل.

(١) قيمة $ع^٢ + ق^٢$ هي قيمة مربع العمود ل.

أو قيمة ل هي الجذر التربيعي الموجب للقيمة $ع^٢ + ق^٢$

(٢) احسب الجذر التربيعي الموجب للقيمة المقابلة

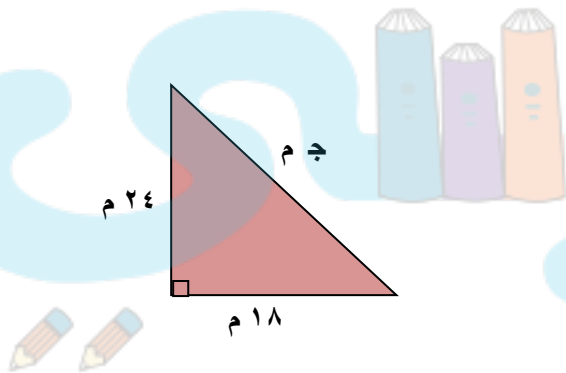
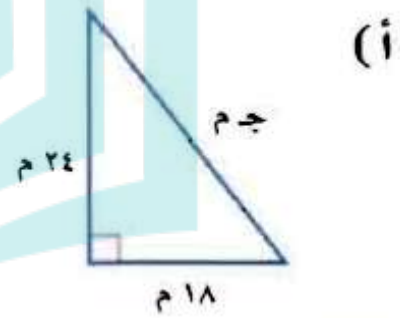
لها في العمود $ع^٢ + ق^٢$

دروني



تحقق

اكتب معادلة لإيجاد طول الضلع المجهول في كل مثلث قائم الزاوية. ثم أوجد الطول المجهول. واكتب إجابتك إلى أقرب جزء من عشرة إذا لزم ذلك.



$$ج^2 = أ^2 + ب^2$$

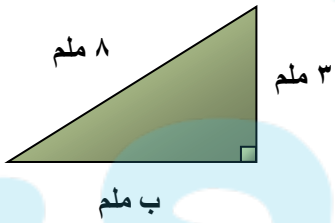
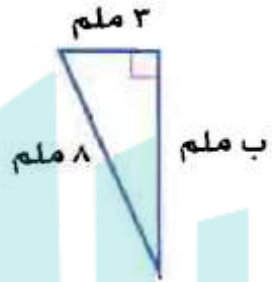
$$ج^2 = 24^2 + 18^2$$

$$ج^2 = 900$$

$$ج = \sqrt{900}$$

$$ج = 30 \text{ م}$$

(ب)



$$ج \quad 3^2 + 8^2 = b^2$$

$$9 + 64 = b^2$$

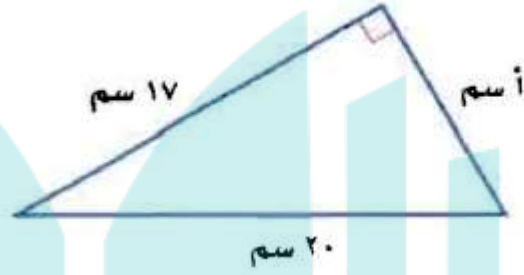
$$73 = b^2$$

$$b = \sqrt{73} \approx 8.54$$

$$b = \sqrt{73}$$

$$b = 8.54$$

ج)



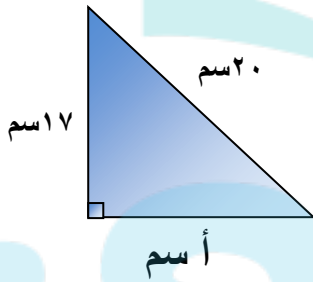
$$ج \quad 2^2 = 2^2 + 2^2$$

$$20^2 = 17^2 + 2^2$$

$$400 = 289 + 2^2$$

$$2^2 = 289 - 400 = 111$$

$$نعم؛ \quad 111 = 10,5^2$$



حدد ما إذا كان كل مثلث أطوال أضلاعه فيما يأتي قائم الزاوية أم لا، وتحقق من إجابتك.

(د) ٣٦ سم، ٤٨ سم، ٦٠ سم

$$ج \quad 2^2 = 2^2 + 2^2$$

$$2^2 36 + 2^2 48 = 2^2 60$$

$$1296 + 2304 = 3600$$

$$3600 = 3600$$

نعم؛ إذن المثلث قائم الزاوية.

نظرية فيثاغورس

احسب

بسط

(هـ) ٤ م، ٧ م، ٥ م

$$ج \quad 2^2 = 2^2 + 2^2$$

$$2^2 5 + 2^2 4 = 2^2 7$$

$$25 + 16 = 49$$

$$41 \neq 49$$

لا؛ إذن المثلث ليس قائم الزاوية.

نظرية فيثاغورس

احسب

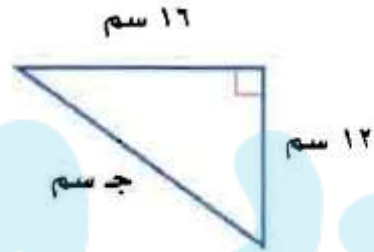
بسط





اكتب معادلة لإيجاد طول الضلع المجهول في كل مثلث مما يأتي، ثم أوجد، وقرب الإجابة إلى أقرب عُشر إذا لزم ذلك:

المثال ١



$$ج^2 = ١٦^2 + ١٢^2$$

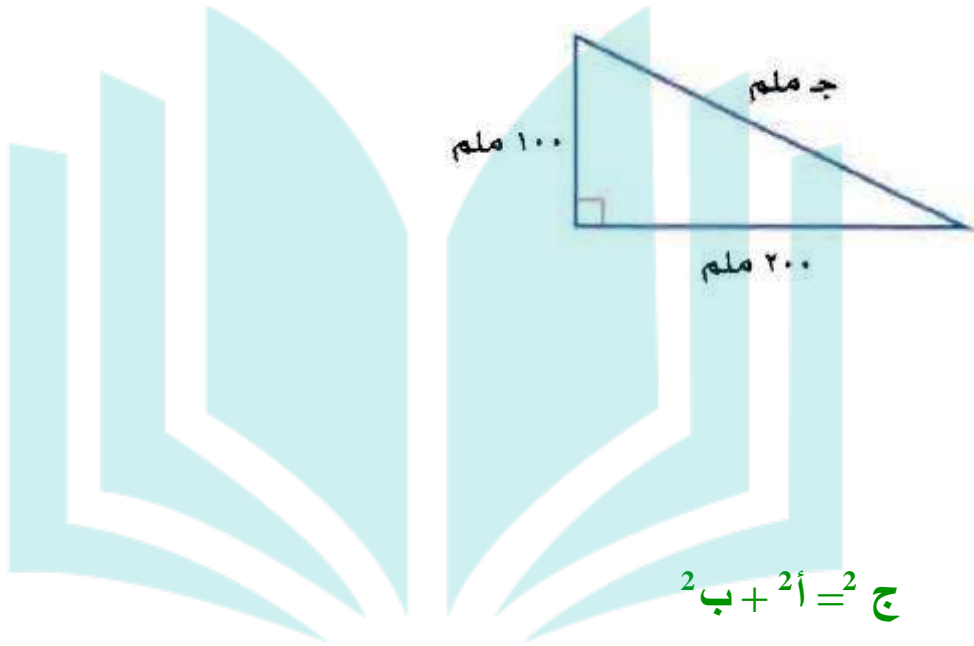
$$ج^2 = ٢٥٦ + ١٤٤ =$$

$$ج^2 = ٤٠٠ =$$

$$ج = \sqrt{٤٠٠} =$$

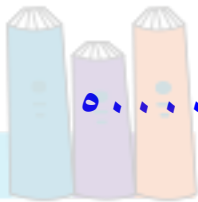
$$ج = ٢٠ \text{ سم}$$





ج $= \sqrt{100^2 + 200^2}$

ج $= \sqrt{100^2 + 200^2}$



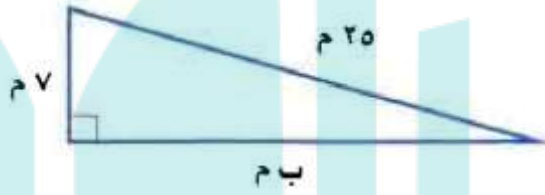
$50000 = 10000 + 40000 =$

ج $= \sqrt{50000}$

ج $= 223,6$ ملم



المثال ۲



ج $7^2 + B^2 = 25^2$

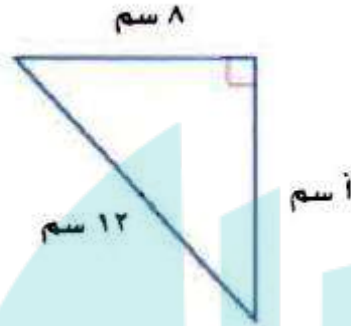
$B^2 + 7^2 = 25^2$

$B^2 = 25^2 - 7^2$

$B^2 = 625 - 49 = 576$

ب $B = \sqrt{576} = 24m$





$$ج^2 = ا^2 + ب^2$$

$$12^2 = 8^2 + 9^2$$

$$144 = 64 + 81$$

$$144 - 64 = 80$$

$$ا = \sqrt{80} = 8,9 \text{ سم}$$



المثال ١

٥ طول وتر مثلث قائم الزاوية ١٢ سم، وطول إحدى ساقيه ٧ سم، أوجد طول الساق الأخرى، وقرب الناتج إلى أقرب جزء من عشرة إذا لزم ذلك.

$$\text{ج} = ١٢ \text{ سم} ، \text{ أ} = ٧ \text{ سم} ، \text{ ب} = ?$$

$$\text{ج}^2 = \text{أ}^2 + \text{ب}^2$$

$$12^2 = 7^2 + \text{ب}^2$$

$$\text{ب}^2 = 12^2 - 7^2$$

$$= 144 - 49 = 95$$

$$\text{ب} = \sqrt{95} = 9,7 \text{ سم}$$



المثال ٣

حدد ما إذا كان كل مثلث بالأضلاع المعطاة قائم الزاوية أم لا، وتحقق من إجابتك:

٦ ٥ سم، ١٠ سم، ١٢ سم .

$$ج \quad 2^2 = 2^2 + 2^2$$

$$2^2 5 + 2^2 10 = 2^2 12$$

$$25 + 100 = 144$$

$$125 \neq 144$$

نظرية فيثاغورس

احسب

بسط

إذن المثلث ليس قائم الزاوية.



٩ م، ٤٠ م، ٤١ م .



$$ج^2 = ا^2 + ب^2$$

$$9^2 + 40^2 = 41^2$$

$$81 + 1600 = 1681$$

$$1681 = 1681$$

إذن المثلث قائم الزاوية.

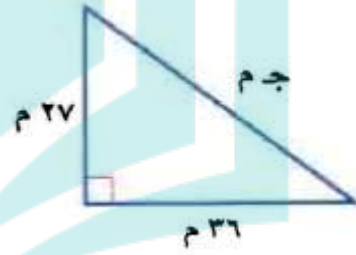
دروني



تدرب وحل المسائل:



اكتب معادلة لإيجاد الضلع المجهول في كل مثلث قائم الزاوية. ثم قرّب طول الضلع المجهول إلى أقرب جزء من عشرة إذا لزم ذلك:



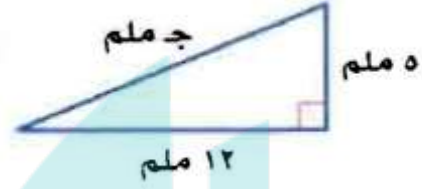
$$ج^2 = أ^2 + ب^2$$

$$ج^2 = 27^2 + 36^2$$

$$ج^2 = 729 + 1296 = 2025$$

$$ج = \sqrt{2025}$$

$$ج = ٤٥ م$$



$$ج^2 = ا^2 + ب^2$$

$$ج^2 = 5^2 + 12^2$$

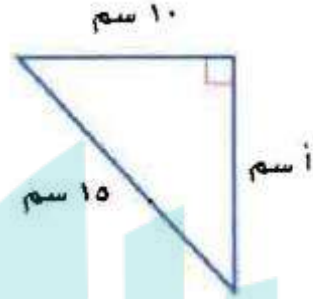
$$169 = 25 + 144 =$$

$$ج = \sqrt{169}$$

$$ج = 13 \text{ ملم}$$

دروانی





$$ج^2 = ا^2 + ب^2$$

$$17^2 = 10^2 + ا^2$$

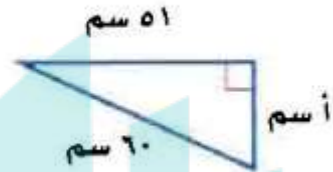
$$ا^2 = 17^2 - 10^2$$

$$= 289 - 100 = 189$$

$$ا = \sqrt{189} = 13,7 \text{ سم}$$



دروانی



$$ج^2 = ا^2 + ب^2$$

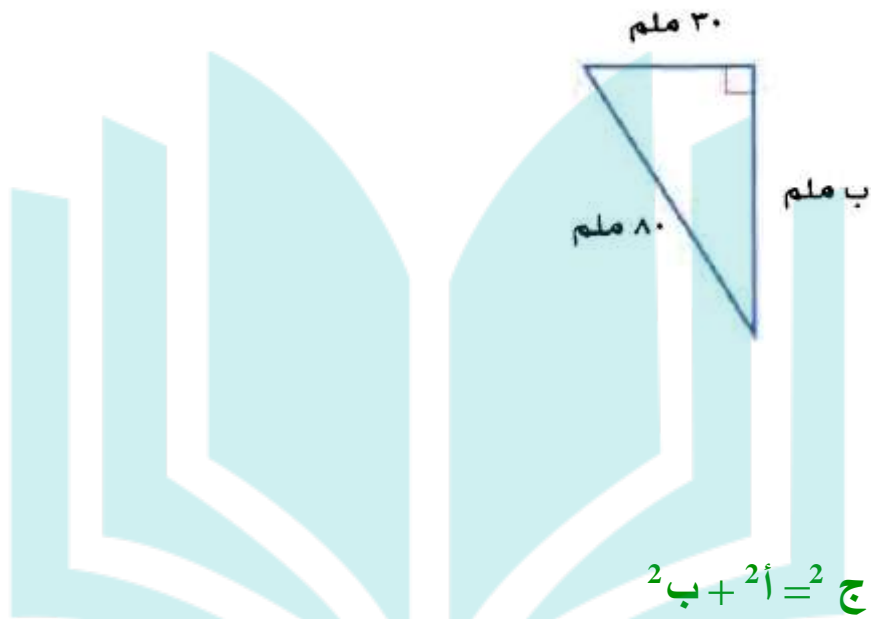
$$60^2 = ا^2 + 51^2$$

$$ا^2 = 60^2 - 51^2$$

$$= 3600 - 2601 = 999$$

$$ا = \sqrt{999} = 31,6 \text{ سم}$$





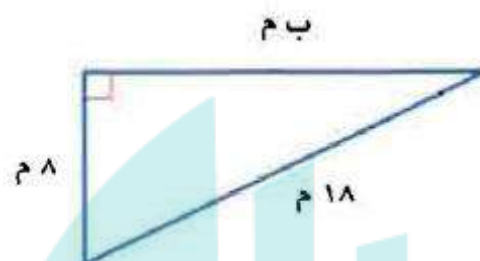
$$۳۰^۲ + ب^۲ = ۸۰^۲$$

$$ب^۲ = ۸۰^۲ - ۳۰^۲$$

$$= ۵۵۰۰ = ۹۰۰ - ۶۴۰۰$$

$$ب = \sqrt{۵۵۰۰} = ۷۴,۲ \text{ ملم}$$





$$ج^2 = ا^2 + ب^2$$

$$18^2 = 8^2 + ب^2$$

$$ب^2 = 18^2 - 8^2$$

$$= 324 - 64 = 260$$

$$ب = \sqrt{260} = 16,1 م$$



حدد ما إذا كان كل مثلث بالأضلاع المعطاة فيما يأتي مثلثاً قائم الزاوية أم لا. وتحقق من إجابتك:

١٤ م ٢٨، م ١٩٥، م ١٩٧

$$ج \quad 2^2 = 2^2 + 2^2$$

$$2^2 28 + 2^2 195 = 2^2 197$$

$$784 + 380.25 = 388.09$$

$$388.09 = 388.09$$

إذن المثلث قائم الزاوية.

١٥ م ٣٠، م ١٢٢، م ١٢٥

$$ج \quad 2^2 = 2^2 + 2^2$$

$$2^2 30 + 2^2 122 = 2^2 125$$

$$900 + 14884 = 15625$$

$$15784 \neq 15625$$

إذن المثلث ليس قائم الزاوية.

١٦ م٢٤، م١٤٣، م١٤٥

$$ج \quad 2^2 = 2^2 + 2^2$$

$$2^2 24 + 2^2 143 = 2^2 145$$

$$576 + 20449 = 21025$$

$$21025 = 21025$$

إذن المثلث قائم الزاوية.

١٧ **أجرة بريد:** يصنف المغلف بأنه كبير إذا تجاوز طوله

٣٠ سم. هل المغلف التالي كبير؟



$$ج \quad 2^2 = 2^2 + 2^2$$

$$2^2 15 + 2^2 35 = 2^2 35$$

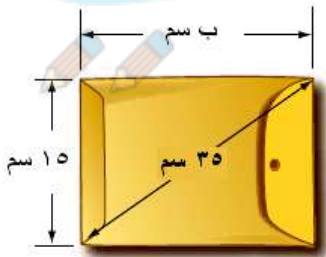
$$2^2 15 - 2^2 35 = 2^2$$

$$1000 = 225 - 1225 =$$

$$ب = \sqrt{1000} = 31,6 \text{ سم}$$

$$ب < 30$$

إذن المغلف كبير.



اكتب معادلة لإيجاد طول الضلع المجهول في كل مثلث قائم الزاوية، ثم أوجد الطول المجهول، وقرب الناتج إلى أقرب جزء من عشرة إذا لزم ذلك:

$$١٨ \quad \text{أ} = ٤٨ \text{ م، ب} = ٥٥ \text{ م}$$

$$\text{ج} = ٢\text{أ} + ٢\text{ب}$$


$$\text{ج} = ٢٥٥ + ٢٤٨$$

$$= ٥٠٣ = ٣٠٢ + ٢٠١$$

$$\text{ج} = \sqrt{5329}$$

$$\text{ج} = ٧٣ \text{ م}$$



ب = ۵، ۴ م، ج = ۹، ۴ م 

$$ج^2 = ا^2 + ب^2$$

$$9,4^2 = ا^2 + 4,5^2$$

$$ا^2 = 9,4^2 - 4,5^2$$

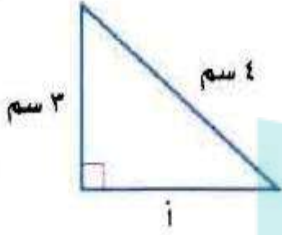
$$ا = \sqrt{68,11}$$

$$ا = 8,25 م$$

دروانی



مسائل مهارات التفكير العليا:



اكتشف الخطأ: يحاول كل من مشعل وإبراهيم أن يجد طول الضلع الثالث في المثلث المجاور أيهما جوابه صحيح؟ فسّر إجابتك.



إبراهيم

$$4 + 3 = 1$$

$$3 + 4 = 4$$



مشعل

بما أن في المثلث القائم الزاوية حيث ج طول وتر المثلث، أ، ب طولي ساقي المثلث.

وبما أن طول الوتر = 4 سم؛ المعادلة هي $3^2 + 2^2 = 4^2$

فإن إجابة مشعل هي الإجابة الصحيحة.



تحد: تسمى الأعداد ٣، ٤، ٥ ثلاثية فيثاغورس؛ لأنها تحقق نظرية فيثاغورس. أوجد مجموعتين من ثلاثيات فيثاغورس.

١٢، ١٣، ٥

$$ج^2 = أ^2 + ب^2$$

$$13^2 = 5^2 + 12^2$$

$$169 = 25 + 144$$

$$169 = 169$$

٢٥، ٢٠، ١٥

$$ج^2 = أ^2 + ب^2$$

$$25^2 = 15^2 + 20^2$$

$$625 = 225 + 400$$

$$625 = 625$$



اكتب: فسّر لماذا يمكنك استعمال طولي أيّ ضلعين في المثلث القائم الزاوية لإيجاد طول الضلع الثالث؟

لأنه تربط نظرية فيثاغورس أطوال الأضلاع الثلاثة حيث أن مربع طول الوتر يساوي مجموع مربعي طولي الساقين. فإذا علمت طولي ضلعين في مثلث قائم الزاوية يمكنك تعويض القيم في نظرية فيثاغورس لإيجاد طول الضلع المجهول.

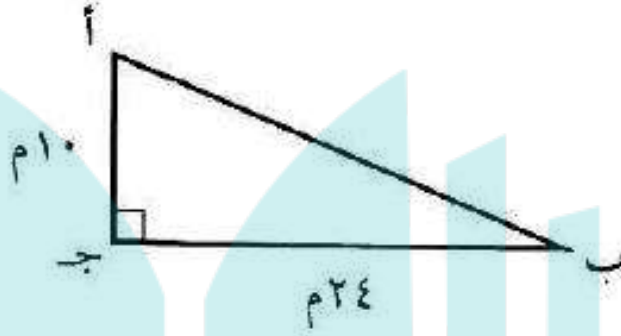


تدریب علی اختبار



احسب محيط المثلث أ ب ج .

٢٣



(ج) ٦٠ م

(أ) ٢٦ م

(د) ٦٨ م

(ب) ٣٤ م

$$\text{أ ب} = \sqrt{100 + 576} = \sqrt{676} = 26 \text{ م}$$

$$\text{محيط المثلث} = 10 + 24 + 26 = 60 \text{ م}$$

الإجابة الصحيحة (ج) ٦٠ م



٢٤ **إجابة قصيرة:** وضع سلم طوله ١٠ أقدام على الحائط الرأسي لمنزل، بحيث تبعد حافة السلم السفلى ٦ أقدام من قاعدة المنزل.



على ارتفاع كم قدم من الحائط تصل حافة السلم العليا؟

$$\text{الارتفاع} = \sqrt{100 - 36} = \sqrt{64} = 8 \text{ أقدام}$$

درواني



مراجعة تراكمية

جبر: ضع إشارة < أو > أو = في لتكون كل جملة مما يأتي صحيحة: (الدرس ٢ - ٤)

$6,4$

$41\sqrt{}$

26

$3,5$

$12\sqrt{}$

25

$3,5 > 3,4$

$3,5 > 12\sqrt{}$ (٢٥)

$6,4 < 6,403$

$6,4 < 41\sqrt{}$ (٢٦)

$7,4$

$55\sqrt{}$

28

$\frac{17}{3}$

$5,6$

27

$5,66666 = 5,66666$

$\frac{17}{3} = 5,6$ (٢٧)

$7,4 < 7,416$

$7,4 > 55\sqrt{}$ (٢٨)



٢١ جبر: قدر حل المعادلة $s^2 = 77$ إلى أقرب عدد صحيح. (الدرس ٢-٢)

$$s^2 = 77$$

$$s = \pm \sqrt{77}$$

$$81 > 77 > 64$$

٧٧ أقرب إلى ٨١ منها إلى ٦٤

$$8 > \sqrt{77} > 9$$

$$s = 9 \text{ أو } -9$$

٢٢ هندسة: إذا كانت مساحة المربع الكبير في الشكل المجاور 49 م^2 ، فأوجد مساحة المربع الصغير. (الدرس ٢-١)



$$\text{طول ضلع المربع الكبير} = \sqrt{49} = 7 \text{ م}$$

$$\text{طول ضلع المربع الصغير} = 7 - 4 = 3 \text{ م}$$

$$\text{مساحة المربع الصغير} = 3^2 = 9 \text{ م}^2$$



الاستعداد للدرس اللاحق

مهارة سابقة: حل كل معادلة مما يأتي ، وتحقق من صحة حلك:

$$ص + ٥٤ = ٨٢ \quad (٣١)$$

$$٢٤ + س = ٥٧ \quad (٣١)$$

$$٢٤ + س = ٥٧ \quad (٣١)$$

$$\begin{array}{r} ٢٤ - \\ \hline ٢٤ - \end{array}$$

$$س = ٣٣$$

التحقق: $٢٤ + ٣٣ = ٥٧$

$$٥٧ = ٥٧ \quad \text{C}$$

$$ص + ٥٤ = ٨٢ \quad (٣٢)$$

$$\begin{array}{r} ٥٤ - \\ \hline ٥٤ - \end{array}$$

$$ص = ٢٨$$

التحقق: $٢٨ + ٥٤ = ٨٢$

$$٨٢ = ٨٢ \quad \text{C}$$



$$۲۷ + ب = ۶۴ \quad (۳۴)$$

$$ع + ۳۵ = ۷۱ \quad (۳۳)$$

$$ع + ۳۵ = ۷۱ \quad (۳۳)$$

$$\underline{۳۵} \quad \underline{۳۵}$$

$$ع = ۳۶$$

التحقق: $۳۶ + ۳۵ = ۷۱$

C $۷۱ = ۷۱$

$$۲۷ + ب = ۶۴ \quad (۳۴)$$

$$\underline{۲۷} \quad \underline{۲۷}$$

$$ب = ۳۷$$

التحقق: $۲۷ + ۳۷ = ۶۴$

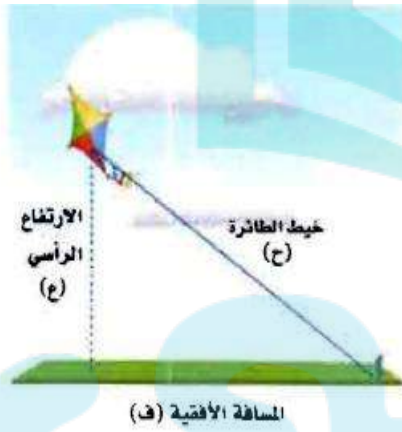
C $۶۴ = ۶۴$



تطبيقات على نظرية فيثاغورس

٦-٢

استعد:



طائرة ورقية : تعد الطائرة الورقية إحدى الألعاب المفضلة لدى كثير من الأطفال. وأشهر أنواعها التي تطير باستعمال خيط واحد، حيث تربط الطائرة بطرف الخيط، ويمسك الطفل الطرف الثاني، أو يكون مثبتاً في الأرض، كما في الصورة المجاورة.

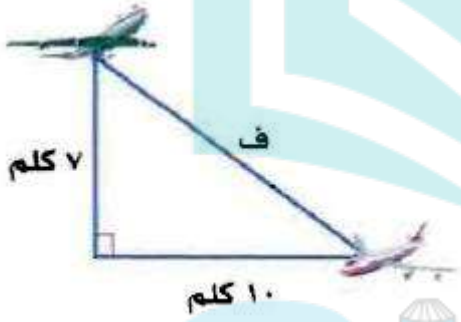
- ١ ما نوع المثلث الذي تشكّل من كل من المسافة الأفقية، والارتفاع الرأسى، والخيوط الواصل من الطائرة إلى الأرض؟
- ٢ اكتب معادلة يمكن أن تستعمل لإيجاد طول خيط الطائرة.

(١) مثلث قائم الزاوية.

(٢) $ح^2 = ف^2 + ع^2$

تحقق

(أ) طيران: اكتب معادلة يمكن استعمالها لإيجاد المسافة بين الطائرتين، ثم حلها. وقرب الناتج إلى أقرب جزء من عشرة.



$$f^2 = 7^2 + 10^2$$

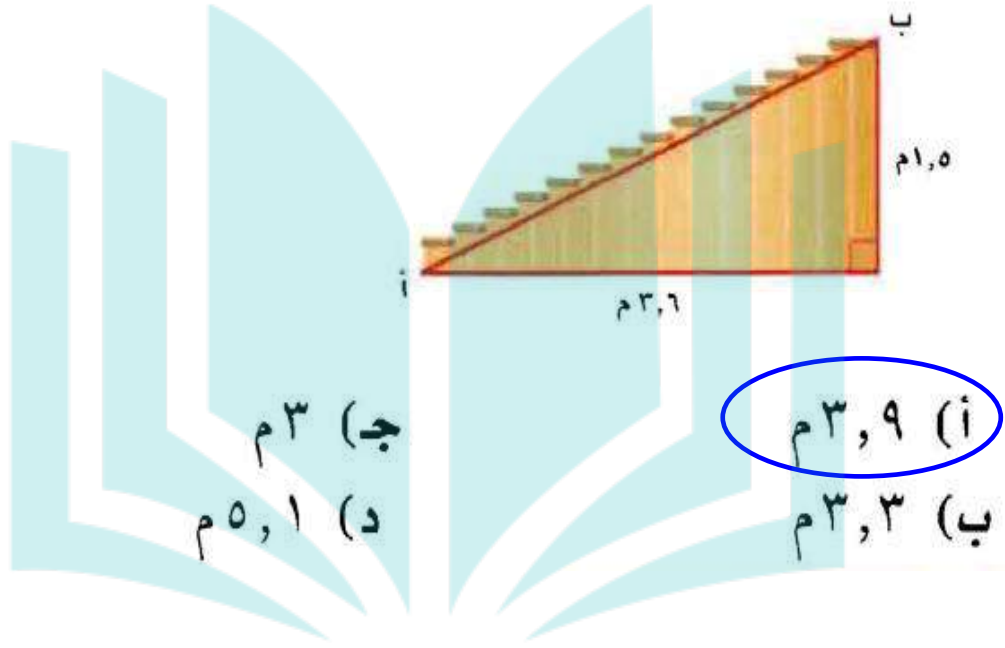
$$= 49 + 100$$

$$= 149$$

$$f = \sqrt{149}$$

$$f = 12,2 \text{ كلم}$$

ب) إذا كان ارتفاع درج بنایه هو ١,٥ م، وقاعدته ٣,٦ م كما هو موضح في الشكل أدناه، فما البعد بين النقطتين: أ، ب؟



دروني



$$^23,6 + ^21,5 = ^2(أ)$$

$$أب = \sqrt{15,21}$$

$$أب = ٣,٩ م$$



المثال ١

اكتب معادلة يمكن استعمالها للإجابة عن كل سؤالٍ مما يأتي، ثم حلها، وقرب الجواب إلى أقرب جزء من عشرة إذا لزم ذلك:

١ ما ارتفاع الخيمة؟

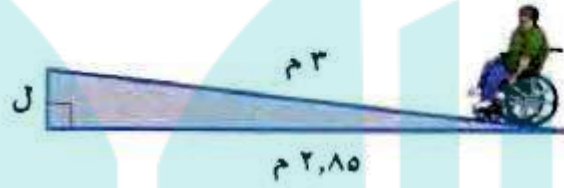


$$3^2 + 2^2 = 5^2$$

$$9 + 2^2 = 25$$

$$\Rightarrow \sqrt{16} = 4 \text{ أقدام}$$

ما ارتفاع مسار الكرسي المتحرك؟ 



$$Z + 2,85 = 3$$

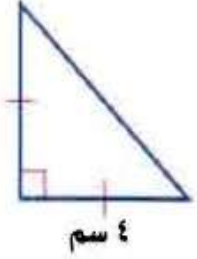
$$2,85 - 3 = Z$$

$$Z = 0,8775$$

$$Z = 1,16$$

$$Z \approx 0,9 \text{ م}$$





هندسة: ساقا المثلث القائم الزاوية المتطابق الضلعين متساويان في القياس. إذا كان طول إحدى ساقى مثلث قائم الزاوية متطابق الضلعين هو ٤ سم، فما طول الوتر؟

$$ج^2 = أ^2 + ب^2$$

$$ج^2 = 4^2 + 4^2$$

$$ج^2 = 16 + 16$$

$$ج = \sqrt{32}$$

$$ج = 5,7 \text{ سم}$$



المثال ٢

صمم عبد الله قطعة زجاجية **اختيار من متعدد:**

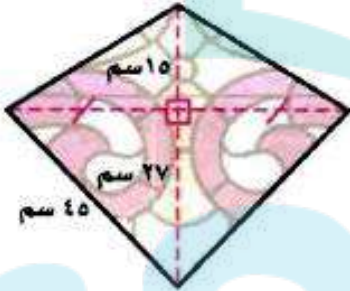
كما في الشكل المجاور . ما محيط هذه القطعة؟

(ج) ١٦٢ سم

(أ) ١٠٨ سم

(د) ١٦٨ سم

(ب) ١١٤ سم



$$27^2 + د^2 = 45^2$$

$$27^2 - 45^2 = د^2$$

$$د = \sqrt{1296} = 36 \text{ سم}$$

بما أن $د = 36$ و $و = 36$ إذن $و = 36$ سم

$$ج = و^2 + 27^2 =$$

$$= 36^2 + 27^2 =$$

$$ج = \sqrt{2025} = 45 \text{ سم}$$

$$أ = 27^2 + 15^2 =$$

$$أ = \sqrt{1521} = 39 \text{ سم}$$

بما أن $د = 36$ و $و = 36$ ، الضلع ١٥ سم مشترك

فإن $أ = 39$ سم

محيط الشكل = $أ + ب + ج + د =$

$$= 45 + 39 + 39 + 45 =$$

$$= 168 \text{ سم}$$

إذن الإجابة الصحيحة: د



تدرب وحل المسائل:



اكتب معادلة يمكن استعمالها للإجابة عن كل سؤال مما يأتي. ثم حلها، وقرب الجواب إلى أقرب جزء من عشرة.

كم ترتفع القطة على الشجرة؟



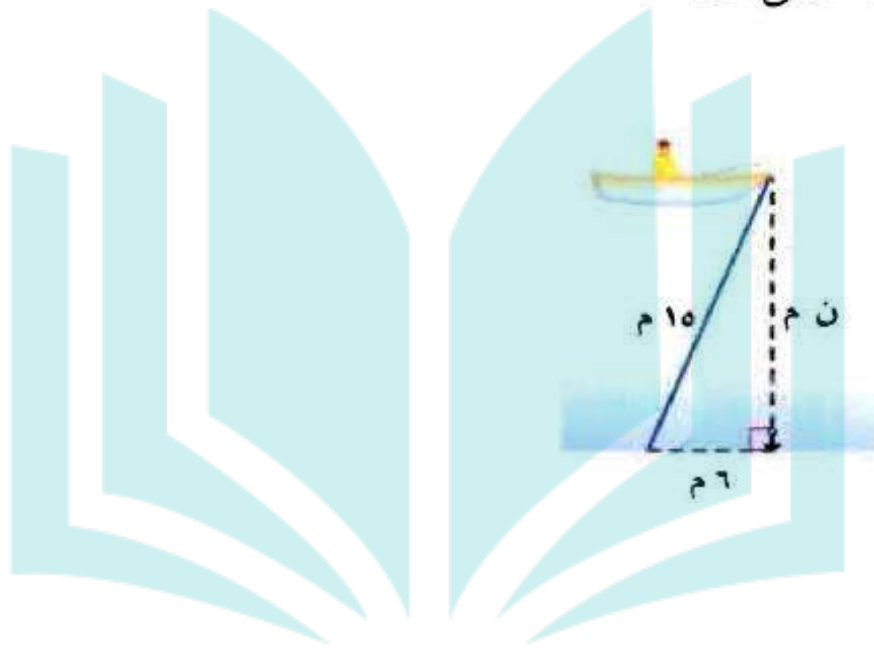
$$ع^2 = 12^2 - 5^2$$

$$= 144 - 25 = 119$$

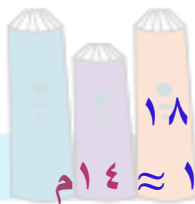
$$ع = \sqrt{119} = 10,908 \approx 11 \text{ م}$$



٦ ما عمق الماء؟



$$n^2 = 15^2 - 6^2$$

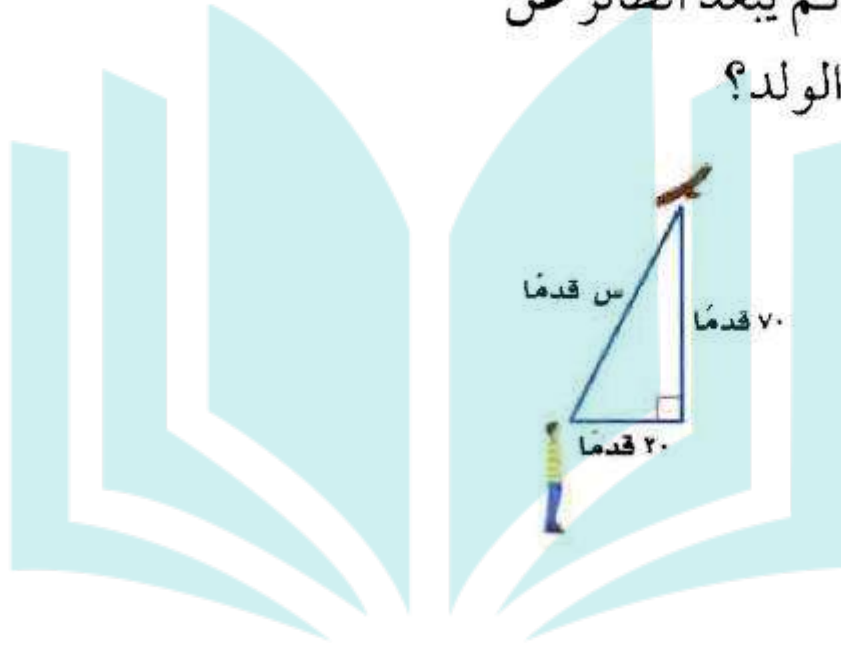


$$= 225 - 36 = 189$$

$$n = \sqrt{189} = 13,74 \approx 14 \text{ م}$$



٧ كم يبعد الطائر عن
الولد؟



درواني



$$س^2 = 20^2 + 70^2$$

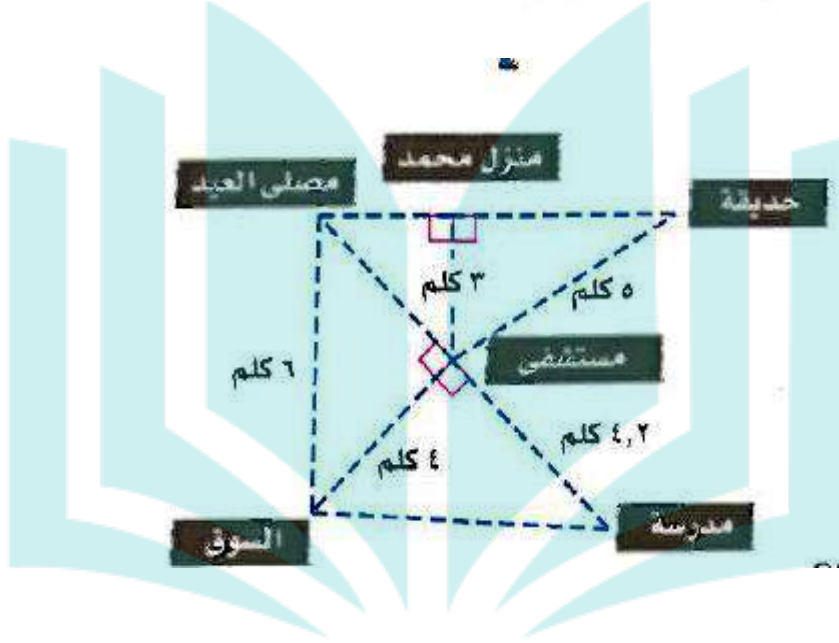
$$= 400 + 4900$$

$$= 5300$$



$$س = \sqrt{5300} = 72,8 \approx 73 \text{ قدماً}$$

استعمل المخطط المجاور للاجابة عن الأسئلة ٨ - ١٠ ،
 وقرب الجواب إلى أقرب جزء من عشرة:



كم يبعد منزل محمد عن الحديقة؟



بعد منزل محمد عن الحديقة = $\sqrt{25 - 9} = \sqrt{16} = 4$ كلم




٩ صلي شخص في مصلى العيد، ثم قام بزيارة مريض في المستشفى، ثم ذهب الى السوق، فما طول المسافة التي قطعها؟

المسافة بين المصلى والمستشفى = $\sqrt{36 - 16} = \sqrt{20} = 2\sqrt{5}$

المسافة التي قطعها = $2\sqrt{5} + 4 \approx 8,47$ كلم



كم تزيد المسافة بين الحديقة ومصلى العيد على المسافة بين السوق والمدرسة؟ 

البعد بين منزل محمد والمصلى = $20 - 9 = 11$ كلم $\approx 3,3$ كلم

المسافة بين الحديقة والمصلى = $3,3 + 4 = 7,3$ كلم

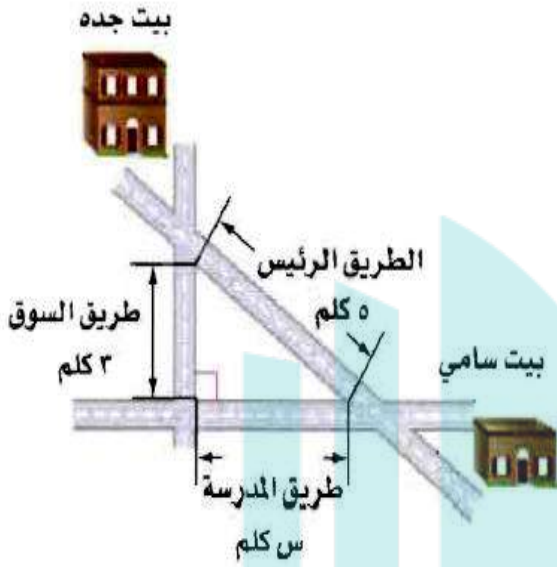
المسافة بين المدرسة و السوق =

$17,64 + 16 = 33,64$ كلم $\approx 5,8$ كلم

الفرق بين المسافتين = $7,3 - 5,8 = 1,5$ كلم

دروني





١١ مسافات: يرغب سامي في الذهاب من بيته إلى

بيت جده. ما المسافة التي يوفرها إذا سلك

الطريق الرئيس بدلاً من الطريقين الآخرين؟

$$3^2 + s^2 = 5^2$$

$$s^2 - 5^2 = -3^2$$

$$s = \sqrt{9 - 25} = \sqrt{16}$$

$$s = 4 \text{ كم}$$

$$5 - (4 + 3) = \text{المسافة التي يوفرها سامي} = 5 - 7 =$$

$$= 2 \text{ كم}$$



١٢ تسليية: يرغب أحمد في مشاهدة برامج المحببة من خلال تلفاز ذي شاشة كبيرة؛ لذا يرغب في شراء تلفاز جديد، بعدًا شاشته ٢٥ بوصة \times ١٣ بوصة. أوجد قطر شاشة التلفزيون.



بعدًا الشاشة هو طولًا ساقي مثلث قائم الزاوية.

$$ج^2 = 25^2 + 13,6^2$$

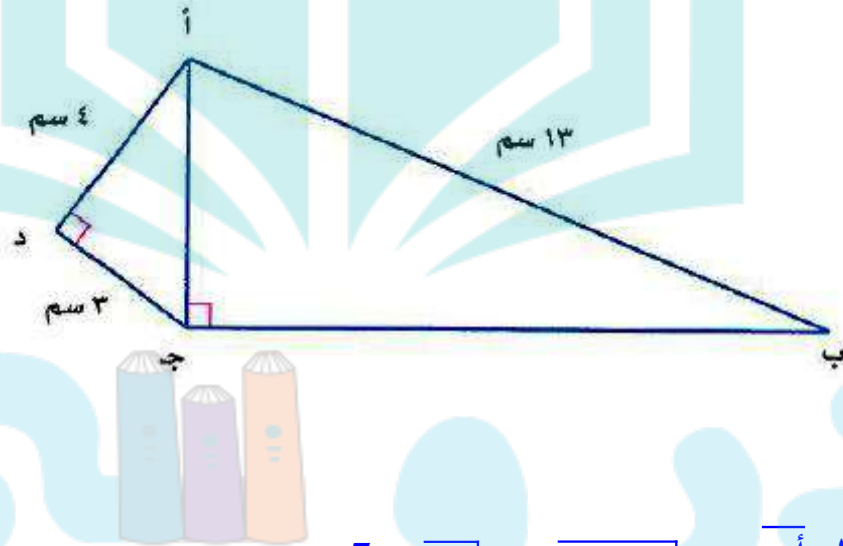
$$= 625 + 184,96$$

$$ج = \sqrt{809,96} = 28,45 \text{ بوصة.}$$



١٣

هندسة: في الشكل المجاور،
الرباعي أ ب ج د فيه الزاوية د زاوية
قائمة، والقطر أ ج يعامد الضلع
ب ج. أوجد طول الضلع ب ج؟

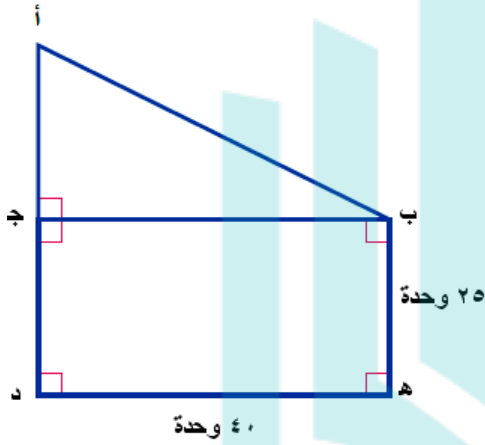


$$\text{طول } \overline{أ ج} = \sqrt{9 + 16} = \sqrt{25} = 5$$

$$\text{طول } \overline{ب ج} = \sqrt{5^2 - 13^2} = \sqrt{144} = 12 \text{ سم}$$



١٤ هندسة : أوجد طول الوتر أ ب، حيث طول القطعة أ د مطابق لطول القطعة د هـ. قَرِّب الناتج إلى أقرب جزء من عشرة.



$$أ د = د ه = ٤٠ وحدة$$

ب ج د ه مستطيل

$$إذن د ج = ب ه = ٢٥ وحدة،$$

$$ب ج = ٤٠ وحدة.$$

$$أ ج = ٤٠ - ٢٥ = ١٥ وحدة.$$

المثلث أ ب ج قائم الزاوية،

طولا ساقيه ٤٠ ، ١٥ وحدة.

إذن:

$$(أ ب)^2 = 40^2 + 15^2$$

$$= 1600 + 225 = 1825$$

$$أ ب = \sqrt{1825}$$

$$أ ب = ٤٢,٧ وحدة.$$



مسائل مهارات التفكير العليا:

مسألة مفتوحة:

١٥ مسألة مفتوحة: اكتب مسألة يمكن حلها باستعمال نظرية فيثاغورس. ثم فسّر كيف تحل المسألة.

قام بعض الطلاب بتزيين الفصل الدراسي وأرادوا أن يقسموا الحائط إلى جزأين، كل جزء على شكل مثلث. واستخدموا لتقسيم الحائط شريط من ورق الزينة.

إذا كان ارتفاع الحائط ٣م، وطوله ٤م، فكم مترا يحتاج الطلاب لتقسيم الحائط؟

$$ج \quad 2^2 = 2^2 + 2^2$$

$$ج \quad 2^2 + 2^2 = 2^2$$

$$ج \quad 9 + 16 = 25$$

$$ج \quad 25 = 5^2$$



١٦ **اكتشف المختلف:** تمثل كل مجموعة من الأعداد الآتية أطوال أضلاع مثلث. حدد المجموعة التي لا تنتمي للمجموعات الأخرى. فسّر إجابتك.

١٠، ٨، ٦

٧، ٥، ٣

٣٧، ٣٥، ١٢

٥، ٤، ٣

$$^23 + ^24 = ^25$$

$$٩ + ١٦ = ٢٥$$

إذن المثلث قائم الزاوية.

$$^235 + ^212 = ^237$$

$$١٣٦٩ = ١٢٢٥ + ١٤٤ = ١٣٦٩$$

إذن المثلث قائم الزاوية.

$$^23 + ^25 = ^27$$

$$٩ + ٢٥ \neq ٤٩$$

إذن المثلث ليس قائم الزاوية.

١٠، ٨، ٦ هي مضاعفات لـ ٢، ٤، ٥، ٣

إذن المثلث الذي أطوال أضلاعه ١٠، ٨، ٦ هو مثلث قائم الزاوية.

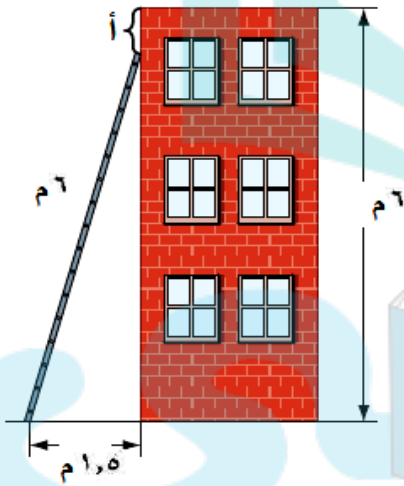
المجموعة التي لا تنتمي للمجموعات الأخرى هي: ٣، ٥، ٧



تحدي:

١٧ تحدّي: وضع سلم طوله ٦ أمتار على حائط رأسي ارتفاعه ٦ أمتار. كم تبعد حافة السلم العليا عن أعلى الحائط إذا كان أسفل السلم يبعد ١,٥ متر من قاعدة الحائط؟ برّر إجابتك.

نجد أولاً المسافة بين حافة السلم العليا وأسفل الحائط باستخدام نظرية فيثاغورس.



$$ج^2 = أ^2 + ب^2$$

$$6^2 = أ^2 + 1,5^2$$

$$أ^2 = 6^2 - 1,5^2$$

$$أ = \sqrt{36 - 2,25}$$

$$أ = ٥,٨ م$$

إذن حافة السلم العليا تبعد عن أعلى الحائط مسافة

$$٦ - ٥,٨ = ٠,٢ \text{ متراً} = ٢٠ \text{ سم}$$



١٨ **اكتب** طول وتر مثلث قائم الزاوية متطابق الضلعين

يساوي $\sqrt{288}$ وحدة. بيّن كيف تجد طول كل ساق من ساقيه.



$$ج = \sqrt{288}$$

بما أن المثلث متطابق الضلعين فإن $أ = ب$

$$أ = \frac{228}{2}$$

$$أ = 144$$

$$أ = ب = ١٢ \text{ وحدة}$$



تدريب على اختبار




١٩ صمّم بدر حديقة منزله على شكل مستطيل، ويخطط لعمل ممرّ بشكل قطري، كما في الشكل المجاور. أيّ القياسات الآتية أقرب إلى طول الممر:

أ) ٨ م

ب) ١١ م

ج) ١٧ م

د) ٢٣ م



٧,٥ م

١٥ م

$$ج^2 = 15^2 + 7,5^2$$

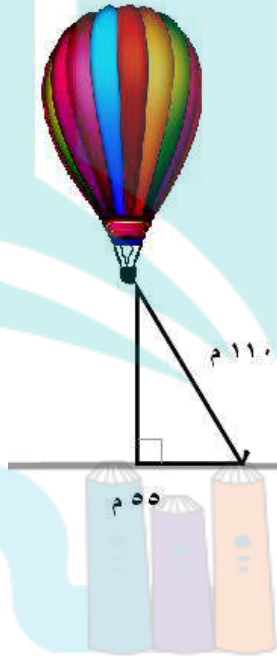
$$ج = ١٦,٧ م$$

القياس الأقرب (ج): ١٧ م



يمثل الشكل المجاور منطادًا هوائيًا. أوجد ارتفاعه عن سطح الأرض.

(أ) ٥٥ م (ب) ٩٥,٣ م (ج) ١٢٣ م (د) ١٦٣,٥ م



$$55^2 + b^2 = 110^2$$

$$b^2 = 110^2 - 55^2$$

الاختيار (ب) ٩٥,٣ م



مراجعة تراكمية

١١ هندسة : حدد ما إذا كان المثلث الذي أطوال أضلاعه : ٢٠ سم ، ٤٨ سم ، ٥٢ سم قائم الزاوية أم لا ، وتحقق

من إجابتك. (الدرس ٢-٥)

نعم؛

$$20^2 + 48^2 = 52^2$$

١٢ رتب الأعداد: $\sqrt{45}$ ، ٦ ، ٦ ، ٦ ، ٧٥ ، ٧ ، ٦ من الأصغر إلى الأكبر: (الدرس ٢-٤)

نكتب الأعداد بطريقة عشرية

6,7 @ 6,75 @ 6,6666 @ 6,71

الترتيب:

6,75 @ $\sqrt{45}$ @ 6,7 @ 6,6



أوجد ناتج الجمع أو الطرح في أبسط صورة: (الدرس ١ - ٦)

$$7\frac{3}{4} - 1\frac{1}{8} \quad (22)$$

$$(5\frac{3}{4} -) + 3\frac{2}{3} \quad (23)$$

$$9\frac{5}{12} - = \frac{113}{12} - = \frac{69-44}{12} = \frac{23}{4} - \frac{11}{3} - = (5\frac{3}{4} -) + 3\frac{2}{3} - \quad (23)$$

$$8\frac{7}{8} - = \frac{71}{8} - = \frac{62-9}{8} = \frac{31}{4} - \frac{9}{8} - = 7\frac{3}{4} - 1\frac{1}{8} - \quad (24)$$

$$(6\frac{5}{6} -) + 4\frac{7}{8} \quad (26)$$

$$4\frac{1}{2} - \frac{1}{5} \quad (25)$$

$$3\frac{9}{10} - = \frac{39}{10} - = \frac{45-6}{10} = \frac{9}{2} - \frac{3}{5} = 4\frac{1}{2} - \frac{3}{5} \quad (25)$$

$$1\frac{23}{24} - = \frac{47}{24} - = \frac{164-117}{24} = \frac{41}{6} - \frac{39}{8} = (6\frac{5}{6} -) + 4\frac{7}{8} \quad (26)$$



الاستعداد للدرس اللاحق

مهارة سابقة : مثل كل نقطة مما يأتي على المستوى الإحداثي :

أ (٢٨) $(-1, 3)$

ت (٢٧) $(5, 2)$

(٢٧) ت $(5, 2)$

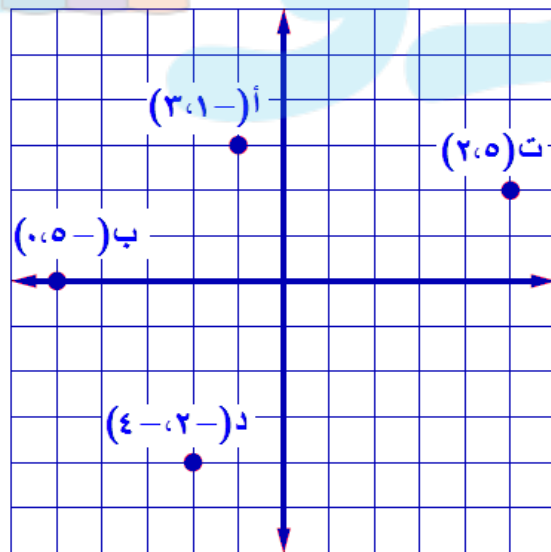
(٢٨) أ $(-1, 3)$

د (٢٩) $(-2, -4)$

ب (٢٩) $(-5, 0)$

(٢٩) ب $(-5, 0)$

(٣٠) د $(-2, -4)$



معمل الهندسة

تمثيل الأعداد غير نسبية

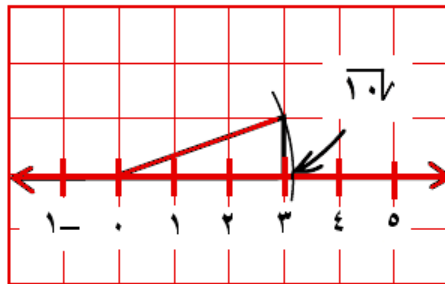
توسيع
٦ - ٢



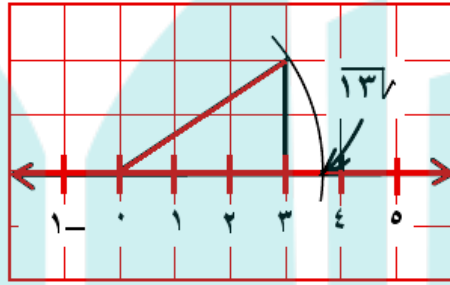
تحقق

مثّل كل عدد غير نسبي مما يأتي:

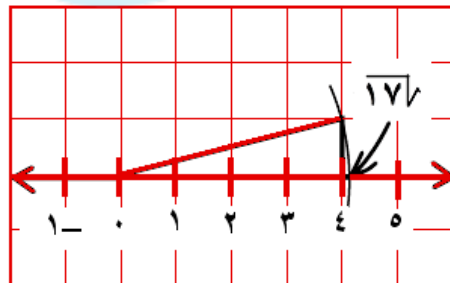
$\sqrt{10}$ (i)



ب) $\sqrt{13}$

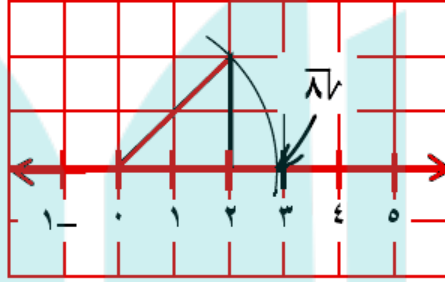


ج) $\sqrt{17}$



دروانی



(د) $\sqrt{8}$ 

حل النتائج:

وَضَّحْ كَيْفَ تَحَدَّدُ سَاقِي المثلث القائم الزاوية عند تمثيل العدد غير النسبي.

حاول جمع مربعين كاملين كل منهما أصغر من العدد غير النسبي، وعندما تجد المربعين الكاملين اللذين مجموعهما يساوي العدد الموجود داخل الجذر التربيعي، استعمل جذريهما التربيعيين كطولين لساقَي المثلث القائم الزاوية.

٢ وضح كيف تستعمل $\sqrt{27}$ لتمثيل $\sqrt{37}$.

لأن $(\sqrt{27})^2 = 27 = 3 \times 9 = 3 \times 3^2$ ، فاستعمل العددين $\sqrt{27}$ و 3 لساقى المثلث القائم، ثم أكمل الخطوات، كما في النشاط لتمثيل العدد $\sqrt{37}$.

٣ **خمن:** باعتقادك هل يمكن تمثيل الجذر التربيعي لأي عدد كلي؟ وضح إجابتك.

نعم، وبالنسبة للجذور التربيعية للأعداد التي ليست مجموع مربعين كاملين، يمكنك تمثيل أعداد غير نسبية أخرى أولاً.

يمكنك تمثيل $\sqrt{1}$ ، و $\sqrt{2}$ استعمل العدد 1 كطول لكل من ساقى المثلث، و-

$\sqrt{3}$ استعمل العددين $\sqrt{2}$ و 1 لساقى المثلث، ويمكنك تمثيل $\sqrt{4}$ ، و $\sqrt{5}$

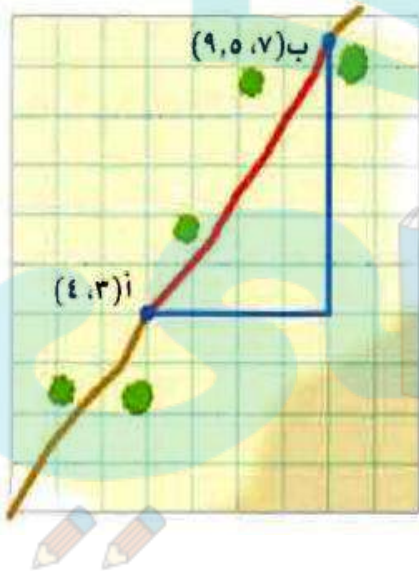
استعمل العددين 2، 1 لساقى المثلث، و $\sqrt{6}$ استعمل العددين $\sqrt{5}$ ، 1 لساقى

المثلث وهكذا.

هندسة: الأبعاد في المستوى الإحداثي

٧-٢

استعد:



طرق مختصرة: قام سلمان بسلوك الطريق الصحراوي المختصر للانتقال من القرية (أ) إلى القرية (ب) كما في الشكل المجاور.

- ١ ماذا يمثل كل خط ملون في الشكل؟
- ٢ ما نوع المثلث الناتج عن الخطوط؟
- ٣ ما طول الخطين الأزرقين؟

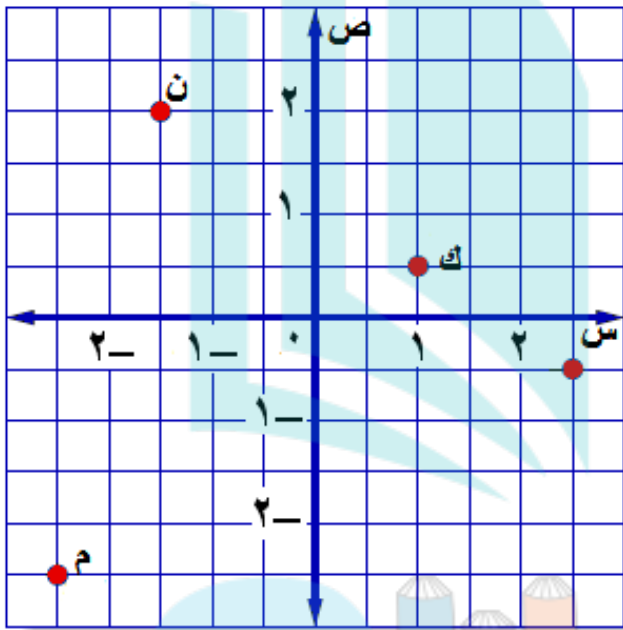
١) الخطان الأزرقان يمثلان المسافتين الأفقية والرأسية بين موقعي القريتين، والخط الأحمر يمثل المسافة بين موقعي القريتين.

٢) نوع المثلث الناتج عن الخطوط "قائم الزاوية"

٣) طول الخطين الأزرقين: الأفقي ٤ وحدات، والرأسي ٥,٥

تحقق

سمّ الأزواج المرتبة للنقاط الموضحة في الشكل.



- (أ) ن
- (ب) ك
- (ج) ل
- (د) م

(أ) ن $(-1, 2)$

(ب) ك $(1, 1)$

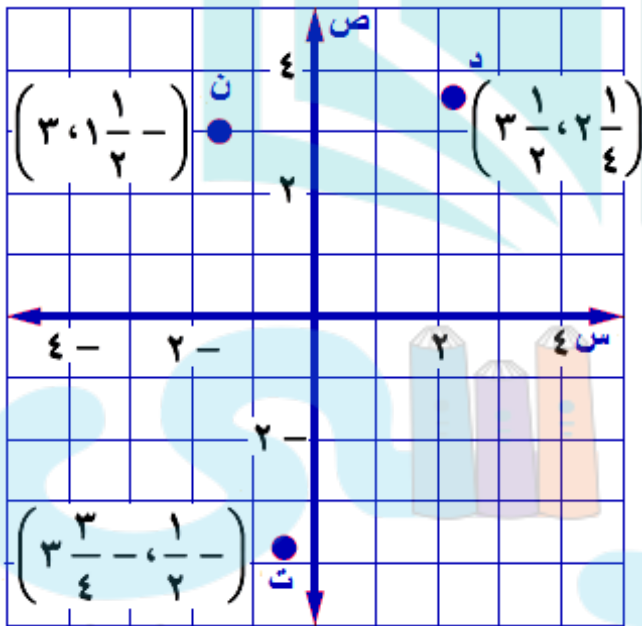
(ج) ل $(1, -1)$

(د) م $(-2, -2)$



مثلاً كل نقطة مما يأتي على المستوى الإحداثي:

- هـ) د $(3\frac{1}{2}, 2\frac{1}{4})$ و) ن $(3, 1, 5-)$ ز) ت $(3\frac{3}{4}, -\frac{1}{2})$



هـ) د $(3\frac{1}{2}, 2\frac{1}{4})$

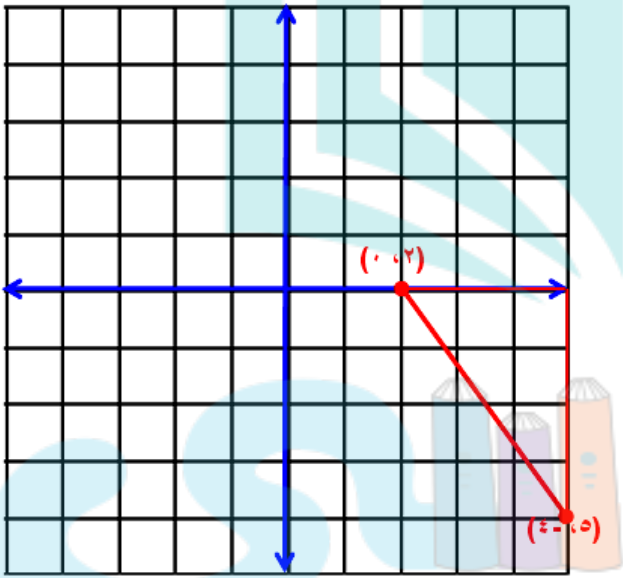
و) ن $(3, 1\frac{1}{2})$

ز) ت $(3\frac{3}{4}, -\frac{1}{2})$



مثّل كل زوج مرتب مما يأتي، ثم أوجد المسافة بين النقطتين إلى أقرب جزء من عشرة:

(ح) $(0, 2)$ ، $(4, 5)$



$$ج^2 = أ^2 + ب^2$$

$$ج = 3 = (2 - 5)$$

$$ب = 4 = (0 - 4)$$

$$ج^2 = 3^2 + 4^2$$

$$= 9 + 16$$

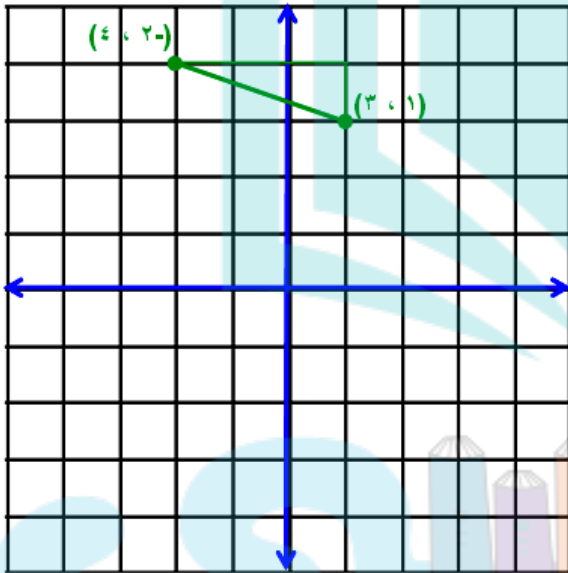
$$= 25$$

$$ج = \sqrt{25} = 5$$

المسافة بين النقطتين 5 وحدات



ط) (٤، ٢-)، (٣، ١)



$$ج \quad 2^2 + 2^2 = 2^2$$

$$حيث \quad 3 = (1 - 2) = 2 - 1$$

$$ب \quad 1 = (3 - 4) = 4 - 3$$

$$ج \quad 1^2 + (23 -)^2 = 2^2$$

$$1 + 9 =$$

$$10 =$$

$$ج \quad 3, 2 = \sqrt{10}$$

المسافة بين النقطتين ٣، ٢ وحدة

تقريباً.



(ي) $(-2, 1)$ ، $(-3, 4)$

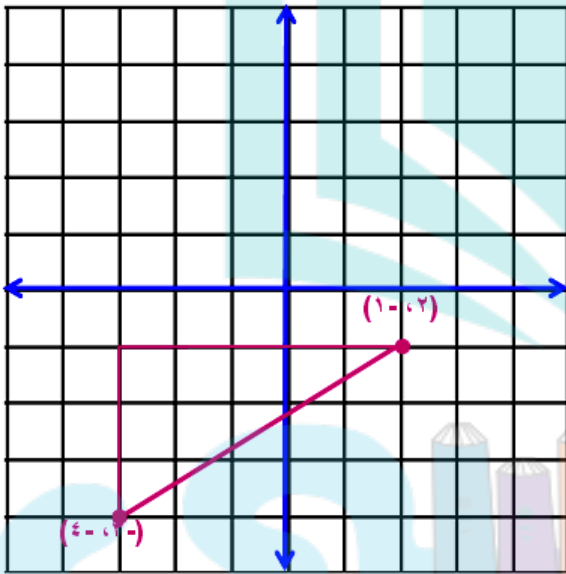
$$ج \quad 2^2 + 2^2 = 2^2$$

$$حيث \quad 5 = ((-3) - 2) = 5$$

$$3 = [(-4) - 1] = 3$$

$$ج \quad 3^2 = 9 + 2^2 = 13$$

$$ج \quad 5,8 = \sqrt{34}$$



المسافة بين النقطتين 5,8 وحدة تقريباً.



ك) إذا كانت الدمام تقع في النقطة $(1, 2\frac{1}{4})$ ، فما المسافة الجوية التقريبية بين الدمام والرياض؟

الدمام: $(1, 2\frac{1}{2})$

الرياض: $(0, 1)$

$$ج \quad 2^2 = 1^2 + 2^2$$

$$حيث \quad 1 = 2\frac{1}{2} - 1 = 1\frac{1}{2}$$

$$ب \quad 1 = 1 - 0 = 1$$

$$ج \quad 2^2 = 1^2 + 3,5^2$$

$$1 + 12,25 =$$

$$13,25 =$$

$$ج \quad \sqrt{13,25} = 3,6 = \text{وحدة.}$$



$$\text{المسافة} = 3,6 \times 23,94 =$$

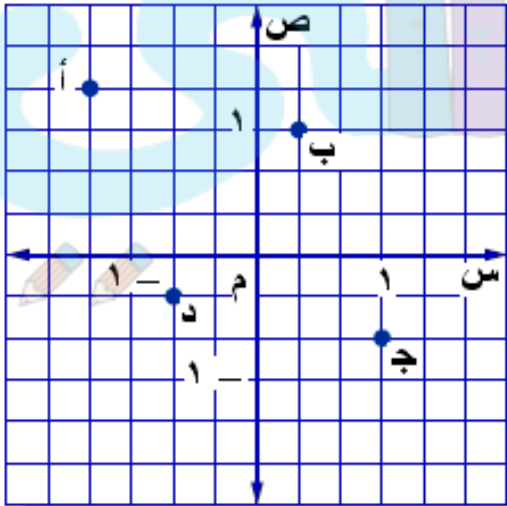
٨٦٢ كم تقريباً

تأكد:

المثالان ١، ٢

سمّ الزوج المرتب لكل نقطة مما يأتي:

- أ ١
ب ٢
ج ٣
د ٤



٦ أ: $(1\frac{1}{3}, -1\frac{1}{3})$

٧ ب: $(1, \frac{1}{3})$

٨ ج: $(1, -\frac{2}{3})$

٩ د: $(-\frac{2}{3}, -\frac{2}{3})$

المثالان ٣، ٤

مثل كل نقطة مما يأتي على المستوى الإحداثي:

٧ ن $(٢, ٢٥ - , ٤, ٥)$

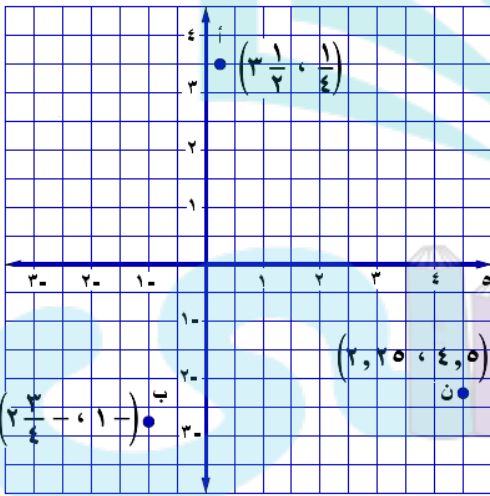
٦ ب $(٢\frac{٣}{٤} - , ١ -)$

٥ أ $(٣\frac{١}{٢} , \frac{١}{٤})$

٥ أ $(٣\frac{١}{٢} , \frac{١}{٤})$

١٠ ب $(٢\frac{٣}{٤} - , ١ -)$

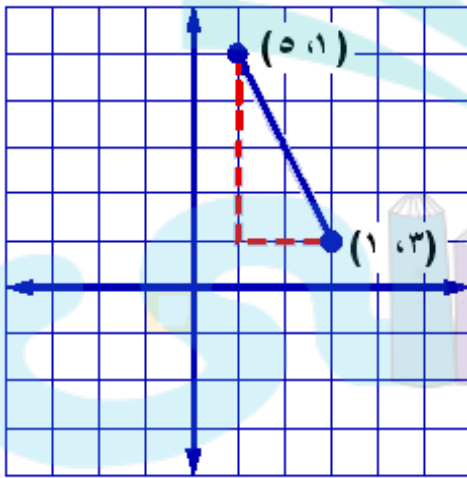
١١ ج $(٢, ٢٥ - , ٤, ٥)$



المثال ٥

مثّل كل زوج مرتب مما يأتي، ثم احسب المسافة بين كل نقطتين إلى أقرب عُشر إذا لزم ذلك:

$(1, 3)$ ، $(5, 1)$ 



ج $2^2 + 4^2 = 20$

حيث $2 = 3 - 1$

$4 = 5 - 1 =$ ب

ج $2^2 + 4^2 = 20$

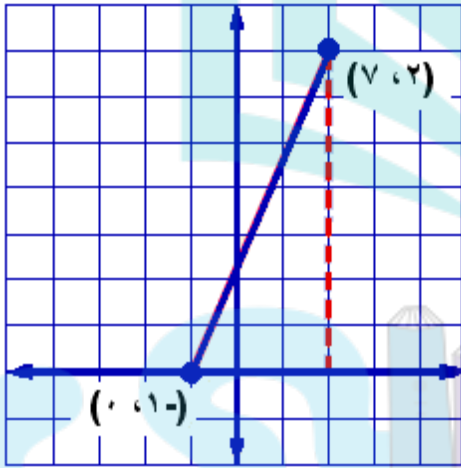
$20 = 16 + 4 =$

ج $\sqrt{20}$

ج $= 4,5$ وحدة.



(7, 2) و (-1, 0) ٩



$$ج^2 = أ^2 + ب^2$$

$$حيث أ = 2 - (-1) = 3$$

$$ب = 0 - 7 = -7$$


$$ج^2 = 3^2 + 7^2$$

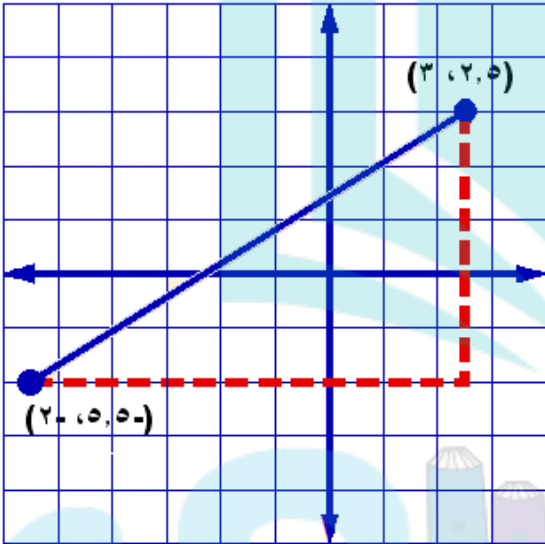
$$= 9 + 49 = 58$$

$$ج = \sqrt{58}$$

$$ج = 7,6 \text{ وحدة.}$$



(3, 2, 5), (2, 5, 5) 



$$ج \quad 2^2 + 2^2 = 2^2$$

$$ا \quad 8 = (5, 5) - 2, 5 =$$

$$ب \quad 5 = 2 - 3 =$$

$$ج \quad 2^2 + 2^2 = 2^2$$

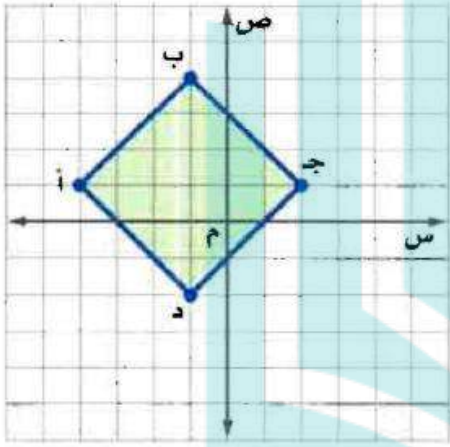
$$89 = 25 + 64 =$$

$$ج = \sqrt{89}$$

$$ج = 9,4 \text{ وحدة.}$$



هندسة: أ ب ج د مربع مرسوم في المستوى الإحداثي. ما طول كل ضلع من أضلاعه؟ وما مساحته؟ أوجد الناتج إلى أقرب جزء من عشرة.



$$ج^2 = أ^2 + ب^2$$

$$ج^2 = 3^2 + 3^2$$

$$= 9 + 9$$

$$= 18$$

$$ج = \sqrt{18}$$

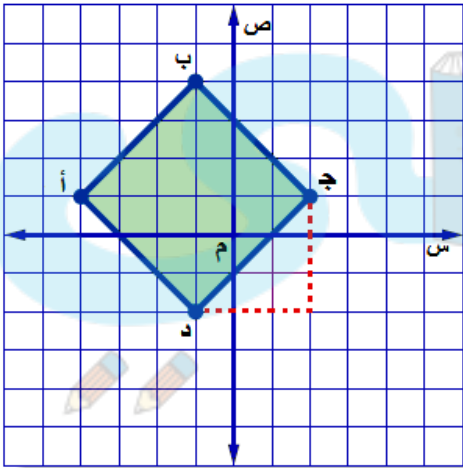
$$ج = 4,2 \text{ وحدة}$$

$$\text{طول ضلع المربع} = ج = 4,2$$

تقريباً.

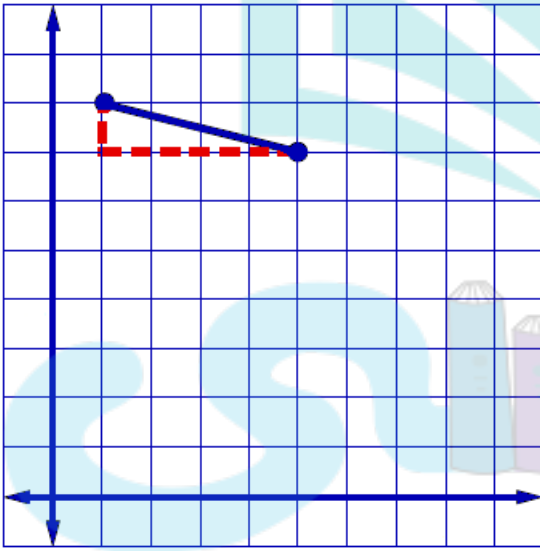
$$\text{مساحة المربع} = \text{مربع طول الضلع}$$

$$ج^2 = 18 \text{ وحدة مربعة}$$



المثال ٦

١٢ على خارطة مدينة يقع السوق التجاري في النقطة $(٢, ٥, ٣)$ ، ويقع المستشفى في النقطة $(٥, ٠, ٤)$. إذا كانت كل وحدة على الخارطة تعادل $٥, ٠$ كلم، فمثل الزوجين المرتبين في المستوى الإحداثي، ثم أوجد المسافة التقريبية بين السوق والمستشفى.



$$(٤, ٠, ٥), (٣, ٥, ٢)$$

$$ج = ٢^٢ + ٥^٢$$

$$أ = ٢,٥ - ٠,٥ = ٢$$

$$ب = ٣,٥ - ٤ = ٠,٥$$

$$ج = ٢^٢ + ٠,٥^٢$$

$$= ٤ + ٠,٢٥ = ٤,٢٥$$

$$ج = \sqrt{٤,٢٥}$$

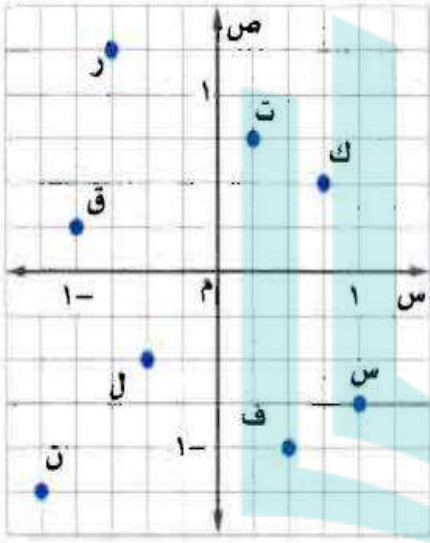
$$ج = ٢,١ \text{ وحدة تقريبا.}$$

إذن السوق يبعد عن المستشفى بمقدار $٢,١$ كم

تقريباً.

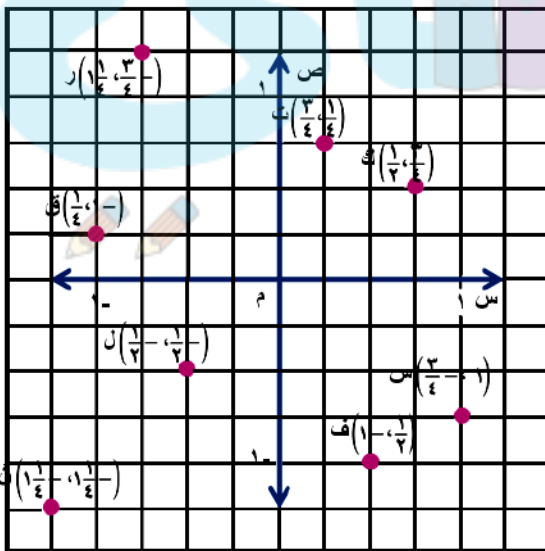


تدرب وحل المسائل:



سم الزوج المرتب لكل نقطة مما يأتي:

- | | | | |
|---|----|---|----|
| ك | ١٤ | ف | ١٣ |
| س | ١٦ | ر | ١٥ |
| ل | ١٨ | ت | ١٧ |
| ق | ١٢ | ن | ١٩ |



- (١٣) ف (٠, ٥ -)
- (١٤) ك (٠, ٥, ٠, ٧٥)
- (١٥) ر (١, ٢٥, ٠, ٧٥ -)
- (١٦) س (٠, ٧٥ - , ١)
- (١٧) ت (٠, ٧٥, ٠, ٢٥)
- (١٨) ل (٠, ٥ - , ٠, ٥ -)
- (١٩) ن (١, ٢٥ - , ١, ٢٥ -)
- (٢٠) ق (٠, ٢٥, ١ -)

مثّل كل نقطة مما يأتي وسمّها:

(٢٣) $(-\frac{2}{3}, -3)$

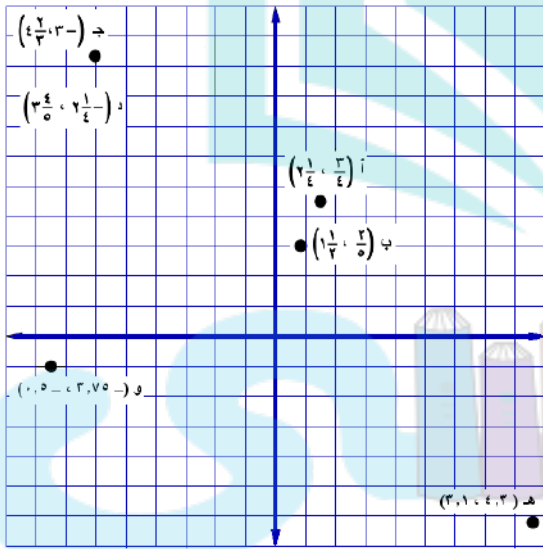
(٢٢) $(\frac{1}{2}, -\frac{2}{5})$

(٢١) $(\frac{1}{4}, \frac{3}{4})$

(٢٦) $(0, 5), (-3, 7.5)$

(٢٥) $(3, 1), (-4, 3)$

(٢٤) $(3\frac{4}{5}, 2\frac{1}{4})$



(٢١) أ $(\frac{1}{4}, \frac{3}{4})$

(٢٢) ب $(\frac{1}{2}, \frac{2}{5})$

(٢٣) ج $(\frac{2}{3}, -3)$

(٢٤) د $(3\frac{4}{5}, 2\frac{1}{4})$

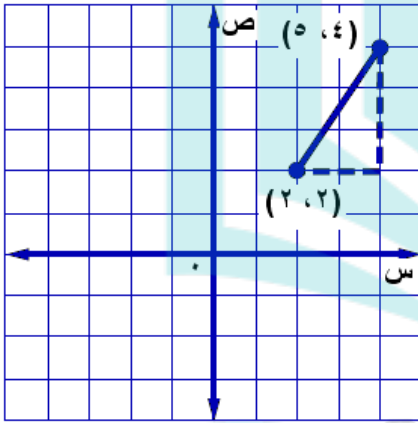
(٢٥) هـ $(3, 1), (-4, 3)$

(٢٦) و $(0, 5), (-3, 7.5)$



مثّل كل زوج من الأزواج المرتبة الآتية. ثم أوجد المسافة بين النقطتين :

(٢،٢) ، (٥،٤) ٢٧



$$ج \quad 2^2 + 2^2 = 2^2$$

$$حيث \quad 2 - 2 = 4 - 2 = 2$$

$$ب \quad 3 - 2 = 5 - 2 = 3$$

$$ج \quad 2^2 + 3^2 = 2^2 + 9 = 13$$

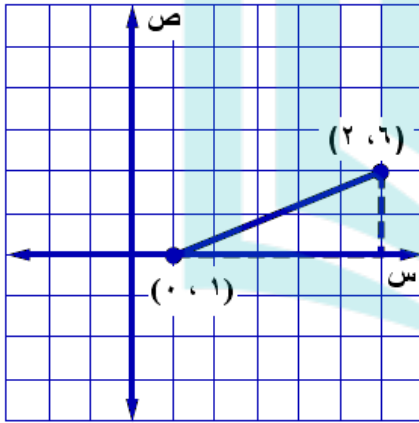
$$13 = 9 + 4 =$$

$$ج \quad \sqrt{13}$$

$$ج \quad 3,6 = \text{وحدة تقريبا.}$$



۲۸ (۲، ۶) ، (۰، ۱)



$$ج = 2^2 + 2^2$$

$$حيث أ = 6 - 1 = 5$$

$$ب = 2 - 0 = 2$$

$$ج = 2^2 + 2^2 = 2^2 + 5^2$$

$$29 = 4 + 25 =$$

$$ج = \sqrt{29}$$

$$ج = 5,4 \text{ وحدة تقريباً.}$$



٢٩ (٣، ١) ، (٤، ٣)

$$ج^2 = ا^2 + ب^2$$

$$٤ = (٣) - ١ = ا$$

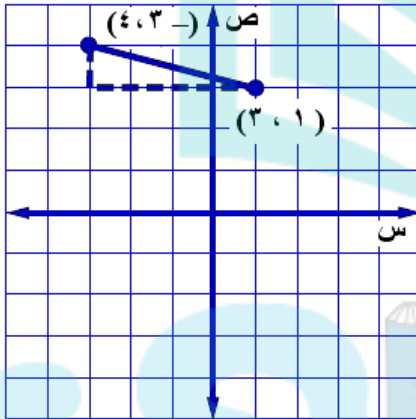
$$١ - = ٤ - ٣ = ب$$

$$ج^2 = (١) + ٤ = ٥$$

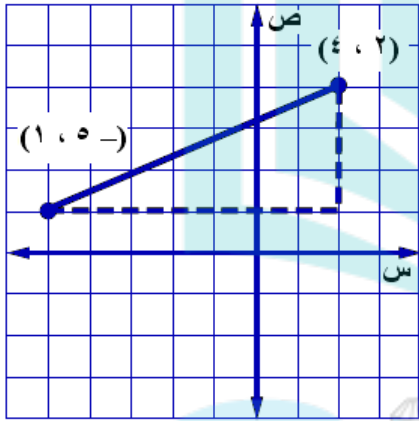
$$١٧ = ١ + ١٦ =$$

$$ج = \sqrt{١٧}$$

$$ج = ٤,١ \text{ وحدة تقريبا.}$$



٣٠ (٤،٢)، (١،٥-)



$$ج \quad 2^2 = 2^2 + 2^2$$

$$حيث \quad 7 = (5-) - 2 = 2^2$$

$$ب \quad 3 = 1 - 4 = 2^2$$


$$ج \quad 2^3 + 2^7 = 2^2$$

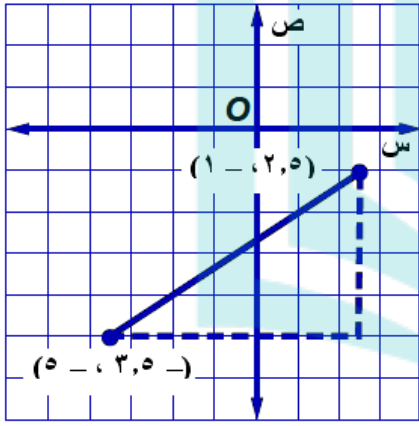
$$58 = 9 + 49 =$$

$$ج \quad 58 = 2^2 + 2^7 =$$

$$ج \quad 7, 6 = 2^2 + 2^7 = 58$$



$(5, -3), (1, 2)$ 



ج $a^2 + b^2 = c^2$

حيث $a = 2 - 3 = -1$ ، $b = 5 - 1 = 4$ ، $c = 5 - 2 = 3$

ب $c^2 = (-1)^2 + 4^2 = 1 + 16 = 17$

ج $a^2 + b^2 = c^2$


$17 = 1 + 16 = 17$

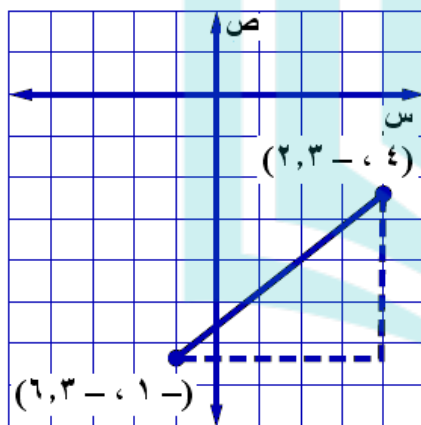
ج $\sqrt{17} \approx 4.123$

ج ≈ 4.123 وحدة تقريباً.

دروانی



(٦, ٣-٤, ١-), (٢, ٣-٤, ٤) 



$$ج^2 = أ^2 + ب^2$$

$$حيث أ = ١- - ٤ = ٥-$$

$$ب = ٢, ٣- - ٦, ٣- = ٤-$$

$$ج^2 = ٥^2 + ٤^2 = ٢٥ + ١٦ = ٤١$$

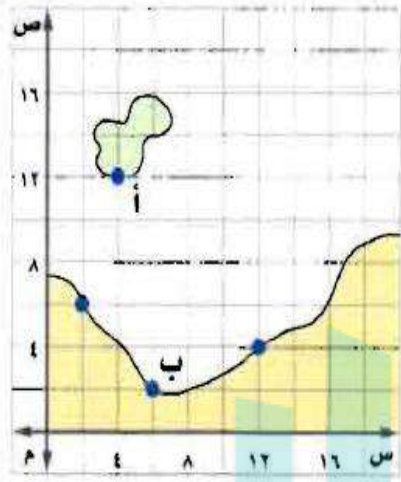
$$ج = \sqrt{٤١}$$

$$ج = \sqrt{٤١}$$

$$ج = ٦, ٤ = وحدة تقريباً.$$

دروانی





٣٣ ملاحظة: تنطلق عبّارة من النقطة أ (١٢ ، ٤) الواقعة على الجزيرة كما في الشكل المجاور، وتتجه إلى المرفأ الواقع عند النقطة ب (٦ ، ٢) ما المسافة التي تقطعها العبارة إذا كانت كل وحدة على الخارطة تعادل ٥,٠ كلم؟

$$أ (١٢ ، ٤) ، ب (٦ ، ٢)$$

$$ج = 2^2 + 6^2$$

$$حيث أ = 4 - 6 = 2$$

$$ب = 12 - 6 = 6$$

$$ج = 2^2 + 6^2 = 40$$

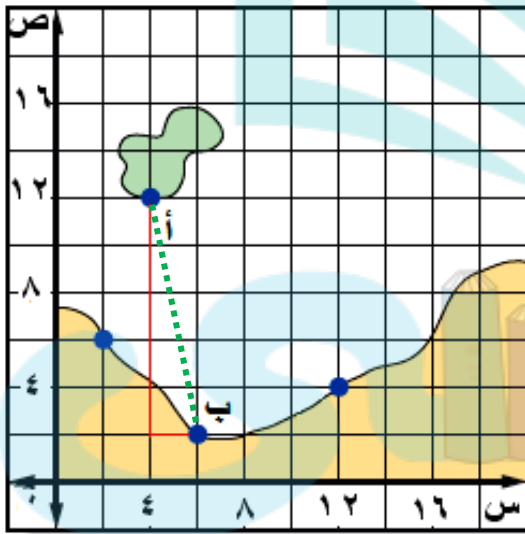
$$10.4 = 40 + 4 = 44$$

$$ج = 44$$

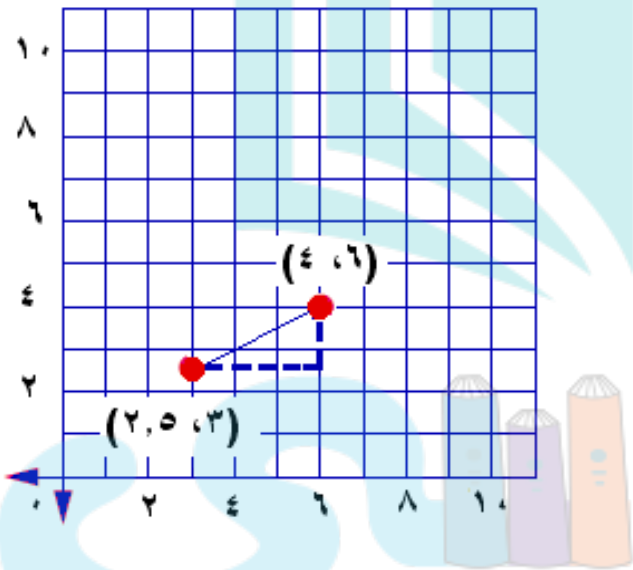
$$ج = 44 \times 0.2 = 8.8$$

المسافة التي تقطعها العبارة = 8.8 كلم

$$0.5 = 8.8 \times 0.5 = 4.4$$



٣٤ جغرافيا: على خارطة تقع الرياض في النقطة (٣، ٥، ٢)، وتقع المنامة في النقطة (٦، ٤). إذا كانت كل وحدة على الخارطة تمثل ١٢٥ كلم، فما المسافة الجوية التقريبية بين الرياض والمنامة؟



$$(٦، ٤) ، (٢، ٥ ، ٣)$$

$$ج^2 = أ^2 + ب^2$$

$$حيث أ = ٣ - ٦ = ٣$$

$$ب = ٢,٥ - ٤ = ١,٥$$

$$ج^2 = ٣^2 + 1,5^2$$

$$= ٩ + ٢,٢٥ = ١١,٢٥$$

$$ج = \sqrt{11,25}$$

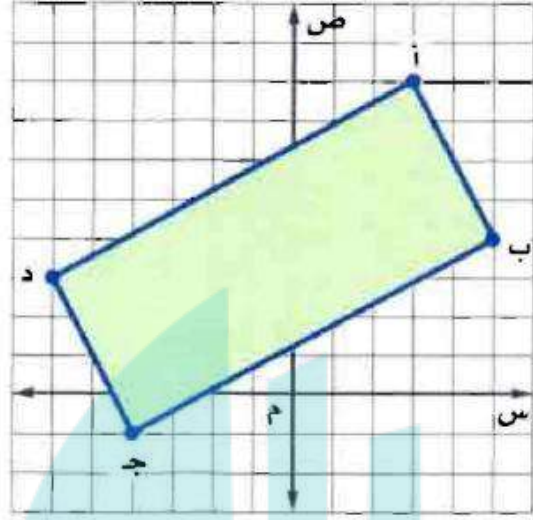
$$ج = ٣,٤ وحدة تقريبا.$$

$$المسافة التقريبية بين الرياض والمنامة = ٣,٤ \times ١٢٥ = ٤١٩$$

كلم

أوجد مساحة الشكل في كل مما يأتي:

٣٥



$$ج \quad 2^2 = 2^2 + 2^2$$

$$2^2 = 2^2 + 2^2$$

$$= 25 + 81$$

$$= 106$$

$$ج \quad \sqrt{106}$$

ج = 10,3 وحدة تقريبا.

$$ج \quad 2^2 = 2^2 + 2^2$$

$$2^2 = 2^2 + 2^2$$

$$= 4 + 16$$

$$= 20$$

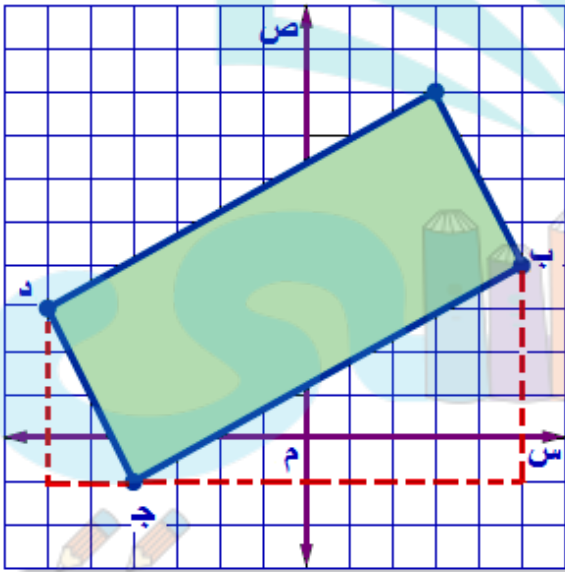
$$ج \quad \sqrt{20}$$

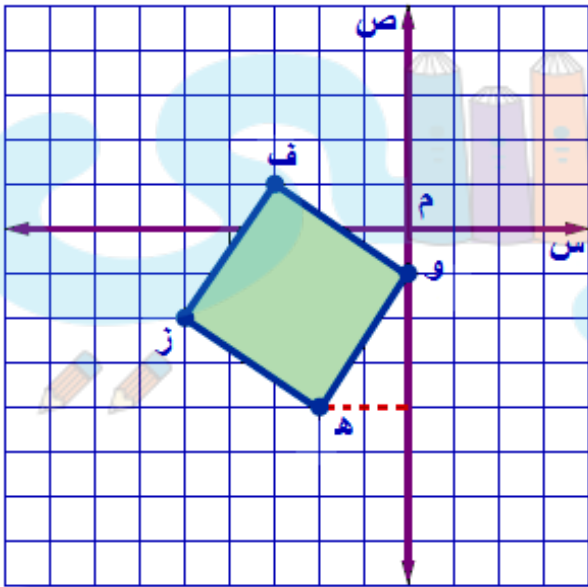
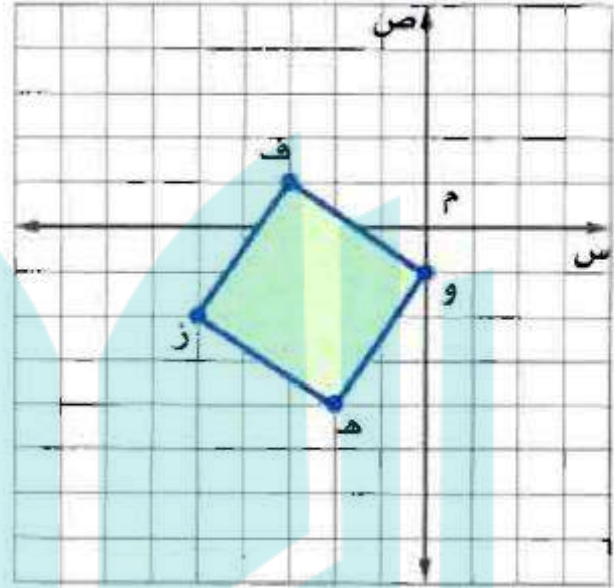
ج = 4,5 وحدة تقريبا.

مساحة المستطيل = الطول × العرض

$$= 10,3 \times 4,5$$

$$= 46 \text{ وحدة مربعة تقريبا.}$$





$$ج = 2^2 + 2^2$$

$$ج = 2^2 + 2^2$$

$$= 4 + 9$$

$$= 13$$

$$ج = \sqrt{13}$$

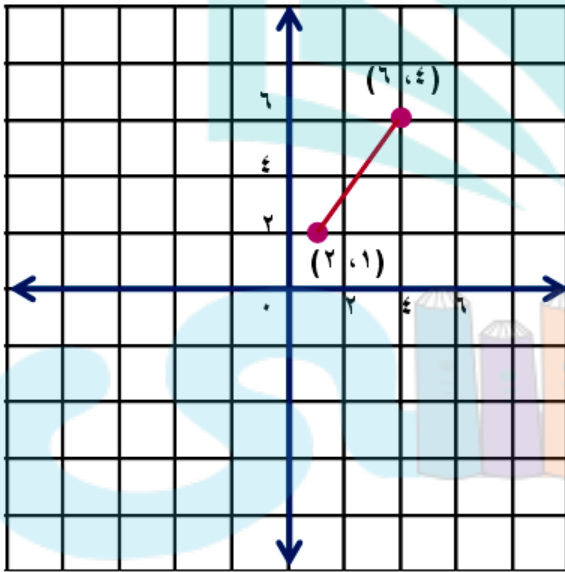
ج = 3,6 وحدة تقريبا.

مساحة المربع = مربع طول الضلع

ج = 13 وحدة مربعة.

مسائل مهارات التفكير العليا:

تحدي: طبق ما تعلمته عن المسافة في المستوى الإحداثي لتحديد إحداثيات نقطتي نهاية قطعة مستقيمة ليست أفقية أو رأسية طولها 5 وحدات.



(2, 1) ، (6, 4)

٣٨ اختر أداة: أرادت هيفاء إيجاد المسافة بين النقطتين أ(-٤, ٢, ٧, ٣)، ب(٦, ٤, -٣, ١). أي الأدوات الآتية أكثر فائدة لها؟ برر إجابتك. ثم استعمل الأداة لحل المسألة.

أشياء حقيقية

ورقة وقلم رصاص

آلة حاسبة

أ (-٤, ٢, ٧, ٣) ، ب (٦, ٤, -٣, ١)

الأداة: الآلة الحاسبة

ستكون مفيدة أكثر وعملية لإيجاد مربع و الجذر التربيعي للأعداد التي بها كسوراً عشرية.

الحل: ٦, ٨ وحدات

٣٩ اكتب: استعمل كلماتك الخاصة في توضيح طريقة إيجاد طول قطعة مستقيمة غير رأسية أو أفقية نقطتا نهايتها (س١، ص١)، (س٢، ص٢).

ارسم على المستوى الأجدائي خطأ أفقياً من (س١، ص١) إلى (س٢، ص١).

ثن أرسم خطأ رأسياً من (س٢، ص٢) إلى (س٢، ص١) لتكون مثلثاً قائم الزاوية.

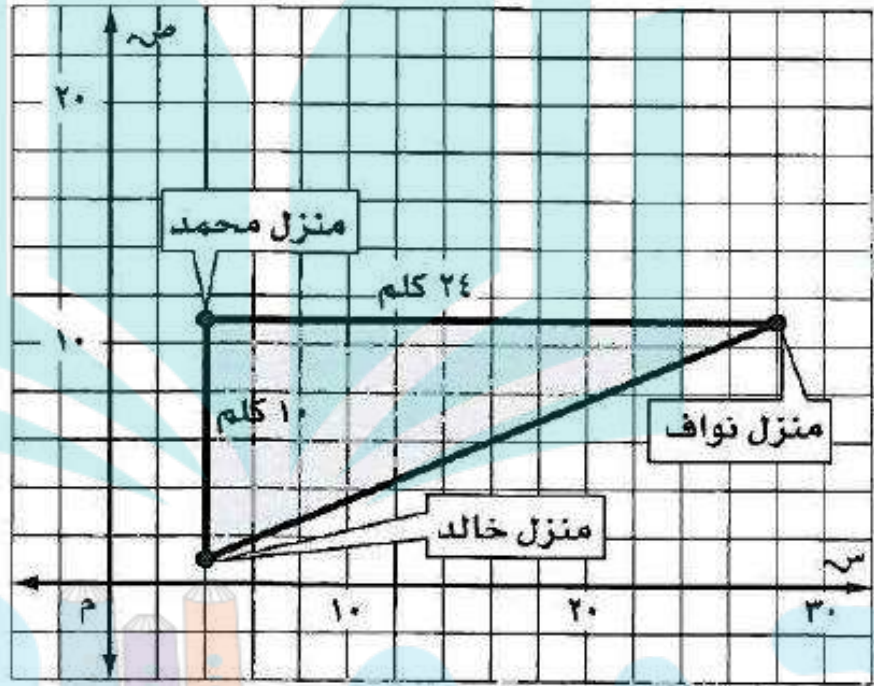
حدد طولي الساقين الزاوية القائمة، ثم طبق نظرية فيثاغورث لتجد طول الوتر، وهو

طول القطعة الأصلي.

تدريب على اختبار



تشير الخريطة أدناه إلى مواقع منازل الأصدقاء محمد، وخالد، ونواف، أوجد المسافة بين منزلي نواف وخالد؟



(ج) ٢٦ كلم

(أ) ١٤ كلم

(د) ٣٤ كلم

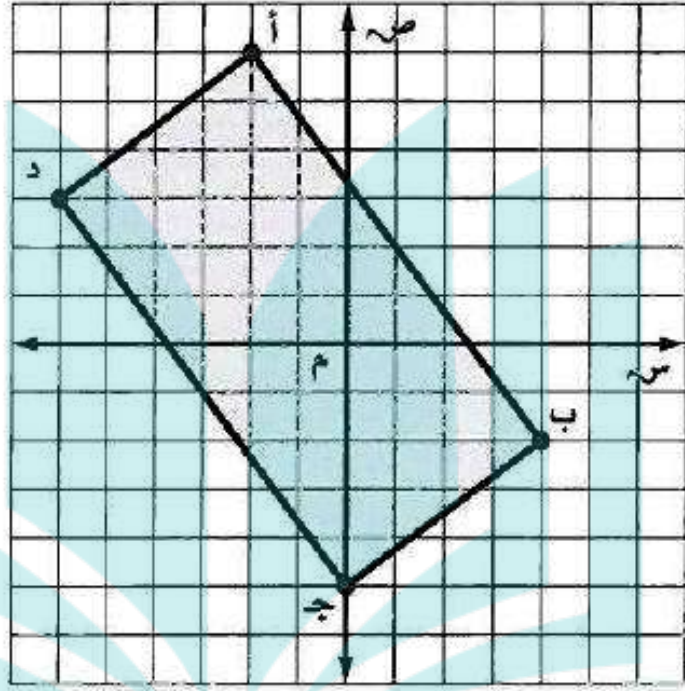
(ب) ٢٢ كلم

المسافة بين منزلي نواف وخالد = $\sqrt{10^2 + 24^2}$

= ٢٦ كلم

الاختيار الصحيح: (ج) ٢٦ كلم

٤١ أوجد مساحة المستطيل أ ب ج د الممثل على المستوى الإحداثي أدناه؟



- أ) ٣٠ وحدة مربعة (ج) ٦٠ وحدة مربعة
 ب) ٥٠ وحدة مربعة (د) ١٠٠ وحدة مربعة

الاختيار الصحيح: (ب) ٥٠ وحدة مربعة



مراجعة تراكمية

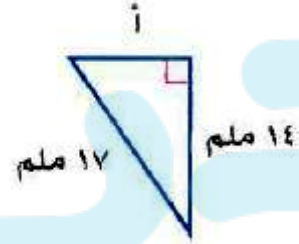
٤٢ مسافات: تحرك شخص مسافة ٢م إلى اليمين ، ثم ١م إلى أعلى ، ثم كرر ذلك مرة أخرى . أوجد أقصر مسافة بين نقطة البداية ونقطة النهاية إلى أقرب جزء من عشرة إذا لزم الأمر . (الدرس ٢-٦)

تحرك مرتين ٢م إلى اليمين هي ٤م و ١م إلى الأعلى مرتين أي ٢م إلى الأعلى

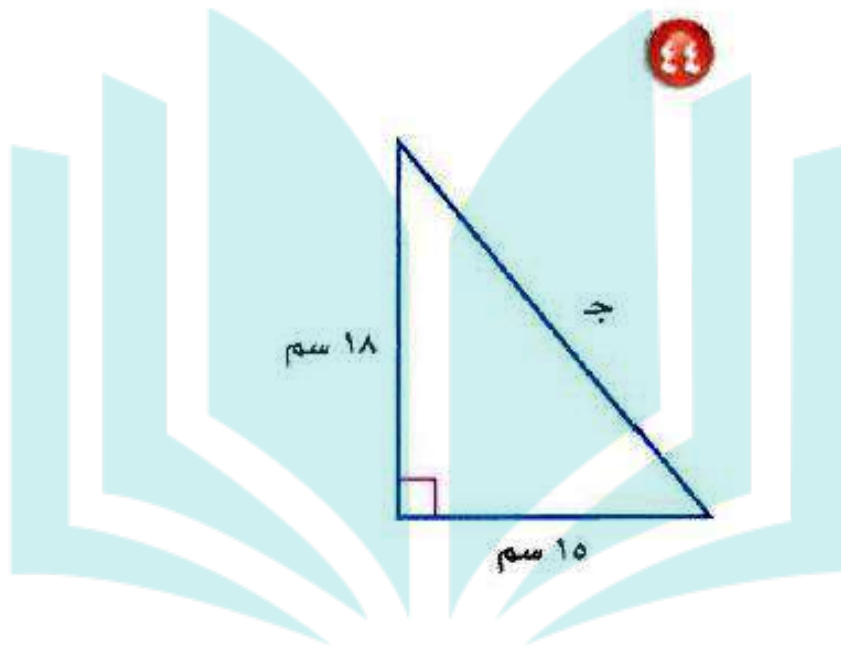
$$\text{المسافة المطلوبة} = \sqrt{2^2 + 2^2} = \sqrt{20} \approx 4,5 \text{ م}$$

هندسة: أوجد طول الضلع المجهول في كل مثلث قائم الزاوية مما يأتي ، وقرب إجابتك إلى أقرب جزء من عشرة إذا لزم الأمر: (الدرس ٢-٥)

٤٣

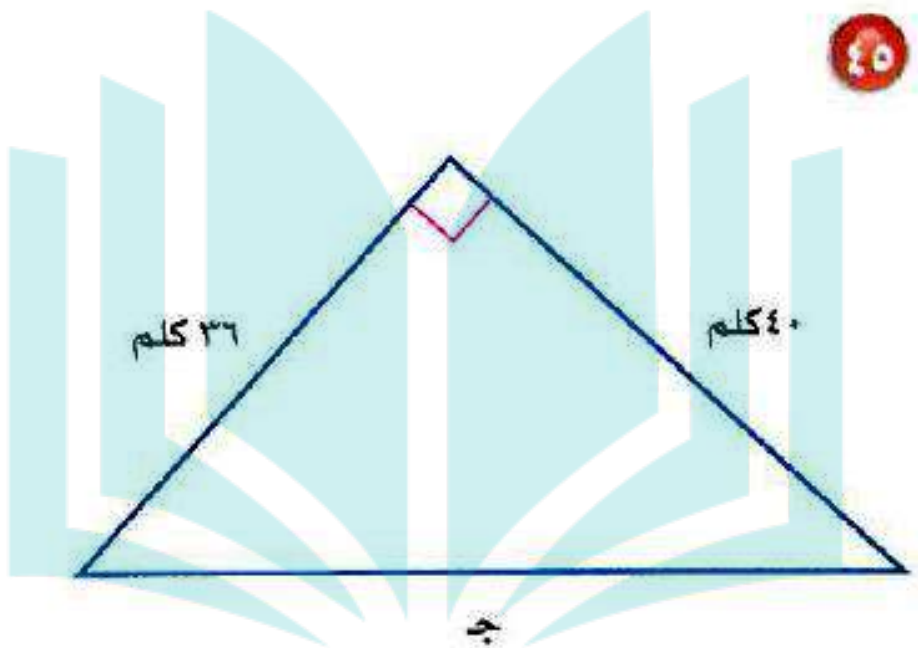


$$أ = \sqrt{17^2 - 14^2} = \sqrt{93} = 9,6 \text{ ملم}$$



$$23,4 \text{ سم} = \sqrt{549} = \sqrt{18^2 + 15^2} \Rightarrow$$





$$52 = \sqrt{36^2 + 40^2} = \sqrt{1296 + 1600} = \sqrt{2896}$$

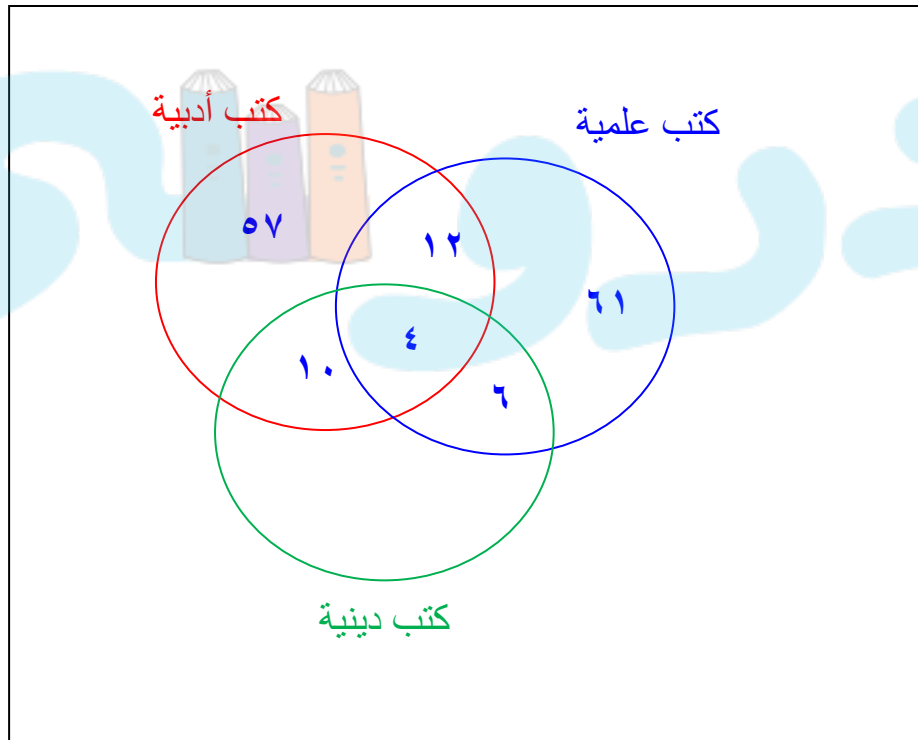


٤٦ **فواكه:** وزّع بائع صندوق تفاح كتلته $10\frac{1}{3}$ كجم في علب صغيرة سعة الواحدة منها $1\frac{3}{4}$ كجم. كم علبة احتاج إليها؟ (الدرس ١-٤)

$$\text{عدد العلب} = 10\frac{1}{2} \div 1\frac{3}{4} = \frac{21}{2} \div \frac{7}{4} = \frac{21}{2} \times \frac{4}{7} = 6 \text{ علب}$$

٤٧ **كتب:** جمعت إحدى المعلمات بيانات من طالبات الصف الثاني المتوسط حول أنواع الكتب المفضلة لديهن، حيث تبين أن ٨٣ طالبة يفضلن الكتب العلمية، و ٨٣ يفضلن الكتب الأدبية، و ٢٠ يفضلن الكتب الدينية. وهناك من يفضلن نوعين من الكتب، حيث تفضل ٦ طالبات العلمية والدينية، و ١٠ يفضلن الأدبية والدينية، و ١٢ يفضلن العلمية والأدبية، و ٤ طالبات يفضلن الأنواع الثلاثة من الكتب. كم طالبة تفضل الكتب الأدبية فقط؟ استعمل أشكال فن في الحل. (الدرس ٢-٣)

عدد الطالبات التي تفضل الكتب الأدبية فقط = ٥٧ طالبة



اختبار الفصل

أوجد الجذور التربيعية الآتية:

$$\sqrt{225} \text{ ١}$$

٢٢٥ يشير إلى جذر تربيعي موجب

$$\text{بما أن } 225 = 15^2$$

$$\text{فإن } \sqrt{225} = 15$$



$$\sqrt{-0,25} \text{ ٢}$$

- ٠,٢٥ يشير إلى جذر تربيعي سالب.

$$\text{بما أن } 0,25 = 0,5^2$$

$$\text{فإن } -\sqrt{0,25} = -0,5$$



$$\frac{36}{49} \sqrt{\pm} \text{ ٣}$$

يشير إلى الجذرين التربيعيين الموجب والسالب $\frac{36}{49} \sqrt{\pm}$

$$\frac{36}{49} = \left(\frac{6}{7}\right)^2 \text{ بما أن}$$

$$\frac{6}{7} \pm = \frac{36}{49} \sqrt{\pm} \text{ فإن}$$

دروني



اختيار من متعدد: أي قائمة فيما يلي تحوي

أعدادًا مرتبة من الأصغر إلى الأكبر؟

(أ) $2, \bar{2}, 2\frac{1}{5}, 2, 25, \sqrt{5}$

(ب) $2, 25, \sqrt{5}, 2, \bar{2}, 2\frac{1}{5}$

(ج) $2, \bar{2}, 2\frac{1}{5}, 2, 25, \sqrt{5}$

(د) $2\frac{1}{5}, 2, \bar{2}, \sqrt{5}, 2, 25$

الاختيار: (ب)

أ- $2, \bar{2}, 2\frac{1}{5}, 2, 25, \sqrt{5}$

قائمة الأعداد ليست مرتبة

ب- $2, 25, \sqrt{5}, 2, \bar{2}, 2\frac{1}{5}$

قائمة الأعداد ليست مرتبة من الأصغر إلى الأكبر.

c

ج- $2, \bar{2}, 2\frac{1}{5}, 2, 25, \sqrt{5}$

قائمة الأعداد غير مرتبة.

d

د- $2\frac{1}{5}, 2, \bar{2}, 2, 25, \sqrt{5}$

قائمة الأعداد ليست مرتبة من الأصغر إلى الأكبر.

d

قائمة الأعداد ليست مرتبة من الأصغر إلى الأكبر.

قدّر كلاً مما يأتي إلى أقرب عدد كلي:

$$\sqrt{67}$$

أكبر مربع كامل أقل من 67 هو 64. $8 = \sqrt{64}$

أصغر مربع كامل أكبر من 67 هو 81. $9 = \sqrt{81}$

أكتب المتباينة

$$81 > 67 > 64$$

$$29 = 81, 28 = 64$$

$$29 > 67 > 28$$

أوجد الجذر التربيعي لكل عدد

$$\sqrt{29} > \sqrt{67} > \sqrt{28}$$

بسط

$$9 > \sqrt{67} > 8$$

$\sqrt{67}$ يقع بين 8 ، 9 ، وبما أن 67 أقرب إلى 64 منه إلى 81؛

فأفضل تقدير لـ $\sqrt{67}$ بعدد كلي هو 8.



$$\sqrt{118}$$

$$10 = \sqrt{100}$$

أكبر مربع كامل أقل من 118 هو 100.

$$11 = \sqrt{121}$$

أصغر مربع كامل أكبر من 118 هو 121.

أكتب المتباينة

$$121 > 118 > 100$$

$$11 = \sqrt{121}, 10 = \sqrt{100}$$

$$11 > \sqrt{118} > 10$$

أوجد الجذر التربيعي لكل عدد

$$\sqrt{121} > \sqrt{118} > \sqrt{100}$$

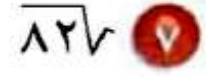
بسط

$$11 > \sqrt{118} > 10$$

$\sqrt{118}$ يقع بين 10، 11 وبما أن 118 أقرب إلى 121 منه إلى 100؛

فأفضل تقدير لـ $\sqrt{118}$ بعدد كلي هو 11.





أكبر مربع كامل أقل من ٨٢ هو ٨١. $\sqrt{81} = 9$

أصغر مربع كامل أكبر من ٨٢ هو ١٠٠. $\sqrt{100} = 10$

أكتب المتباينة

$$100 > 82 > 81$$

$$100 = 10^2, 81 = 9^2$$

$$10 > 82 > 9$$

أوجد الجذر التربيعي لكل عدد

$$\sqrt{100} > \sqrt{82} > \sqrt{81}$$

بسط

$$10 > \sqrt{82} > 9$$

$\sqrt{82}$ يقع بين ٩ ، ١٠ وبما أن ٨٢ أقرب إلى ٩ منه إلى ١٠؛

فأفضل تقدير لـ $\sqrt{82}$ بعدد كلي هو ٩.

دروني



سمّ كلّ مجموعات الأعداد التي ينتمي إليها كل عدد حقيقي فيما يأتي:

$$\sqrt{64} = 8$$

$$= 8$$

فهو عدد صحيح، ونسبي.

$$6, \overline{13} = 6,1313131313 =$$

كسر عشري دوري، فهو عدد نسبي.

$$\sqrt{14} = 1.6329936468$$

$$= 3,7416073867739413855837487323165 =$$

بما أن الكسر العشري ليس منتهيا ولا متكررا، فهو عدد غير نسبي.

١١ **طعام:** أجرى أحد المطاعم مسحًا لـ ٥٠ زبونًا. فبينت النتائج أن ١٥ شخصًا يحبون فطيرة الجبن، و ٢٥ يحبون فطيرة اللبنة، و ٤ يحبون النوعين معًا. كم شخصًا لا يحب فطيرة الجبن وفطيرة اللبنة؟ استعمل أشكال فن في الحل.

افهم

تعرف الذين يحبون فطيرة الجبن، واللبنة، والذين يحبونها معًا.

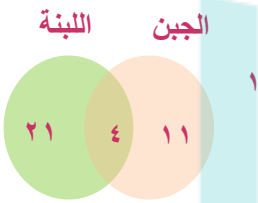


خطط



استعمل شكل فن لتنظيم البيانات.

حل



ارسم دائرتين متقاطعتين تمثلان الفطيرتين،

بما أنه يوجد ٤ يحبون الجبن واللبنة

فضع ٤ في الجزء المشترك من الدائرتين.

استعمل الطرح لتحديد العدد في الجزأين المتبقين.

عدد الأشخاص الذين يحبون فطيرة الجبن = $11 - 4 = 7$

عدد الأشخاص الذين يحبون فطيرة اللبنة = $21 - 4 = 17$

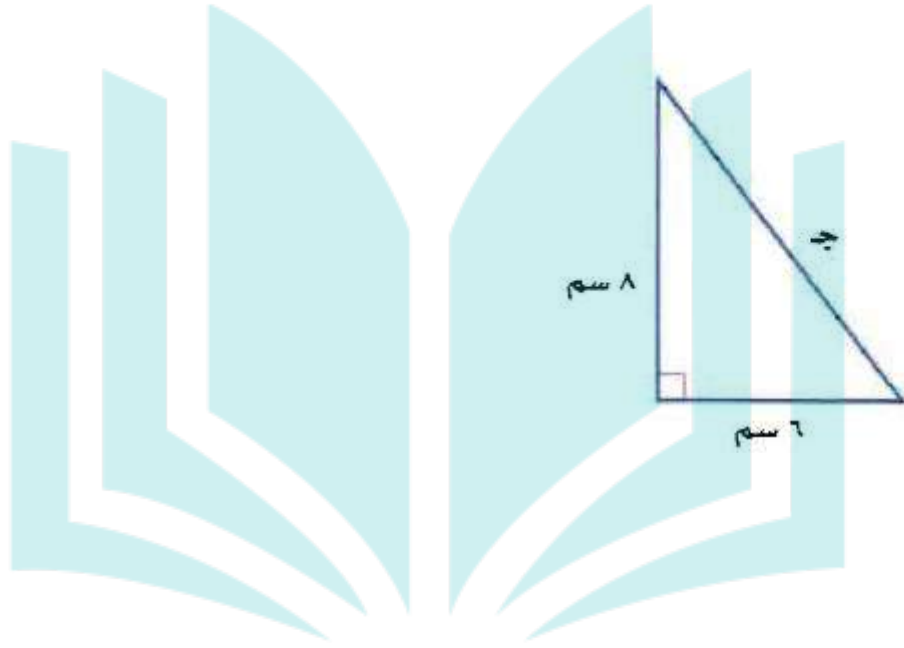
عدد الأشخاص الذين لا يحبون فطيرة الجبن وفطيرة اللبنة

= $50 - 11 - 4 - 17 = 18$ شخصاً.

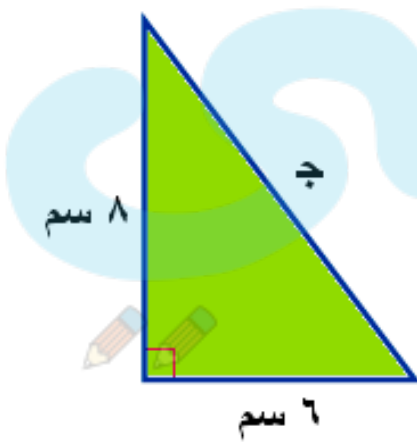
تحقق

تأكد أن كل دائرة تمثل العدد المناسب من الطلاب.

اكتب معادلة يمكن استعمالها لإيجاد طول الضلع
المجهول في كل مثلث قائم الزاوية، ثم أوجد الطول
المجهول مقربًا إلى أقرب عُشر :



١٢



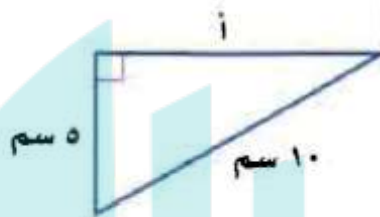
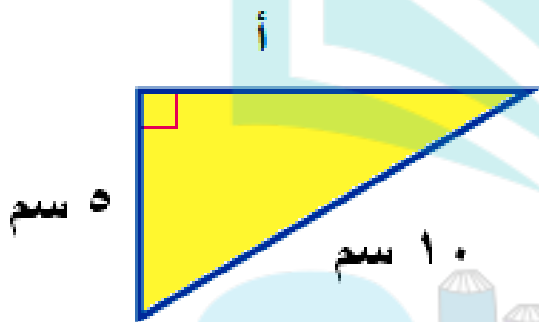
نظرية فيثاغورس

$$ج^2 = أ^2 + ب^2$$

$$ج^2 = 6^2 + 8^2$$

$$ج^2 = 36 + 64 = 100$$

$$ج = \sqrt{100} = 10 \text{ سم}$$



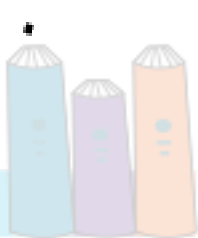
$$ج^2 = أ^2 + ب^2$$

$$10^2 = أ^2 + 5^2$$

$$أ^2 = 10^2 - 5^2$$

$$75 = 100 - 25 =$$

$$أ = \sqrt{75} = 8,7 \text{ سم تقریباً.}$$



۱۴ أ = ۵۵ سم، ب = ۴۸ سم

ج = $2^2 + 2^2$

ج = $2^2 + 2^2 = 48 + 55$

$5329 = 2304 + 3025 =$

ج = $\sqrt{5329} = 73$ سم

۱۵ ب = ۱۲ م، ج = ۲۰ م

ج = $2^2 + 2^2$

$20^2 = 12^2 + 2^2$

$2^2 = 20^2 - 12^2$

$256 = 144 - 400 =$

أ = $\sqrt{256} = 16$ م.



حدد ما إذا كان كل مثلث بالأضلاع المعطاة فيما يأتي
قائم الزاوية أم لا. وتحقق من إجابتك:

١٦ سم، ٢٠ سم، ٢٤ سم.

$$ج \quad 2^2 = 2^2 + 2^2$$

$$24^2 = 20^2 + 12^2$$

$$576 = 400 + 144$$

$$576 \neq 544$$

إذن المثلث ليس قائم الزاوية.

١٧ سم، ٣٠ سم، ٣٤ سم.

$$ج \quad 2^2 = 2^2 + 2^2$$

$$34^2 = 30^2 + 16^2$$

$$1156 = 900 + 256$$

$$1156 = 1156$$

إذن المثلث قائم الزاوية.

١٨ م ١٥، م ٢٥، م ٢٠.

$$ج \quad 2^2 = 2^2 + 2^2$$

$$25 = 15^2 + 20^2$$

$$625 = 225 + 400$$

$$625 = 625$$

إذن المثلث قائم الزاوية.

١٩ م ٧، م ١٤، م ١٥ سم.

$$ج \quad 2^2 = 2^2 + 2^2$$

$$15 = 7^2 + 14^2$$

$$225 = 49 + 196$$

$$225 \neq 254$$

إذن المثلث ليس قائم الزاوية.

يلعب سعد بطائرته الورقية.

اختيار من متعدد:



أيّ القياسات الآتية هي الأقرب لطول الخيط؟

(ج) ٩٧ م

(أ) ١٣١ م

(د) ٦٣ م

(ب) ٨٣ م



$$ج^2 = أ^2 + ب^2$$

$$ج^2 = 90^2 + 36^2$$

$$= 8100 + 1296 = 9396$$

$$ج = \sqrt{9396} = 96,6$$

$$= 97 \text{ تقريباً.}$$



٢١ قياس: احسب محيط مثلث قائم الزاوية طولاً

ساقيه ١٠ سم، ٨ سم.

$$ج \quad 2^2 = 2^2 + 2^2$$

$$ج \quad 2^2 = 2^2 + 2^2$$

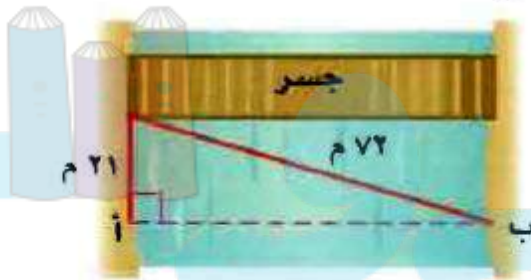
$$164 = 64 + 100 =$$

$$ج = \sqrt{164} = 12,8 \text{ سم}$$

٢٢ مسح: أراد فريق مسحي إيجاد المسافة من النقطة أ

إلى ب أي (عرض النهر)، ما عرضه مقرباً إلى أقرب

جزء من عشرة؟



$$ج \quad 2^2 = 2^2 + 2^2$$

$$2^2 + 2^2 = 72$$

$$2^2 - 72 = 2^2$$

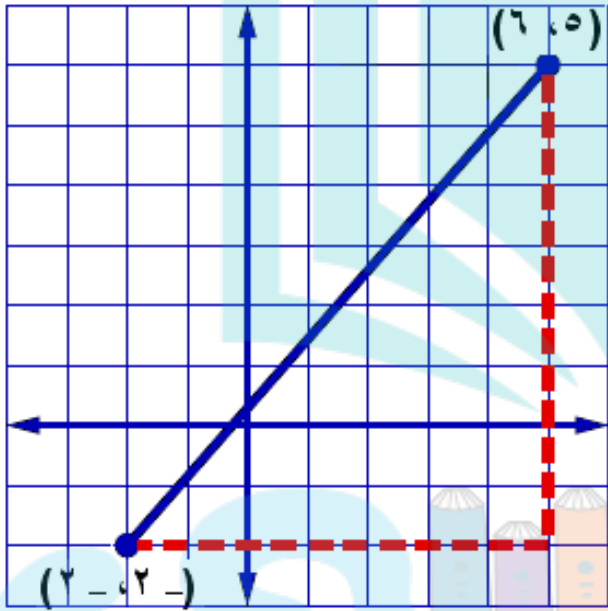
$$4743 = 441 - 5184 =$$

$$أ = \sqrt{474} = 68,9 \text{ م.}$$



مثل كل زوج مرتب مما يأتي، ثم احسب المسافة بين كل نقطتين مقرباً إلى أقرب جزء من عشرة إذا لزم ذلك:

$$(6, 5), (-2, -2) \quad \text{٣٣}$$



$$ج \quad 2^2 + 2^2 = 2^2$$

$$ب \quad 7 = (-2) - 5 = 7$$

$$ب \quad 8 = (-2) - 6 = 8$$

$$ج \quad 2^2 + 2^2 = 2^2$$

$$49 + 64 =$$

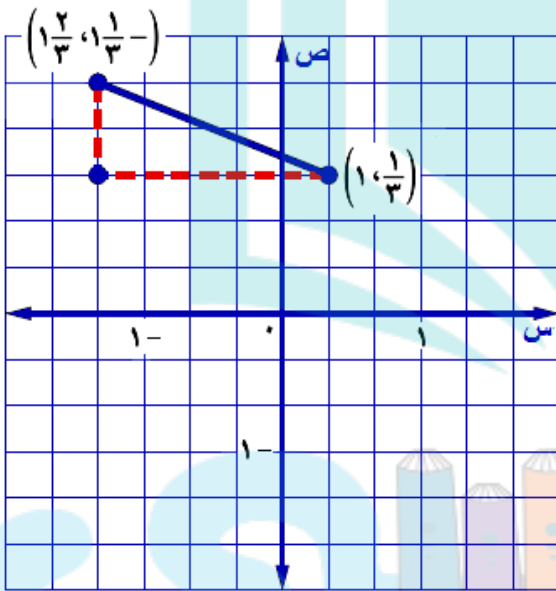
$$113 =$$

$$ج \quad \sqrt{113} =$$

$$ج \quad 10,6 = \text{وحدة تقريبا.}$$



٢٤ $(1, \frac{1}{3}), (-1, \frac{1}{3}), (-\frac{2}{3}, 1)$



ج $a^2 + b^2 = c^2$

$(\frac{2}{3})^2 + (\frac{5}{3})^2 =$

$\frac{4}{9} + \frac{25}{9} =$

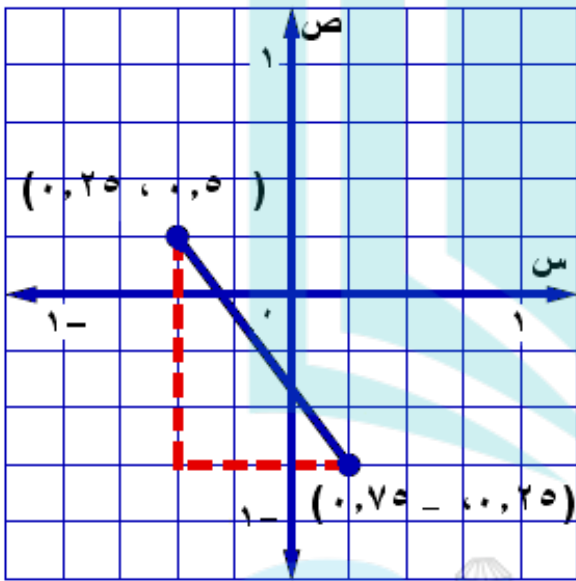
$\frac{29}{9} =$

ج $\sqrt{\frac{29}{9}} =$

ج $\frac{5,4}{3} = 1,8$ وحدة تقريباً.



$$(0, 75 - 0, 25), (0, 25 - 0, 5) \quad 25$$



$$ج = 2^2 + 2^2$$

$$ج = 2^2 + 0,75^2$$

$$0,75 = (0,5 -) - 0,25 = أ$$

$$ب = (0,25) - 0,75 = -$$

$$1 + 0,5625 =$$

$$1,5625 =$$

$$ج = \sqrt{1,5625}$$

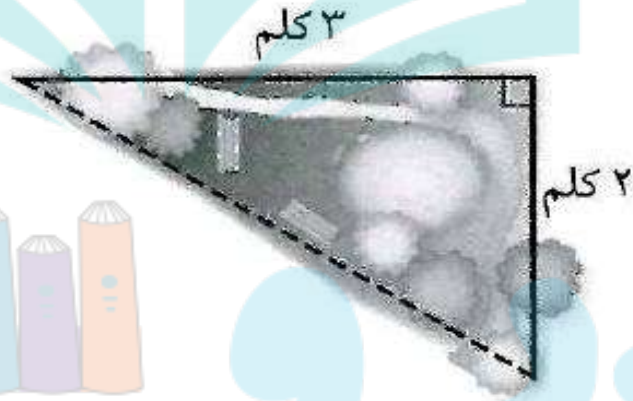
$$ج = 1,25 \text{ وحدة.}$$



اختبار تراکمي

القسم ١: اختبار من متعدد

١ اعتاد عيسى أن يمشي حول مزرعته ، فمشي في أحد الأيام ٢ كلم على جانب منها، ثم ٣ كلم على الجانب الآخر، ثم قطع المزرعة كما هو مبين في الخط المنقط . كم كيلومتراً تقريباً مشى داخل الحديقة فقط ليعود إلى نقطة البداية؟



(ج) ٢, ٥ كلم

(د) ١٣ كلم

(ا) ٣ كلم

(ب) ٦, ٣ كلم

$$\text{تأ } 9 + 4 = 13 = \text{تأ } ٦, ٣ \text{ كلم}$$

الاختيار الصحيح: (ب) ٦, ٣ كلم

٢ أراد عماد اختيار عدد قريب من ٥ . فأَيُّ عدد غير نسبي مما يأتي عليه أن يختار؟

(ج) $\sqrt{20}$

(ا) $\sqrt{30}$

(د) $\sqrt{18}$

(ب) $\sqrt{27}$

اقرب عدد لـ ٥ هو اقرب عدد لـ $\sqrt{25}$

الإجابة الصحيحة: (ب) $\sqrt{27}$

٣ يبعد القمر حوالي $3,84 \times 10^5$ كيلومتر عن الأرض. عبّر عن هذا البعد بالصيغة القياسية.

(ج) 384000 كلم

(أ) 384000000 كلم

(د) 384000000 كلم

(ب) 3840000000 كلم

$$384000 = 10^5 \times 3,84$$

الاختيار الصحيح: (ج) 384000 كلم

٤ العددان اللذان يقع بينهما $\sqrt{250}$ هما:

(ج) ١٧، ١٦

(أ) ١٥، ١٤

(د) ١٨، ١٧

(ب) ١٦، ١٥

$$220 > 250 > 256$$

$$10 > \sqrt{250} > 16$$

الجواب الصحيح: (ب) ١٥، ١٦

٥ يتكئ سلم طوله ٢٥ م على حائط عمودي بحيث

يبعد أسفل السلم ٧ م من الحائط، أوجد ارتفاع

الحائط.

(ج) ٣٢ م

(أ) ٢٤ م

(د) ٣٥ م

(ب) ٢٦ م

$$\text{ارتفاع الحائط} = \sqrt{625 - 49} = \sqrt{576} = 24$$

الاختيار الصحيح: (أ) ٢٤ م

إرشادات للاختبار

السؤال ٥: تذكر أن الوتر في المثلث القائم الزاوية يقابل الزاوية القائمة دائمًا.

٦ أجريت دراسة مسحية لـ ١٠٠ طالب في المرحلة المتوسطة، فوجد أن ٤٨ طالبًا منهم في الكشافة، ٥٢ في النشاط الرياضي، ٥٠ في النشاط العلمي، و١٦ طالبًا في الكشافة والنشاط العلمي معًا، ٢٢ طالبًا في النشاط العلمي والنشاط الرياضي، ١٨ طالبًا في الكشافة والنشاط الرياضي، ٦ طلاب في الكشافة والنشاطين الرياضي والعلمي. ما عدد الطلاب في النشاط العلمي فقط؟



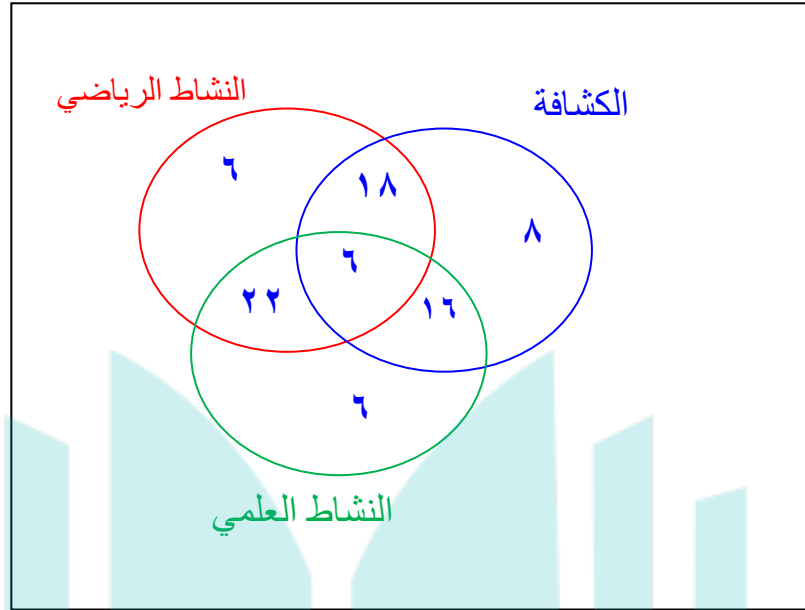
(ج) ١٨ طالبًا

(أ) ٢٠ طالبًا

(د) ٦ طلاب

(ب) ١٢ طالبًا

الاختيار الصحيح: (د) ٦ طلاب




يبلغ قطر خلية الدم الحمراء $7,4 \times 10^{-4}$ سم تقريباً،
عبر عن طول القطر بالصيغة العلمية.

- (ج) $10 \times 7,4 \times 10^{-3}$ (ا) $10 \times 7,4 \times 10^4$
(د) $10 \times 7,4 \times 10^{-4}$ (ب) $10 \times 7,4 \times 10^3$

$$4^{-10} \times 7,4 = 0,00074$$

الاختيار الصحيح: (د) $4^{-10} \times 7,4$

أيُّ نقطة على خط الأعداد هي أفضل تمثيل 

للعدد $\sqrt{8}$ ؟



(ج) هـ

(أ) ف

(د) ل

(ب) ق



الاختيار الصحيح: (ج) النقطة هـ



يريد معلم الرياضيات تنظيم مقاعد الصف على شكل مربع. إذا كان هناك 64 مقعدًا، فكم مقعدًا يضع في كل صف؟

(ج) 9

(ا) 7

(د) 10

(ب) 8

$$8 = \sqrt{64}$$

الاختيار الصحيح: (ب) 8

دروني



القسم ٢: الإجابة القصيرة



أجب عن الأسئلة الآتية:

١٠ اكتب معادلة يمكن استعمالها لإيجاد طول الضلع المجهول في مثلث قائم الزاوية، طول وتره: ١٠١ سم، وطول أحد ساقيه: ٩٩ سم، ثم أوجد الطول المجهول.

نفرض ان الطول المجهول س

$$س = \sqrt{101^2 - 99^2}$$

$$س = ٢٠ سم$$



اكتب كسرًا محصورًا بين $\frac{4}{5}$ و $\frac{5}{6}$ 

$$\frac{50}{60} = \frac{5}{6} , \frac{48}{60} = \frac{4}{5}$$

الكسر المحصور بينهم هو $\frac{49}{60}$

يبين الجدول التالي أطوال ثلاثة إخوة . كم يزيد طول صلاح على طول عبد العزيز؟ 

الأخ	الطول (بالسنتيمترات)
عبد العزيز	$131 \frac{1}{4}$
نايف	$127 \frac{3}{4}$
صلاح	$139 \frac{1}{8}$

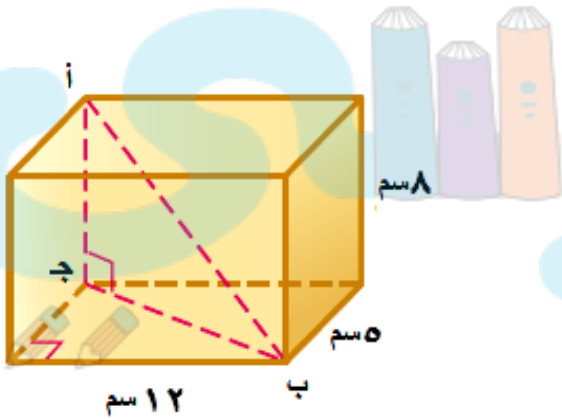
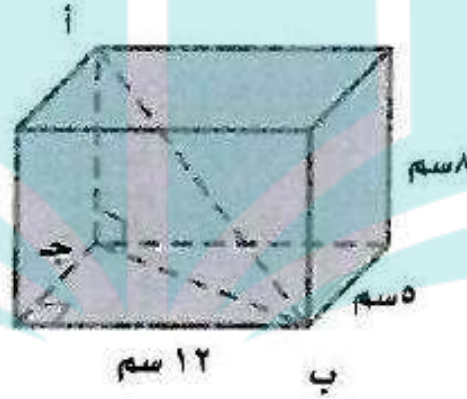
$$7 \frac{7}{8} = 131 \frac{1}{4} - 139 \frac{1}{8}$$



القسم ٣: الإجابة المطولة

أجب عن السؤال الآتي موضحًا خطوات الحل.

١٣ أوجد طول أب في متوازي المستطيلات الآتي مقربًا الإجابة إلى أقرب جزء من عشرة إذا لزم الأمر. (إرشاد: أوجد طول ب ج أولاً)



$$ب ج = \sqrt{169} = \sqrt{25 + 144} = 13$$

$$أ ب = \sqrt{233} = \sqrt{169 + 64} = 15,3$$

هل تحتاج إلى مساعدة إضافية؟

إذا لم تجب عن السؤال

فراجع الدرس

١٣	١٢	١١	١٠	٩	٨	٧	٦	٥	٤	٣	٢	١
٧-٢	٥-١	٢-١	٥-٢	١-٢	٢-٢	٩-١	٣-٢	٦-٢	٢-٢	٩-١	٢-٢	٦-٢